


- En un àlbum hi ha 43 fotos i 12 diapositives i en un altre 39 fotos.  
Quantes fotos hi ha entre tots dos?


**REPRESENTACIÓ VISUAL**



**OPERACIÓ**



**DADES**




**RESPOSTA**

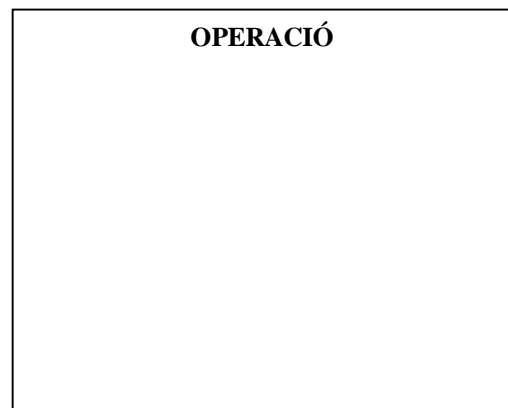
\_\_\_\_\_

- A la cuina hi ha 12 recipients. En un recipient hi ha 87 litres d'oli i se'n treuen 38. Quants litres d'oli queden?

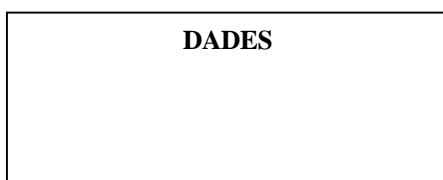
**REPRESENTACIÓ VISUAL**



**OPERACIÓ**



**DADES**



**RESPOSTA**

\_\_\_\_\_