


- En una escola hi ha 125 alumnes. Al pati hi havia 27 nens i n'han marxat 12. Quants nens queden al pati?


REPRESENTACIÓ VISUAL



OPERACIÓ




DADES



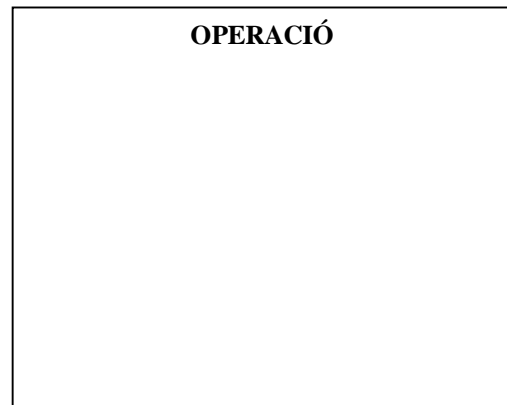
RESPOSTA

- Aquesta setmana anirem al teatre. Cada entrada val 15 euros. Al teatre hi ha 82 butaques. S'han venut 45 entrades. Quantes butaques lliures hi queden?


REPRESENTACIÓ VISUAL



OPERACIÓ



DADES



RESPOSTA
