



- Ahir a la tarda vaig anar al bosc i em vaig menjar 4 meitats de castanya. Quantes castanyes em vaig menjar?


REPRESENTACIÓ VISUAL



OPERACIÓ



DADES



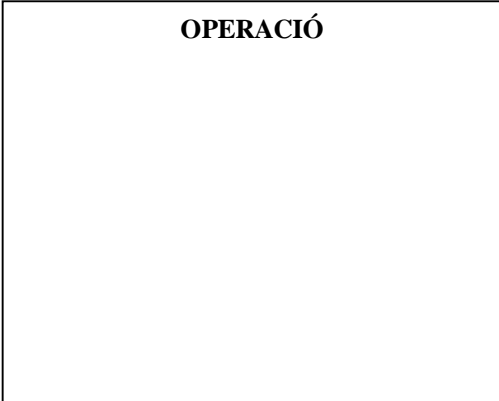
RESPOSTA

- La Laia es va menjar 3 meitats de bolet. Si tenia 5 bolets, quants bolets li queden ?

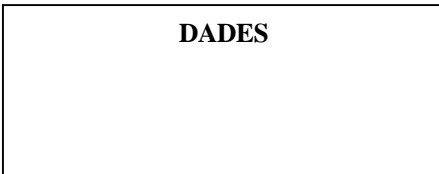
REPRESENTACIÓ VISUAL



OPERACIÓ



DADES



RESPOSTA
