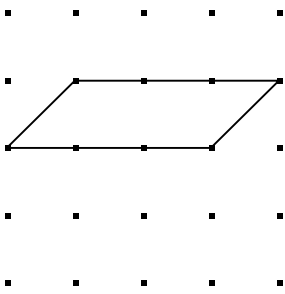


Construeix:

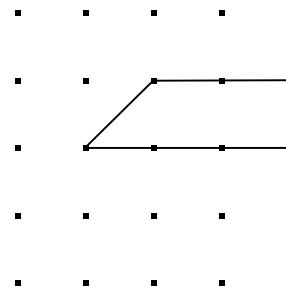
1. Un paral·lelogram en el geoplà amb 2 angles de 45 graus i 2 angles de 135 graus.
2. Un trapezoide en el geoplà que tingui 1 angle de 45 graus, 1 de 135 graus i 2 de 90 graus.
3. Un rectangle en el geoplà amb la condició que tingui 4 angles de 90 graus.
4. Si sumes els 4 angles de cada figura, que et dóna?

Solució

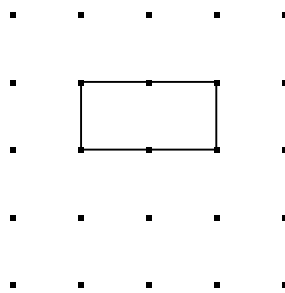
(1)



(2)



(3)



(4) 360°

