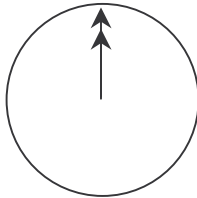
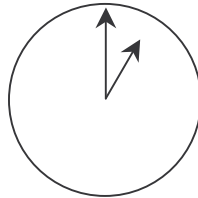

FER UN XAT

Mark (de Sidney, Austràlia) i Hans (de Berlín, Alemanya) es comuniquen sovint a través d'Internet mitjançant el "xat". Per poder fer el "xat" han de connectar-se a Internet tots dos alhora.

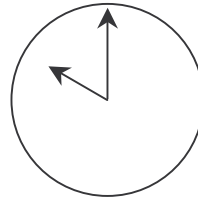
Per trobar una hora apropiada per al "xat", Mark va buscar un mapa horari mundial i va trobar el següent:



Greenwich 12 de la nit



Berlín 1:00 de la nit



Sidney 10:00 del matí

Pregunta 1: FER UN XAT

Quan són les 7:00 de la tarda a Sidney, quina hora és a Berlín?

Pregunta 2: FER UN XAT

Mark i Hans no poden mantenir el “xat” entre les 9:00 del matí i les 4:30 de la tarda, de les seves respectives hores locals, perquè han d'anar al col·legi. Tampoc no ho poden fer des de les 11:00 de la nit fins a les 7:00 del matí de les seves respectives hores locals perquè estaran dormint.

A quines hores podrien fer el “xat” Mark i Hans? Escriu les respectives hores locals a la taula.

Lloc	Hora
Sidney	
Berlín	