

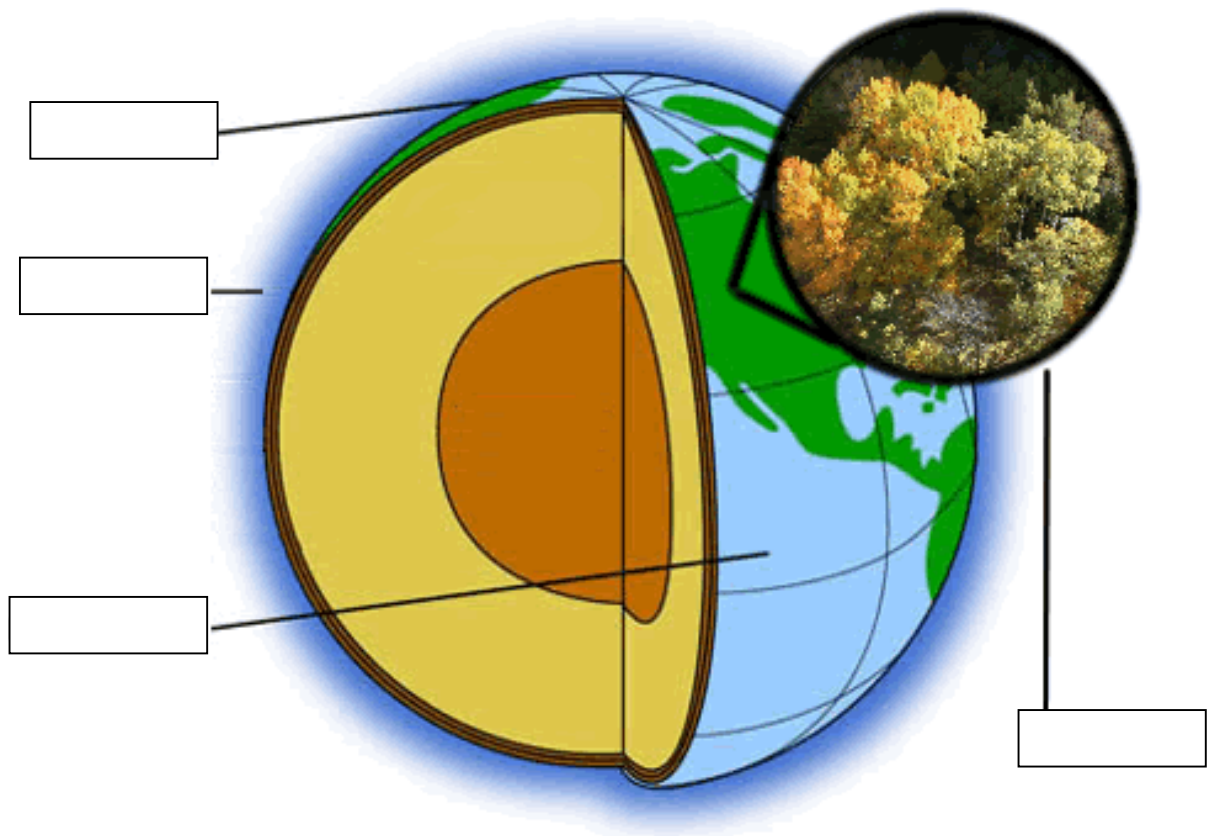
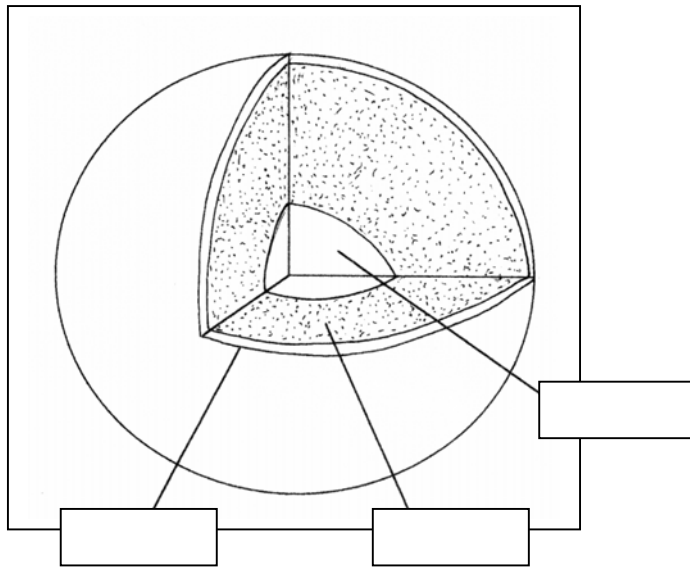
**Estructura de la Terra: continents i oceans**

**Avaluació final**

1. Omple els requadres amb els conceptes següents:

Per dins: mantell, escorça, nucli.

Per fora: litosfera, hidrosfera, atmosfera.



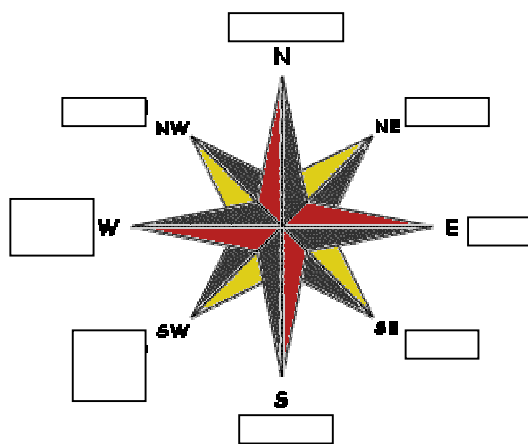
**2. Aquest requadre representa les capes de l'atmosfera. Pinta núvols a la part corresponent, situa la capa d'ozó i escriu el nom de les capes atmosfèriques: ionosfera, estratosfera i troposfera.**

The image shows a vertical rectangular frame divided into three horizontal sections. The top section is the largest, the middle section is smaller, and the bottom section is the smallest. This frame is intended for a student to draw the layers of the atmosphere (ionosphere, stratosphere, and troposphere) and to place clouds in the appropriate layer.


3. Quins elements formen part del temps atmosfèric?

4. Escriu cinc frases relacionades amb el temps atmosfèric:

5. Completa la rosa dels vents:

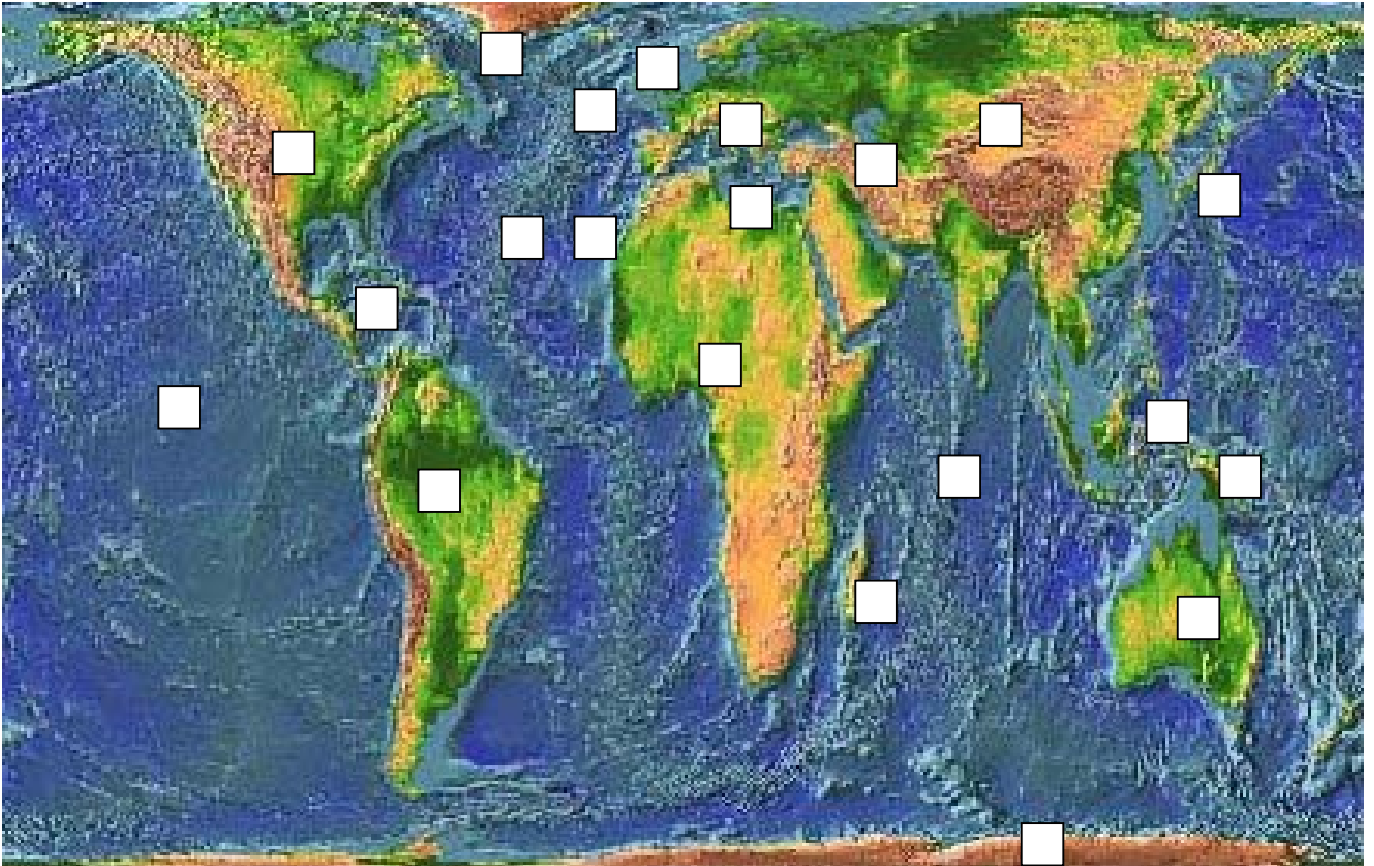


6. Escriu en els requadres del cicle de l'aigua: precipitació, evaporació i filtració.



7. Ordena de més gran a més petit els diferents continents del planeta:

8. En aquest planisferi, identifica els continents, oceans, mars, illes i arxipèlags amb el número que hi ha a la llegenda.



Llegenda:

Oceans: 1: Atlàntic, 2: Pacífic, 3: Índic, 4: Oceà Glacial Àrtic

Continents: 5: Europa, 6: Àsia, 7: Àfrica, 8: Amèrica, 9: Oceania, 10: Antàrtida

Mars, illes i arxipèlags: 11: Antilles, 12: Madagascar, 13: Canàries, 14: Mediterrània, 15: Nova Guinea, 16: Japó, 17: Groenlàndia, 18: Illes Britàniques, 19: Filipines, 20: Mar Càspia