

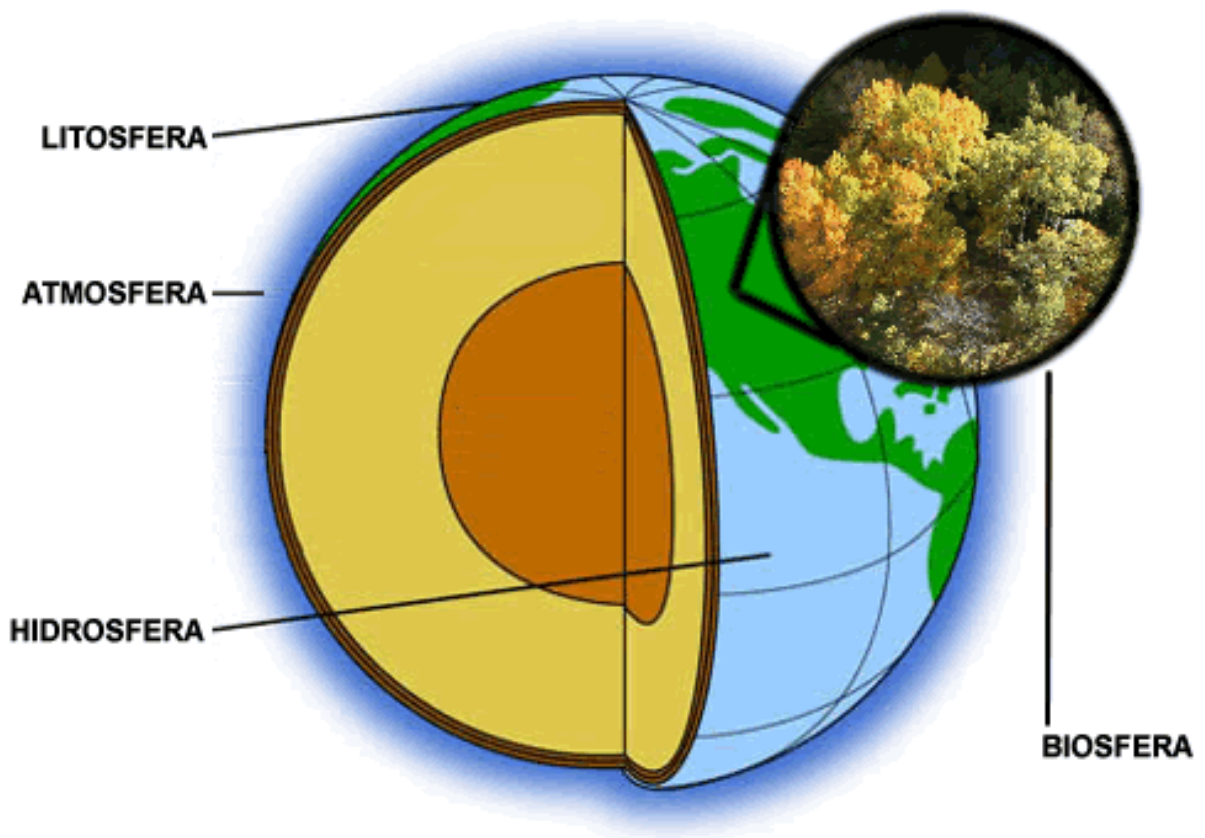
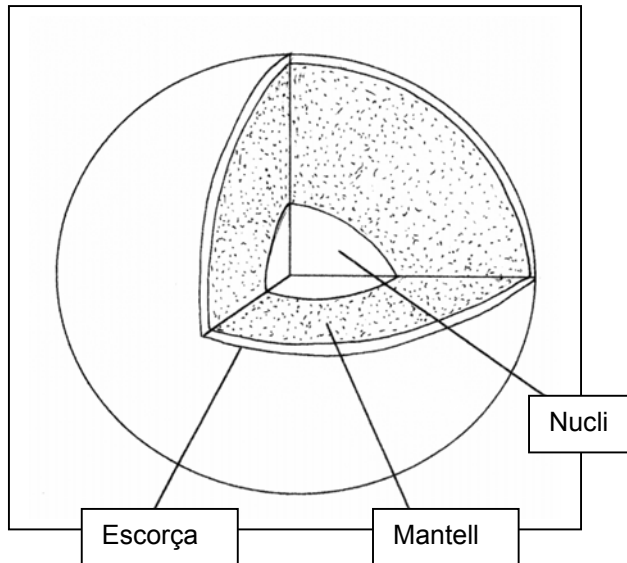
Estructura de la Terra: continents i oceans

Avaluació sumativa o final


1. Omple els requadres amb els conceptes següents:

Per dins: mantell, escorça, nucli.

Per fora: litosfera, hidrosfera, atmosfera.



2. Aquest requadre representa les capes de l'atmosfera. Pinta núvols a la part corresponent, situa la capa d'ozó i escriu els noms de les capes atmosfèriques: ionosfera, estratosfera i troposfera.

Ionosfera
Estratosfera Capa d'ozó
Troposfera 

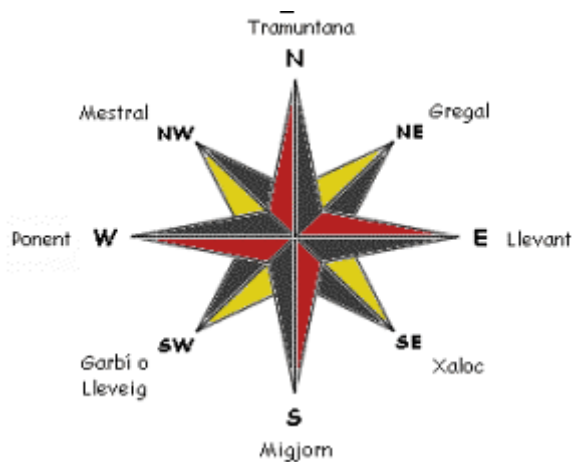
3. Quins elements formen part del temps atmosfèric?

Les temperatures i les precipitacions

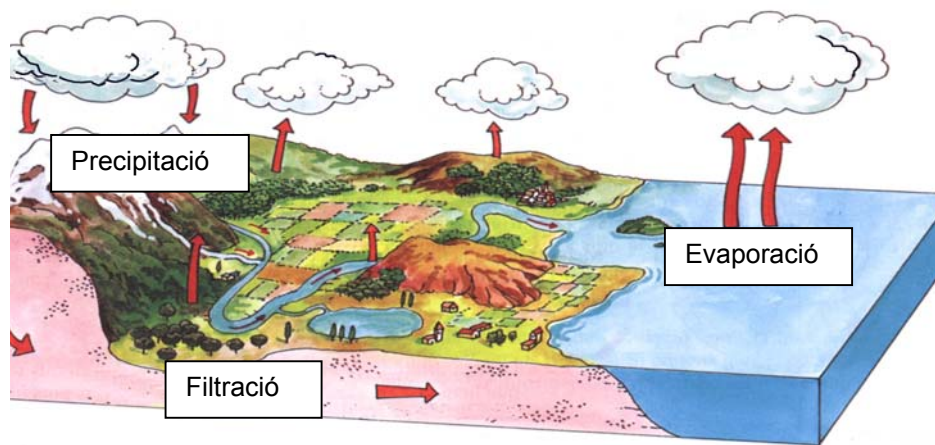
4. Escriu cinc frases relacionades amb el temps atmosfèric:

- . Avui plourà
- . Quin fred que fa!
- . M'agrada el temps càlid
- . Les temperatures són baixes
- . Aquest cap de setmana hi haurà una gran nevada

5. Completa la rosa dels vents:

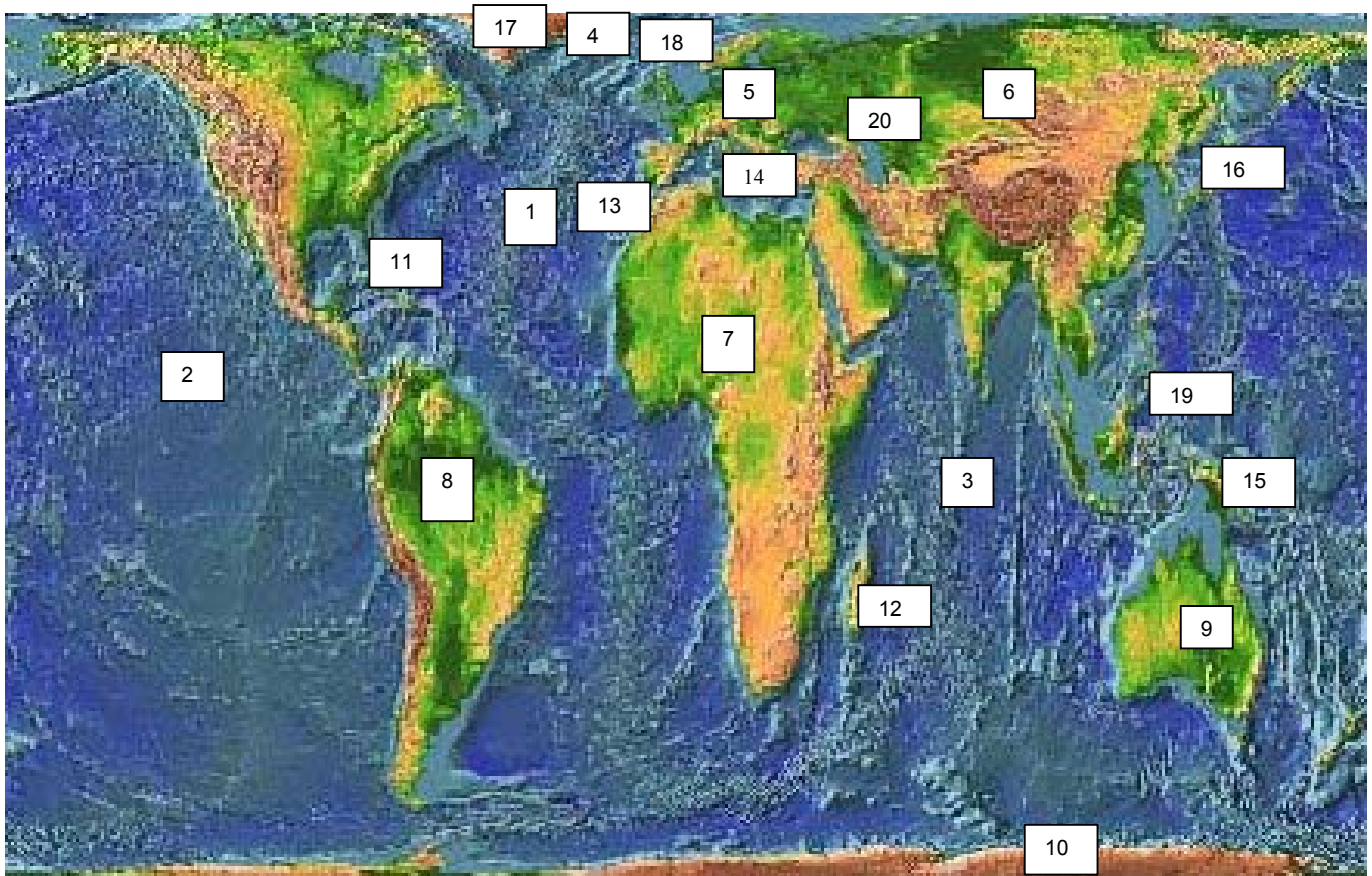


6. Escriu en els requadres del cicle de l'aigua: precipitació, evaporació i filtració.



7. Ordena de més gran a més petit els diferents continents del planeta:
Àsia, Amèrica, Àfrica, Antàrtida, Europa, Oceania.

8. En aquest planisferi, identifica els continents, oceans, mars, illes i arxipèlags amb el número que hi ha a la llegenda.



Llegenda:

Oceans: 1: Atlàntic, 2: Pacífic, 3: Índic, 4: Oceà Glacial Àrtic

Continents: 5: Europa, 6: Àsia, 7: Àfrica, 8: Amèrica, 9: Oceania, 10: Antàrtida

Mars, illes i arxipèlags: 11: Antilles, 12: Madagascar, 13: Canàries, 14: Mediterrània, 15: Nova Guinea, 16: Japó, 17: Groenlàndia, 18: Illes Britàniques, 19: Filipines, 20: Mar Càspia