

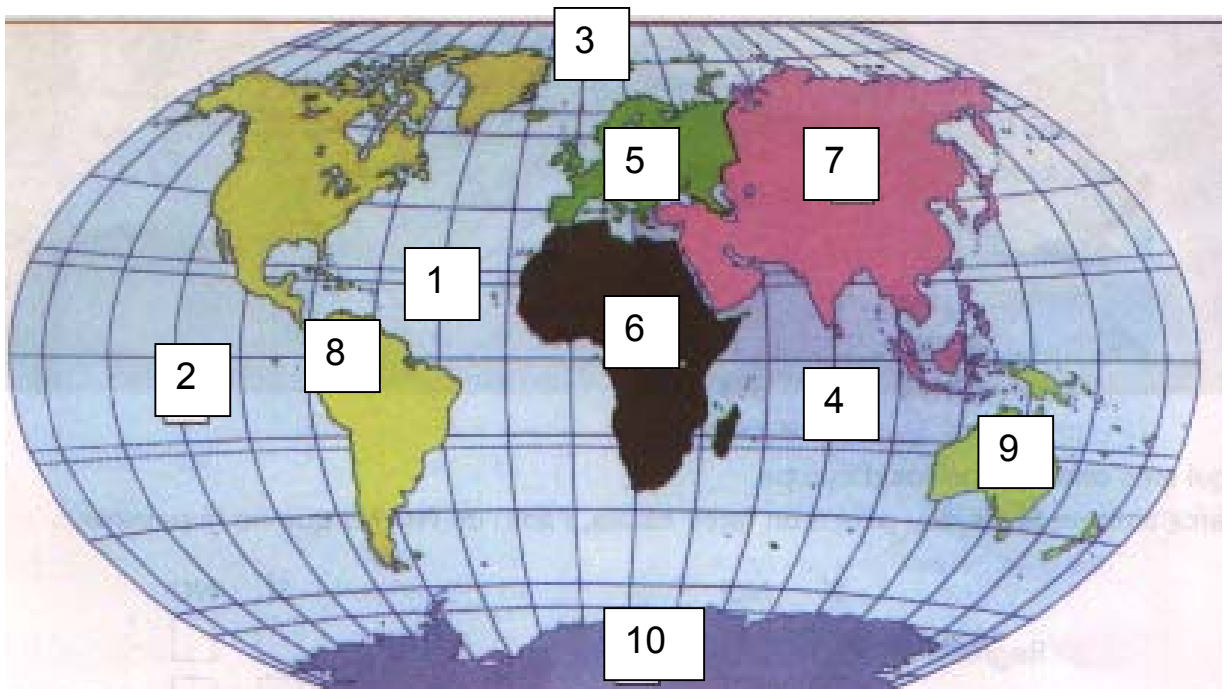
Estructura de La Terra: continents i oceans

Avaluació inicial

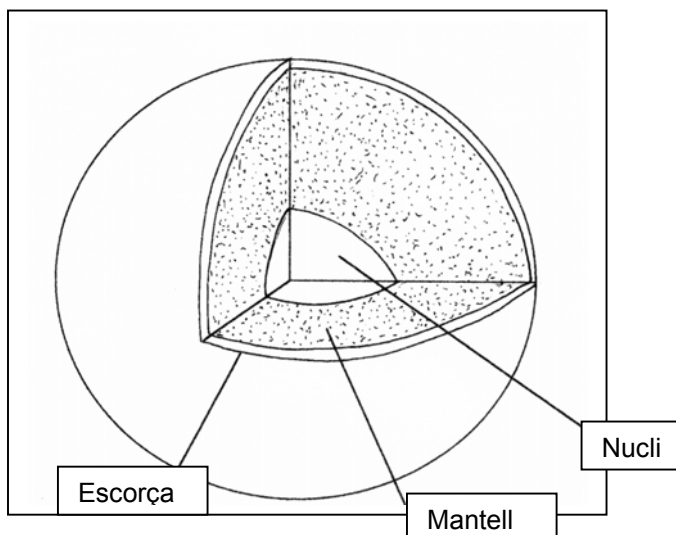
1. Quins són els oceans i els continents de la Terra? Situa'ls en el planisferi.

Oceans: 1: Atlàntic, 2: Pacífic, 3: Oceà Glacial Àrtic, 4: Índic

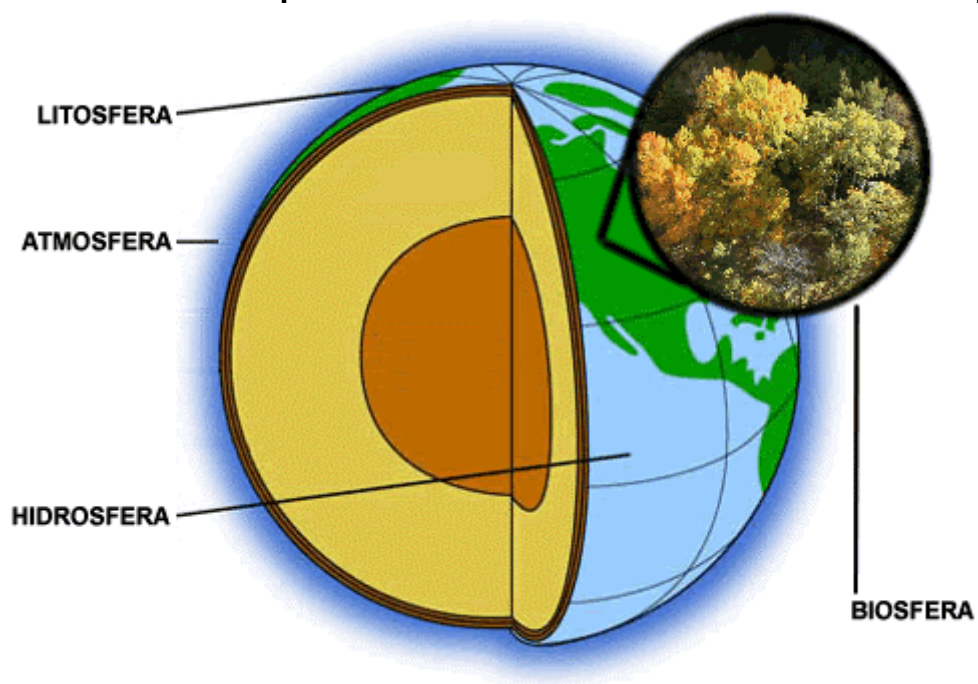
Continents: 5: Europa, 6: Àfrica, 7: Àsia, 8: Amèrica, 9: Oceania, 10: Antàrtida



2. Com és la Terra per dins? Fes un dibuix i escriu el nom de les seves capes interiors.



3. Com és la Terra per fora? Fes un dibuix i escriu el nom de les parts.



4. Relaciona amb fletxes:

Atmosfera	→	Capa líquida que envolta la Terra.
Litosfera	→	Capa de gasos que envolta la Terra
Hidrosfera	→	Capa sòlida que envolta la Terra