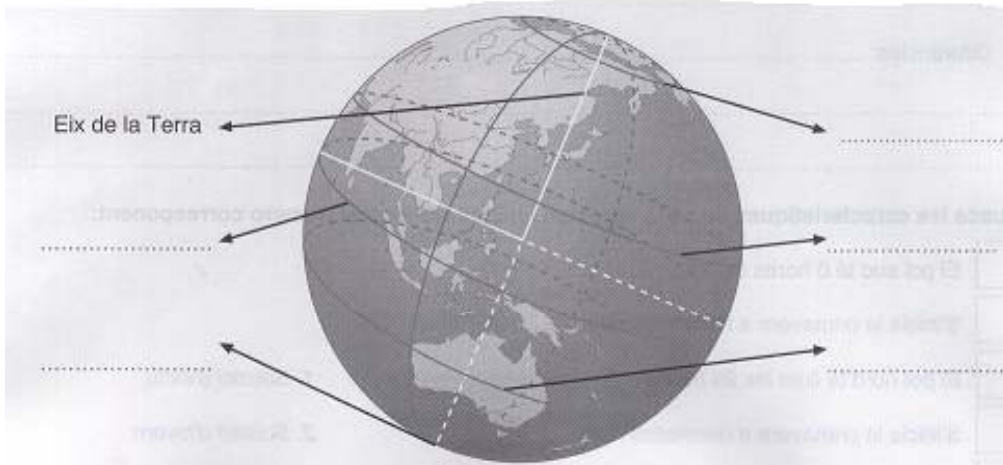


Localitzar llocs de la Terra

Activitats

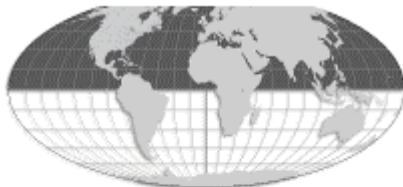
1. Escriu: equador, meridià, tròpic de Càncer, tròpic de Capricorn, cercle polar àrtic.



Vicens Vives

2. Escriu al lloc corresponent el nom de cada hemisferi.

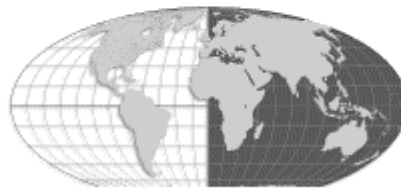
hemisferi



hemisferi



hemisferi



hemisferi

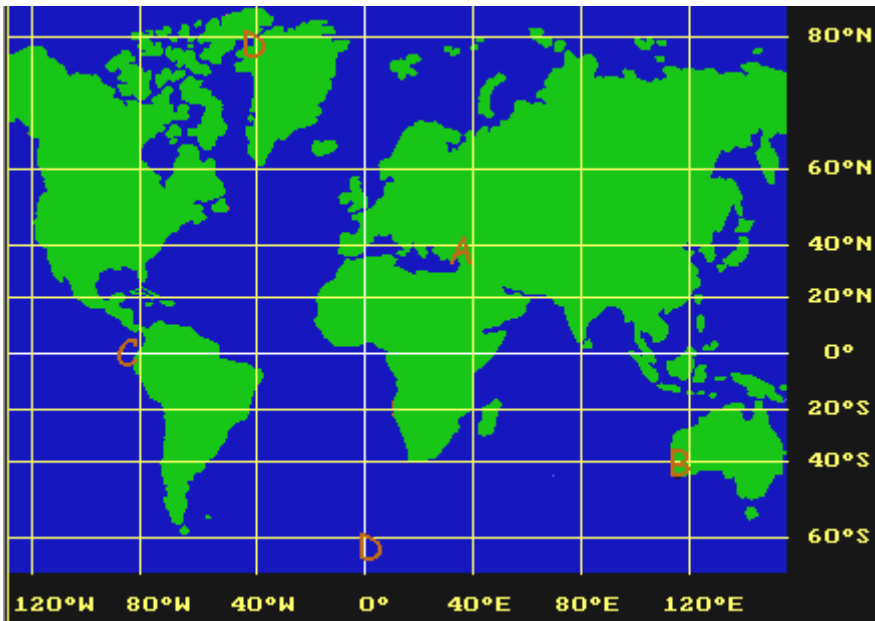
3. Escriu al costat de cada lletra les coordenades: (latitud N o S i longitud E o O).

A:

B:

C:

D:



4. Escriu verdader (V) o fals (F):

La latitud és la distància d'un punt a l'equador.

La latitud pot ser est o oest.

La longitud és la distància d'un punt al meridià zero.

L'equador divideix la Terra en hemisferi nord i hemisferi sud.