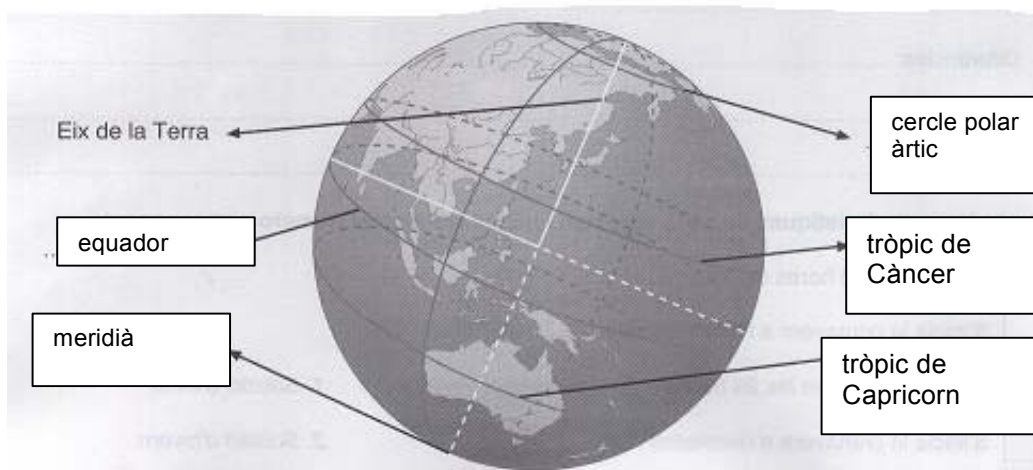


**Localitzar llocs de la Terra**

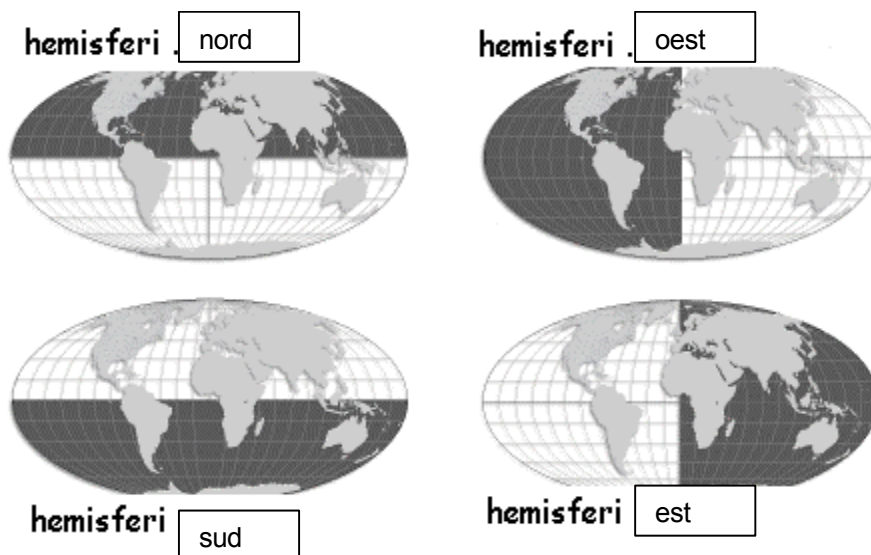
**Solucionari activitats**

1. Escriu: equador, meridià, tròpic de Càncer, tròpic de Capricorn, cercle polar àrtic.



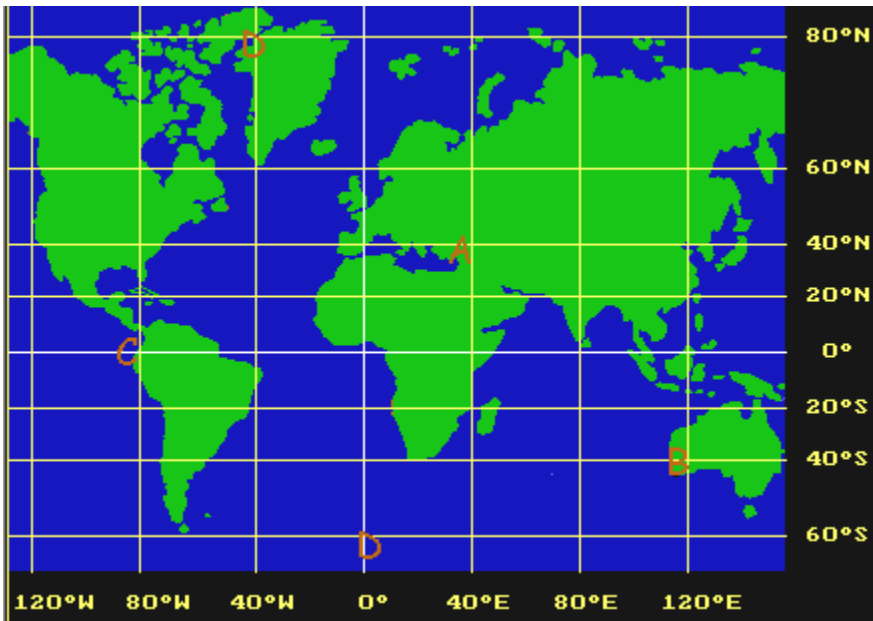
Vicens Vives

2. Escriu al lloc corresponent el nom de cada hemisferi.



3. Escriu al costat de cada lletra les coordenades: (latitud N o S i longitud E o O).

- A: latitud nord, longitud est
- B: latitud sud, longitud est
- C: latitud 0°, longitud oest
- D: latitud nord, longitud oest



4. Escribe verdader (V) o fals (F):

La latitud és la distància d'un punt a l'equador.

La latitud pot ser est o oest.

La longitud és la distància d'un punt al meridià zero.

L'equador divideix la Terra en hemisferi nord i hemisferi sud.