

El relleu. Unitats i formes de relleu

Avaluació final

1. Situa al mapa de la península Ibèrica els límits i els accidents geogràfics següents:

RIUS: 1: Ebre 2: Tajo 3: Guadiana 4: Guadalquivir 5: Duero

CAPS: 6: de Creus 7: de Gata 8: de Palos 9: Finisterre

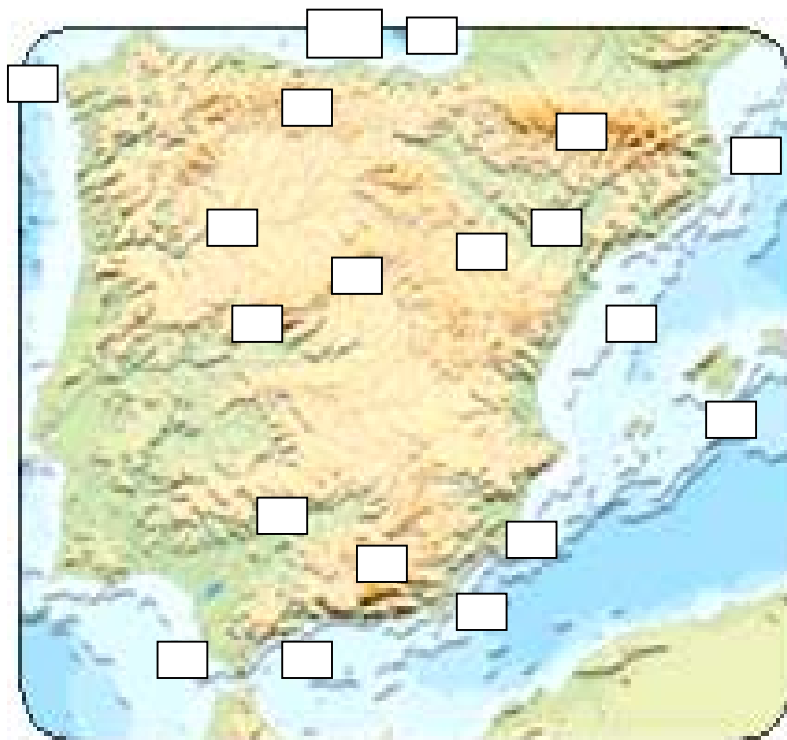
GOLFS: 10: de Cadis 12: de Biscaia

MARS: 13: Mediterrani 14: Cantàbric

ILLES: 15: Balears

ESTRETS: 16: de Gibraltar

SERRALADES: 17: Cantàbrica 18: Pirineus 19: Sistema Central 20: Sistema Ibèric 21: Sistema Bètic



2. Situa al mapa de Catalunya els límits i els accidents geogràfics següents:

RIUS: 1: Ebre 2: Ter 3: Llobregat 4: Besòs 5: Francolí 6: Segre

CAPS: 7: de Creus 8: de Salou

GOLFS: 9: de Roses

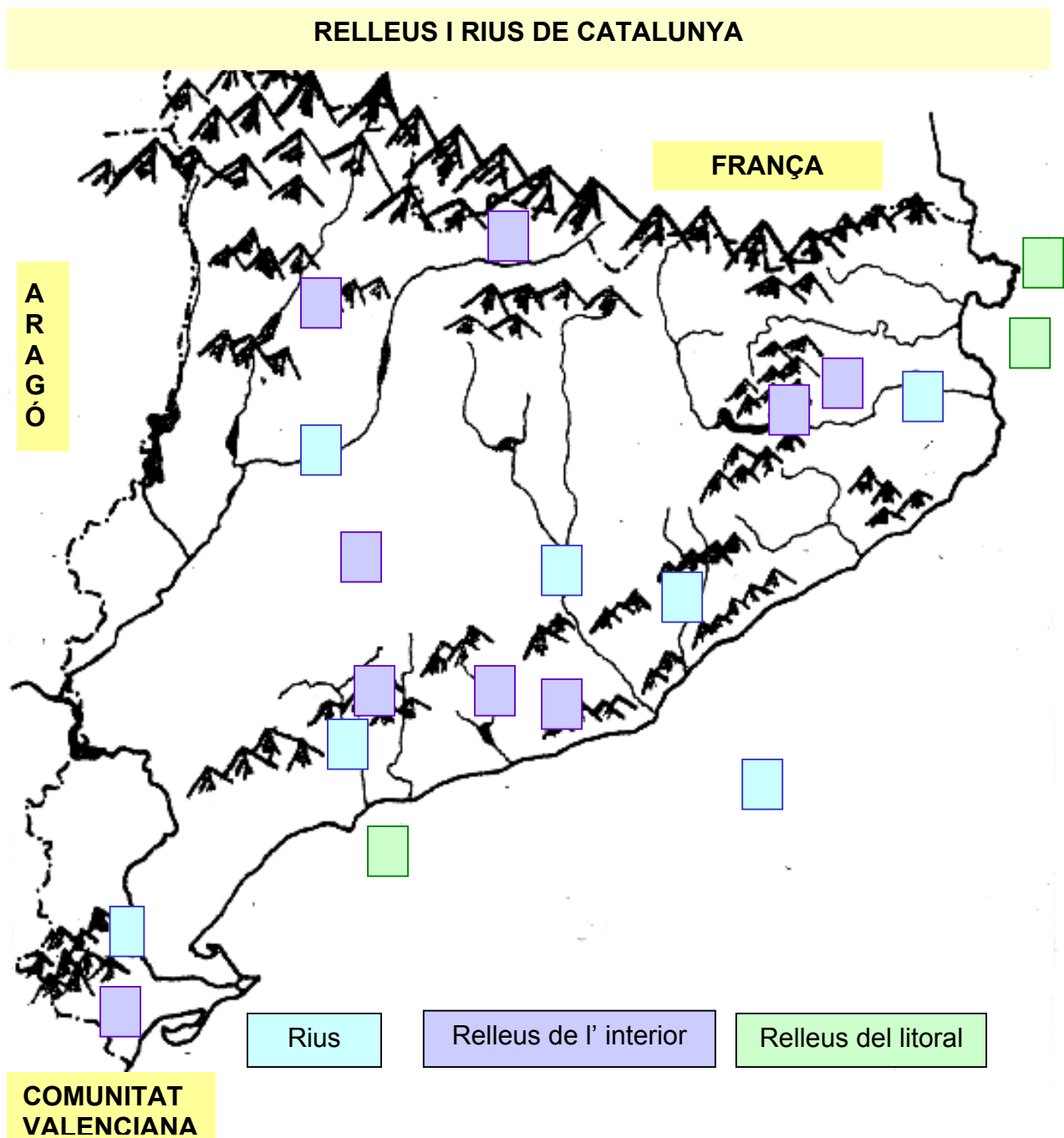
MAR: 10: Mediterrània

SERRALADES: 11: Pirineu 12: Prepirineu 13: Serralada Transversal 14:

Serralada Litoral 15: Serralada Prelitoral

ALTRES RELLEUS: 16: Delta de l'Ebre 17: Depressió Central 18: Depressió

Prelitoral 19: plana de l'Empordà



3. Omple el quadre següent:

Principals accidents geogràfics del món

Mars i oceans	Continents	Golfs	Caps	Illes i arxipèlags	Serralades	Rius	Estrets

4. Omple el quadre següent:

Principals accidents geogràfics d'Espanya


Mars i oceans	Golfs	Caps	Illes i arxipèlags	Serralades	Rius	Estrets

5. Omple el quadre següent:

Principals accidents geogràfics de Catalunya

Mars i oceans	Golfs	Caps	Illes i arxipèlags	Serralades	Rius	Estrets

6. Completa el dibuix amb: depressió, vall, península, istme, golf, badia, mar, riu, afluent, delta, albufera, illa, cap, serra, serralada, ria, turó, llac, rierol, altiplà



7. Completa les frases següents:

- Un _____ és una punta de terra endinsada al mar.
- Una _____ és una superfície quasi plana, situada a poca altitud sobre el nivell del mar.
- Un _____ és una superfície plana situada a molta altitud sobre el nivell del mar.
- Una _____ és una extensió de terreny més baixa que els terrenys que l'envolten.
- Un _____ és un entrant de mar més gran que una badia.
- Un _____ és un tros de terra que uneix una península amb un continent.

- Un _____ és un riu que desemboca en un altre més gran.
- Un _____ és un corrent d'aigua superficial que recull l'aigua de la pluja que cau sobre un territori.

8. Explica la diferència que hi ha entre:

- Cim i serralada:
- Badia i golf:
- Península i illa:
- Riu i afluent: