

El relleu. Unitats i formes de relleu Avaluació inicial

1. Situa al mapa de la península Ibèrica els límits i els accidents geogràfics següents:

RIUS: 1: Ebre 2:Tajo 3: Guadiana 4: Guadalquivir 5: Duero

CAPS: 6: de Creus 7: de Gata 8: de Palos 9: Finisterre

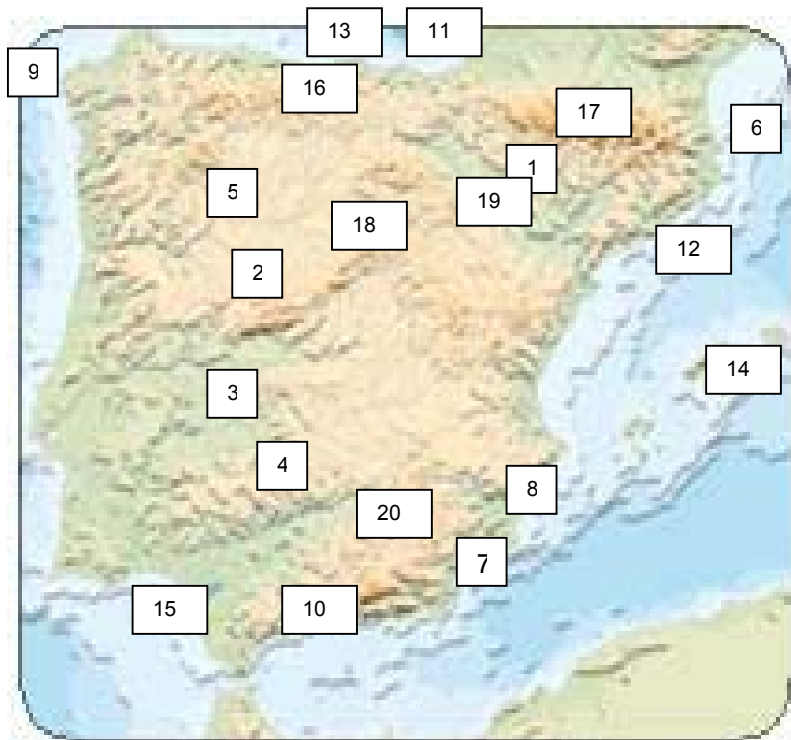
GOLFS: 10: de Cadis 11: de Biscaia

MARS: 12: Mediterrani 13: Cantàbric

ILLES: 14: Balears

ESTRETS: 15: de Gibraltar

SERRALADES: 16: Cantàbrica 17: Pirineus 18: Sistema Central 19: Sistema Ibèric 20: Sistema Bètic



2.- Situa al mapa de Catalunya els límits i els accidents geogràfics següents:

RIUS: 1: Ebre 2: Ter 3: Llobregat 4: Besòs 5: Francolí 6: Segre

CAPS: 7: de Creus 8: de Salou

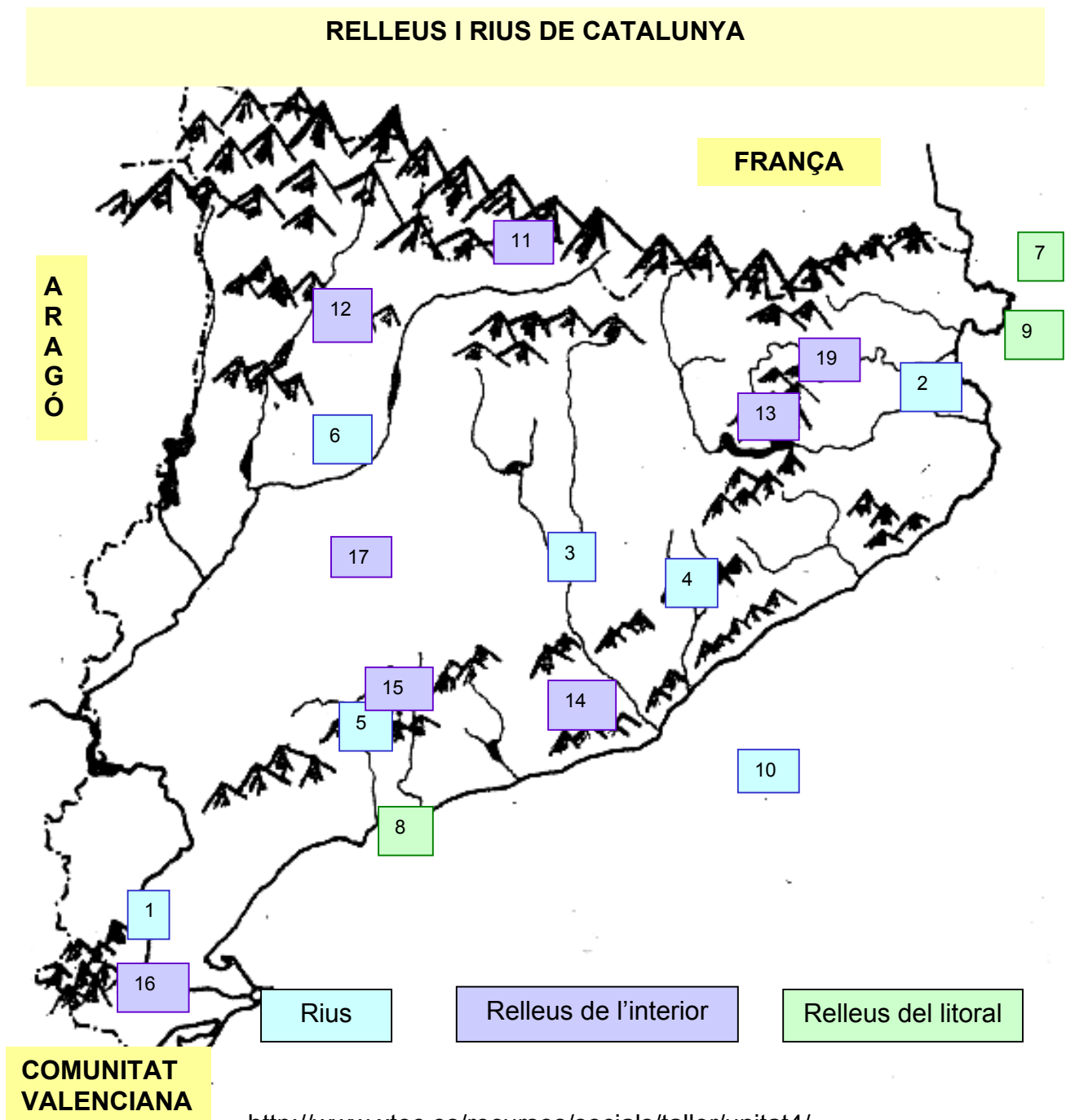
GOLFS: 9: de Roses

MAR: 10: Mediterrània.

SERRALADES: 11: Pirineu 12: Prepirineu 13: Serralada Transversal 14: Serralada Litoral 15: Serralada Prelitoral

ALTRES RELLEUS: 16: Delta de l'Ebre 17: Depressió Central 18: Depressió Prelitoral 19: Plana de l'Empordà

RELLEUS I RIUS DE CATALUNYA



3.- Omple el quadre següent:

Principals accidents geogràfics del món. Els mínims són:

Mars i oceans	Continents	Golfs	Caps	Illes i arxipèlags	Serralades	Rius	Estrets
Atlàntic Pacífic Índic Glacial Àrtic Glacial Antàrtic Mediterrani Carib Mar Roig Mar Negra	Europa Àfrica Àsia Amèrica Oceania	De Guinea Pèrsic De Mèxic Badia de Hudson De Bengala	D'Hornos De Bona Esperança	Illes Britàniques Islàdia Groenlàndia Madagascar Cuba Austràlia Nova Zelanda Nova Guinea	Pirineus Himàlaia Urals Rocalloses Andes Atles Alps Caucas	Amazones Nil Congo Iang-Tsé Ganges Danubi Mississipí Volga	De Magallanes De Gibraltar Canal de la Mànega

4.- Omple el quadre següent:

Principals accidents geogràfics d'Espanya. Els mínims són:

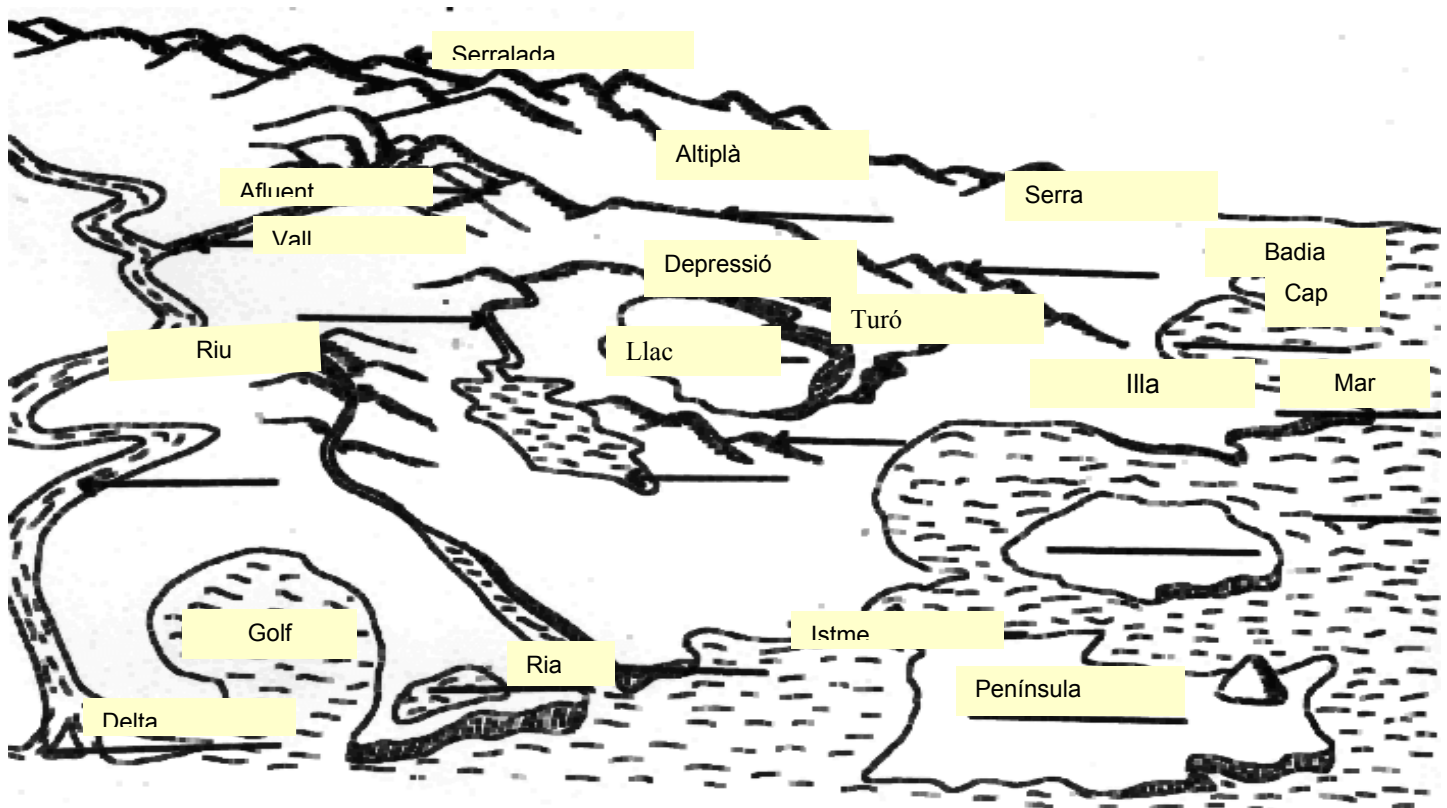
Mars i oceans	Golfs	Caps	Illes i arxipèlags	Serralades	Rius	Estrets
Cantàbric Mediterrani Atlàntic	De Biscaia De Cadis De València	De Creus Finisterre De Gata De Palos De la Nau	Balears Canàries	Cantàbrica Pirineus Sistema Central Sistema Ibèric Serralades Bètiques Sierra Morena	Miño Duero Tajo Guadiana Guadalquivir Ebre Xúquer Segura Túria	De Gibraltar

5. - Omple el quadre següent:

Principals accidents geogràfics de Catalunya. Els mínims són:

Mars i oceans	Golfs	Caps	Serralades	Planes i depressions	Rius
Mediterrani	De Roses De Sant Jordi	De Creus De Salou	Pirineu Prepirineu S. Litoral S. Prelitoral S. Transversal	Plana Litoral Empordà Depressió Prelitoral Depressió Central	Ter Llobregat Besòs Segre Ebre

6. Completa el dibuix amb la llista de vocabulari: depressió, vall, península, istme, golf, badia, mar, riu, afluent, delta, illa, cap, serra, serralada, ria, turó, llac, altiplà:



7. Completa les frases següents amb el concepte corresponent:

- Un**cap**..... és una punta de terra endinsada al mar.
- Una**plana**..... és una superfície quasi plana, situada a poca altitud sobre el nivell del mar.
- Un**altiplà**..... és una superfície plana situada a molta altitud sobre el nivell del mar.
- Una **depressió**..... és una extensió de terreny més baixa que els terrenys que l'envolten.
- Un**golf**..... és un entrant de mar més gran que una badia.
- Un**istme**..... és un tros de terra que uneix una península amb un continent.
- Un**afluent**.... és un riu que va a parar a un altre més gran.
- Un**riu**..... és un corrent d'aigua superficial que recull l'aigua de la pluja que cau sobre un territori.

8. Explica la diferència que hi ha entre:

- Cim i serralada: Una serralada és un conjunt de muntanyes. Un cim és el pic més alt.

- Badia i golf: Un golf és més gran que una badia però a vegades es fan servir com a sinònims.
- Península i illa: Una illa és un tros de terra completament envoltat per aigua marina. Una península és un tros de terra envoltat d'aigua marina excepte per un costat.
- Riu i afluent: Un riu és un corrent d'aigua dolça que va a parar al mar. Els afluents van a parar a altres rius.