

Paisatges i climes del món Solucionari avaluació final

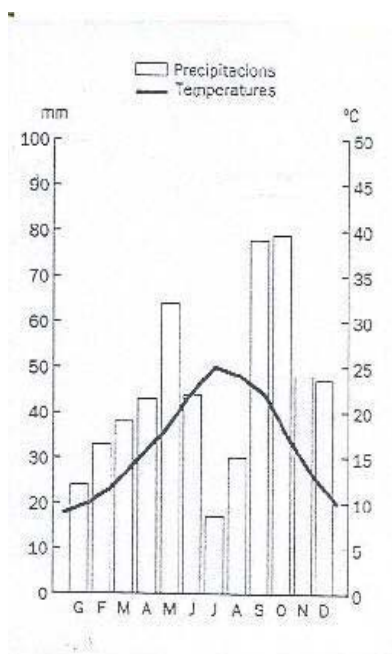
1. Quines són les diferents estacions climàtiques que hi ha a Catalunya?

Primavera, estiu, tardor i hivern.

2. Anomena les diferents zones climàtiques del planeta.

Càlida, temperada i freda.

3.



• Com es diu aquest gràfic?

Climograma

• Quines variables hi ha representades?

Precipitacions i temperatures

• En quin mes plou més?

Octubre

• En quin mes plou menys?

Juliol

• En quin mes es dona la temperatura més elevada?

Juliol

• Quin és el mes de l'any que té la temperatura més baixa?

Gener

- **Escriu el nom dels dos mesos que ha fet més calor.**

Juliol i agost

- **Escriu el nom dels tres mesos que ha plogut menys.**

Juliol, gener i agost

4. Subratlla els següents climes segons el color que correspongui.

Vermell si pertany a la zona càlida
Taronja si pertany a la zona temperada
Blau si pertany a la zona freda

Clima tropical humit

Clima mediterrani

Clima Polar

Clima equatorial

Clima continental

Clima desèrtic

Clima d'alta muntanya

Clima tropical sec

Clima oceànic

5. Escriu verdader (V) o fals (F)

- A les valls fa més fred que a les muntanyes. F
- Les temperatures són més suaus al costat del mar. V
- Al Sàhara plou molt. F
- A l'Antàrtida les temperatures són superiors a les de l'Equador. F
- Neva a l'alta muntanya. V

6. Defineix:

Pluviòmetre	Mesura la quantitat de precipitacions
Penell	Mostra la direcció del vent
Baròmetre	Mesura la pressió, es a dir, el pes de l'aire
Termòmetre	Mesura la temperatura de l'aire
Anemòmetre	Mesura la velocitat del vent

7. Per què serveixen els mapes meteorològics?

- per saber la roba que t'has de posar.
- per orientar-nos a l'espai.
- per agafar l'autobús.

8. Quins són els principals elements de l'estat del temps?

Les temperatures, les precipitacions, els vents i l'estat de la mar.

9. Completa el quadre següent amb les paraules següents:

Desèrtic, Rius, Freda, Oceànic, Freda, Roures, Clima, Animal, Ós, No hi ha, Càlida, Avets, Elefant, Selva, Alzines, Temperada, Freda, Gelats, Marmota, Cabal irregular, Temperada, Càlida

Clima	Zona	Animal	Vegetació	Rius
Equatorial	Càlida	Elefant	Selva	Llargos i calabossos
Mediterrani	Temperada	Cabra	Alzines	Cabal irregular
Oceànic	Temperada	Cérvol	Roures	Cabal abundant
Polar	Freda	Ós	Tundra	Gelats
Desèrtic	Càlida	Camell	Amb espines	No hi ha
D'alta muntanya	Freda	Marmota	Avets	Gelats

10. Omple els espais buits amb les paraules adequades:

Els **bosc** són grans grups d'arbres.

El prat o **sabana** és un gran grup d'herbes.

Els **biomes** són les comunitats d'animals i vegetals que viuen adaptades en un lloc i que la seva vida depèn de què hi siguin els altres.

Les espècies vegetals són éssers vius que també s'anomenen **plantes**

Les espècies vegetals es classifiquen en tres grans grups: **arbres**, **herbes** i **arbusts**

Els arbres de fulla **perenne** tenen fulles tot l'any.

Els **arbres** de fulla **caduca** perden les fulles a la tardor.

11. Ordena les frases i torna-les a escriure:

herbes moltes hi A ha sabana la arbres pocs.

A la sabana hi ha moltes herbes i pocs arbres

selva A les la pluges són abundants.

A la selva les pluges són abundants

Al viuen desert plantes poques.

Al desert viuen poques plantes.

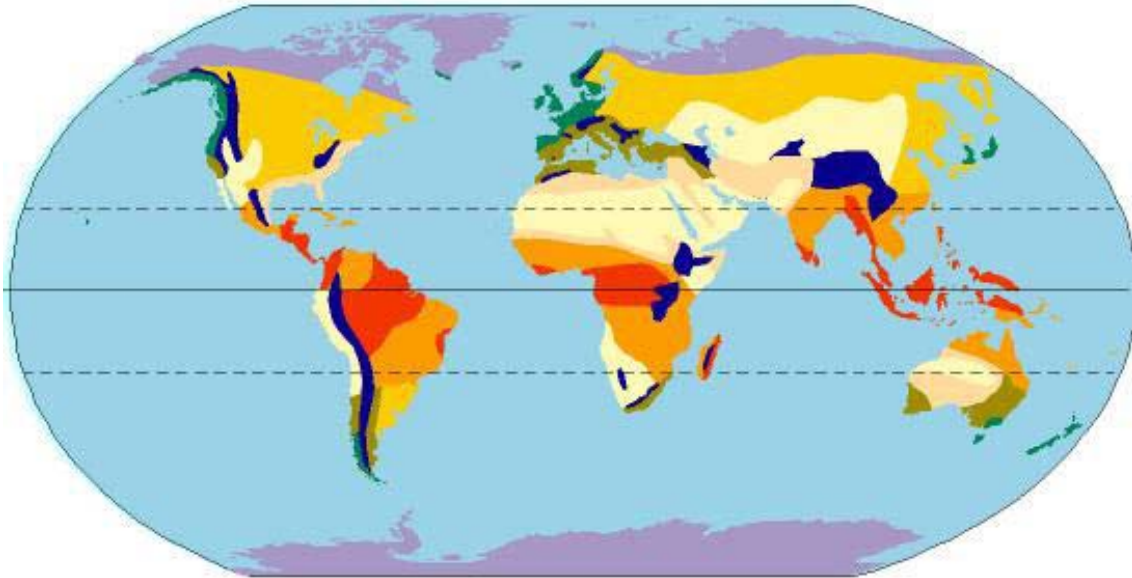
mediterrani El té quatre clima estacions.










El clima mediterrani té quatre estacions.

zona vegetació poca té freda La .

La zona freda té poca vegetació.

12. Mira el següent mapa climàtic. Escriu a sota el clima que representa cada color.



- | | |
|---|-------------------------|
|  | ▶ Clima d'alta muntanya |
|  | ▶ Clima polar |
|  | ▶ Clima mediterrani |
|  | ▶ Clima oceànic |
|  | ▶ Clima continental |
|  | ▶ Clima equatorial |
|  | ▶ Clima tropical humit |
|  | ▶ Clima tropical sec |
|  | ▶ Clima desèrtic |