

Cb

8

Competències bàsiques

Educació primària. Cicle inicial

CURS 2007-2008

PROVA CI 1

Nom:

.....

Cognoms:

.....

Escola:

.....

Grup:

.....

1



Generalitat de Catalunya
Departament d'Educació

ACTIVITAT 1

Volem anar al circ. Llegeix la cartellera i respon les preguntes.
Fes una **X** a la resposta correcta.

DIARI	
Cartellera	Dilluns, 3 de maig de 2007
TEATRE	CIRC
Teatre del Centre Plaça de l'Estació, 8 980 642 377	Circ Riu Carrer Riota, 7
ELS TRES PORQUETS Funcions: <ul style="list-style-type: none">• dijous i divendres a les 7 de la tarda• dissabtes a les 4 de la tarda	Del 8 al 16 de maig Funcions: <ul style="list-style-type: none">• de dimarts a dissabte a les 7 de la tarda• diumenge a les 5 de la tarda
<i>Venda d'entrades per internet i a les taquilles dues hores abans de la funció.</i>	<i>Entrades a la venda a la mateixa taquilla del circ una hora abans de la funció.</i>

1 Quin dia podem anar al circ?

Dilluns a les 7 de la tarda.

Dijous a les 7 de la tarda.

Dissabte a les 5 de la tarda.

ACTIVITAT 1

2 Quina és l'adreça del circ?

Carrer Mentida, 3.

Carrer Riota, 7.

Carrer Llàgrima, 7.

3 On podem comprar les entrades del circ?

Per internet.

A la plaça.

A les taquilles del circ.

4 Anem al circ un dimecres. A quina hora podem comprar les entrades?

A les 5 de la tarda.

A les 6 de la tarda.

A les 4 de la tarda

(0-3)

1.1-1.3

(0-1)

1.4

ACTIVITAT 2

Llegeix aquest text, que explica coses del quadre, i fes una **X** a la resposta correcta.

Aquest quadre va ser pintat fa més de cent anys. Abans el circ era un espectacle per a adults. Fixa't com anaven vestits: tots van molt elegants. Aquest és un circ important i per això l'espectacle és molt variat: una equilibrista salta a corda damunt el cavall mentre el domador fa córrer l'animal; un altre equilibrista fa salts mortals; els pallassos imiten els altres artistes; l'orquestra toca una música molt alegre.



ACTIVITAT 2

1 Per què hi ha tants artistes a la pista?

Perquè era un circ gran i important.

Perquè tenien poc temps per a actuar.

Per a divertir el públic.

2 Qui fa córrer el cavall?

Una equilibrista.

Un domador.

Un pallasso.

3 Mira el públic. Per què penses que hi ha tan pocs nens?

Perquè és de nit.

Perquè el circ no agradava als infants.

Perquè el circ era per a la gent gran.

4 Quin so penses que es deu sentir en aquest moment?

Hi ha silenci.

Una música lenta i suau.

Una música animada i ràpida.

(0-2)

2.1-2.2




(0-2)

2.3-2.4

ACTIVITAT 3

Llegeix aquest text i assenyala amb una **X** el dibuix correcte.

Els nens i nenes d'una classe estan preparats per a anar al circ. A la classe hi ha 22 alumnes, però en falten 5, perquè estan malalts, i els acompanyen 2 mestres.



ACTIVITAT 4

En aquest text sobre la Festa Major s'han escrit per error unes paraules que no hi havien de ser. Llegeix el text i ratlla les paraules que sobren.

Comença la Festa Major!
Demà, pallasso divendres 3 de juny,
arriba la cadira companyia del Circ
Piu. La funció comença barret a les
7 de la tarda. Us hi esperem!

(0-3)



4

ACTIVITAT 5

Una de les activitats de la Festa Major d'aquest any serà un joc de cucanya al Parc de les Aigües. Per a poder-hi participar, cal que omplis aquesta butlleta.

JOC DE CUCANYA

NOM:

COGNOMS:

DATA DE NAIXEMENT: dia mes any

CARRER: NÚMERO:

PIS:

POBLACIÓ:

TELÈFON:

(0-4)


5

(0-4)

5

ACTIVITAT 6

Observa aquestes imatges.



1 Explica quines diferències hi ha entre les dues imatges.

.....

.....

.....

.....

2 Què penses que ha passat entre una imatge i l'altra?

.....

.....

.....

(0-4)
 CD
6

(0-4)
 CL
6

(0-1)
 P
6

(0-1)
 G
6

