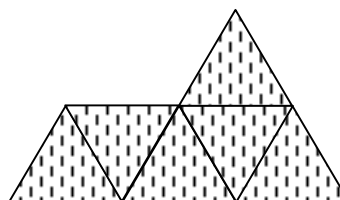
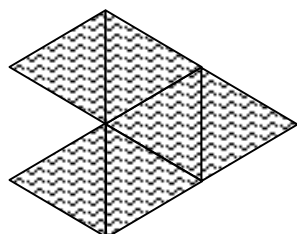
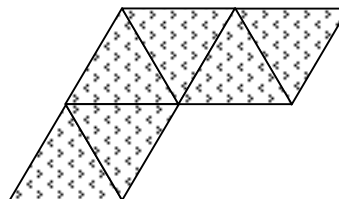
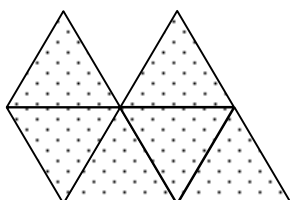


a	8	CREATOR	Alumne/a	Nivell
				Data

Construeix aquestes figures utilitzant triangles, de tal manera, que cada figura sigui d'un color diferent.

Amb totes elles construeix un hexàgon.



Quants triangles has utilitzat per fer l'hexàgon?

Construeix, amb les quatre figures, una figura d'àrea equivalent a la de l'hexàgon.

