


p	4	ESTRUCTURO	Construcció i representació lliure
---	---	------------	---------------------------------------

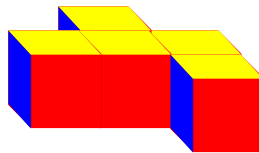
Construcció i representació lliure:

- a) El nen construeix una figura.
- b) Representa sobre una trama les tres vistes de la figura.
- c) Passa la representació a un company perquè en faci la construcció.
- d) Comprova si les dues construccions són iguals.



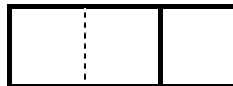
JORDI PAYRÓ
PERE JOAN VINÓS

- Tenir en compte que tot conjunt de cubs se suposa transparent:
En aquest exemple...



Les arestes "amagades" son representades per un traç discontinu.
Les arestes "que es veuen" son representades per un traç continu.

Observar aquesta representació vista de cara:



- Reproduir amb els cubs figures de les fitxes D.
Les fitxes C (amb el mateix numero d'ordre) son el solucionari de les D
(correcció per part del mestre o auto-correcció per part de l'alumne).

