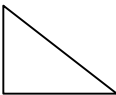
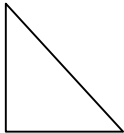
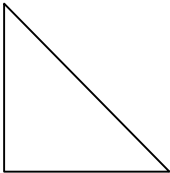

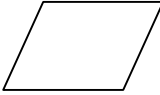


p	6	TANGRAM	Relació d'àrees
---	---	---------	-----------------

A cada fila, agafa com a unitat de superfície la figura indicada i completa la taula següent, indicant la superfície de cada figura i la superfície total de tot el tangram.

					Superfície total (7 peces)
1 u	2 u	4 u	2 u	2 u	11 u
$\frac{1}{2}$ u	1 u	2 u	1 u	1 u	$5 \frac{1}{2}$ u
$\frac{1}{4}$ u	$\frac{1}{2}$ u	1 u	$\frac{1}{2}$ u	$\frac{1}{2}$ u	$2 \frac{3}{4}$ u
$\frac{1}{2}$ u	1 u	2 u	1 u	1 u	$5 \frac{1}{2}$ u
$\frac{1}{2}$ u	1 u	2 u	1 u	1 u	$5 \frac{1}{2}$ u

Observacions

És aconsellable fer aquesta activitat amb l'ajuda del geoplà.

