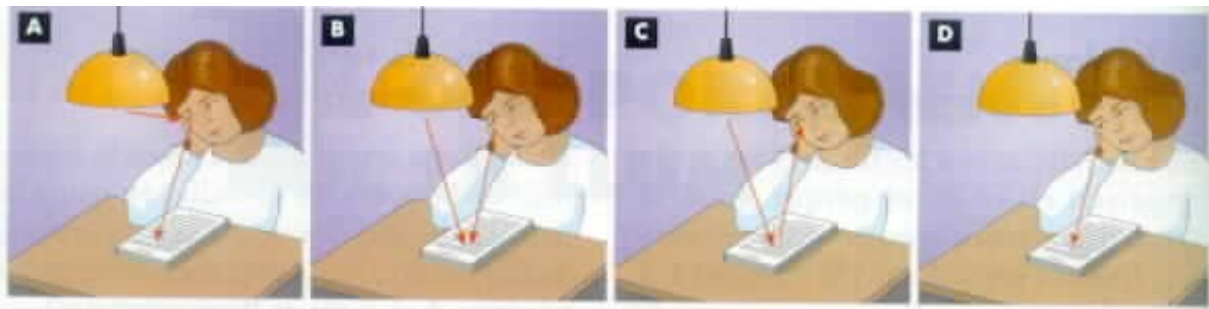


# ACTIVITAT D'ÒPTICA

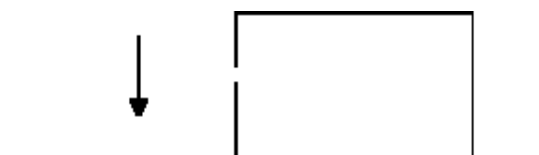
1.- Quin dels quatre dibuixos representa correctament el camí que segueix la llum perquè la noia pugui llegir ( pensa en allò que va dir Alhazem )



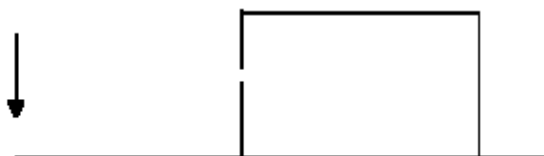
2.- Com és la imatge que es forma en una cambra fosca, dreta o invertida ?

3.- Si els nostres ulls funcionen com una cambra fosca, per què veiem els objectes drets ?

4.- Com és la mida de la imatge ( més grossa o més petita ) que es forma a la cambra fosca si acostem o allunyem l'objecte ?



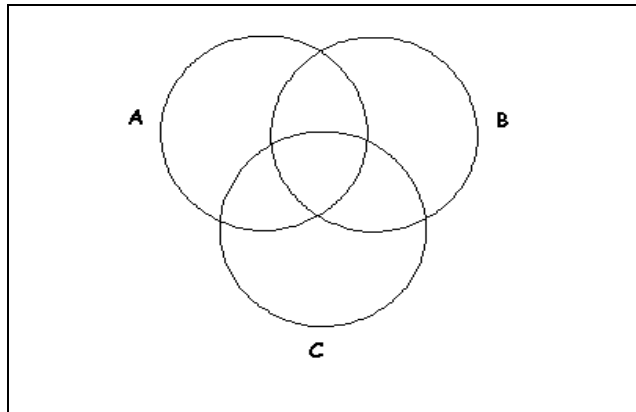
més .....



més .....

# SUMA DE COLORS

## 1.- Activitat



Pinta els cercles amb els següents colors :

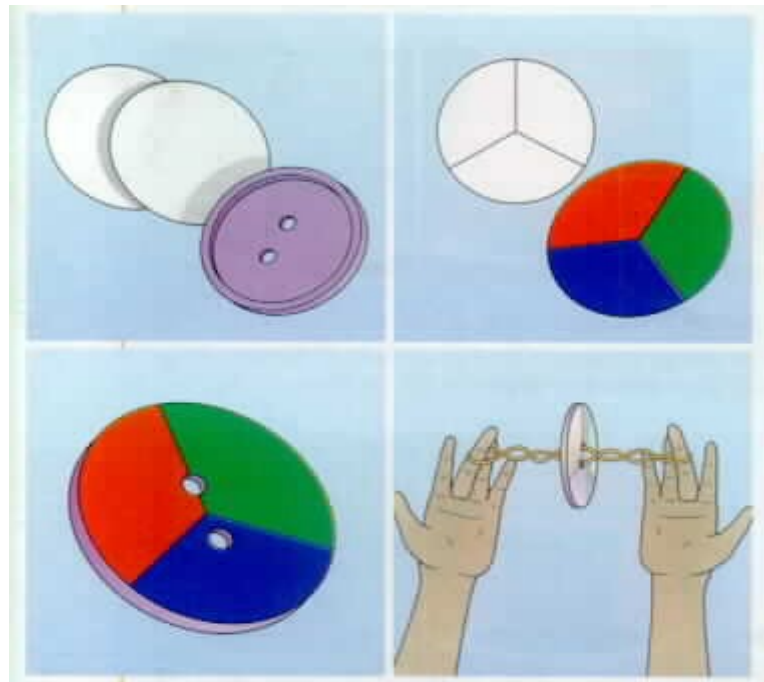
A : color blau

B : color verd

C : color vermell

Quin color observes a la zona d'intersecció de tots tres cercles ?.

2.- A casa o a l'institut, pots fer aquesta activitat



Quin color observes a cada part del disc quan gira ?

