


L'EVOLUCIÓ
DE
L'HABITATGE



1. Escriu el text de cada etiqueta en el quadre corresponent:


Els palaus s'alçaven a l'entorn de grans patis i eren envoltats de grans jardins.

Els *domus* eren cases unifamiliars. Tenien un pati central i, al mig, una piscina petita.

Les colònies industrials s'instal·laven a la vora dels rius. A més de la fàbrica hi havia la casa de l'empresari, les cases dels obrers, l'escola, l'església...


Els castells eren edificis fortificats envoltats per una muralla. S'hi distingien dues parts:

- el recinte sobirà,
- el recinte jussà.




EDAT ANTIGA

Blank writing area for the 'EDAT ANTIGA' label.




EDAT MITJANA

Blank writing area for the 'EDAT MITJANA' label.



EDAT MODERNA

Blank writing area for the 'EDAT MODERNA' label.



EDAT CONTEMPORÀNIA

Blank writing area for the 'EDAT CONTEMPORÀNIA' label.

PREHISTÒRIA
SEGLE II aC
SEGLE I aC
SEGLE I
SEGLE II
SEGLE III
SEGLE IV
SEGLE V
EDAT ANTIGA
SEGLE VI
SEGLE VII
SEGLE VIII
SEGLE IX
SEGLE X
SEGLE XI
SEGLE XII
SEGLE XIII
SEGLE XIV
SEGLE XV
EDAT MITJANA
SEGLE XVI
SEGLE XVII
SEGLE XVIII
EDAT MODERNA
SEGLE XIX
SEGLE XX
EDAT CONTEMPORÀNIA

2. Escriu el text de cada etiqueta en el quadre corresponent:

En els monestirs, on habitaven monjos o freres, es podien distingir dos recintes: un dedicat a les feines de cada dia i un altre que reunia les estances destinades a la vida religiosa.


Les vil·les agrícoles romanes eren formades per diverses construccions. Les dependències d'aquestes vil·les es destinaven als treballs relacionats amb les feines agrícoles i ramaderes.

Els pisos dels obrers del segle XIX eren molt petits, tenien poca ventilació i mancaven dels serveis més imprescindibles, com ara l'aigua corrent.

Els obradors eren els tallers on treballaven els artesans. S'instal·laven en les plantes baixes.



EDAT ANTIGA



EDAT MITJANA



EDAT MODERNA



EDAT CONTEMPORÀNIA

PREHISTÒRIA

SEGLE II aC

SEGLE I aC

SEGLE I

SEGLE II

SEGLE III

SEGLE IV

SEGLE V

EDAT ANTIGA

SEGLE VI

SEGLE VII

SEGLE VIII

SEGLE IX

SEGLE X

SEGLE XI

SEGLE XII

SEGLE XIII

SEGLE XIV

SEGLE XV

EDAT MODERNA

SEGLE XVI

SEGLE XVII

SEGLE XVIII

EDAT MODERNA


SEGLE XIX

SEGLE XX




EDAT CONTEMPORÀNIA

3. Observa aquesta ciutat i digues a quina edat correspon. Després, encercla els edificis que no són propis d'aquesta època:

Edat: _____



4. Observa els dibuixos i ordena cronològicament la seqüència. Després, escriu sota cada dibuix l'època a què correspon:



- PREHISTÒRIA
- SEGLE II aC
- SEGLE I aC
- SEGLE I
- SEGLE II
- SEGLE III
- SEGLE IV
- SEGLE V
- EDAT ANTIGA
- SEGLE VI
- SEGLE VII
- SEGLE VIII
- SEGLE IX
- SEGLE X
- SEGLE XI
- SEGLE XII
- SEGLE XIII
- SEGLE XIV
- SEGLE XV
- EDAT MITJANA
- SEGLE XVI
- SEGLE XVII
- SEGLE XVIII
- SEGLE XIX
- EDAT MODERNA
- SEGLE XX
- EDAT CONTEMPORÀNIA