


L'EVOLUCIÓ DEL MENJAR



1. Escriu el nom dels aliments de cada quadre sota el nom de l'edat corresponent:

llegums,
formatge, carn,
pa, vi

carn, peix,
llegums,
verdures, fruita,
formatge, llet,
pa, ous, porc

pa, dàtils, peix,
llegums, fruita,
carn, formatge
amb mel, vi

blat de moro,
tomàquets,
patates, carn de
xai, cacau, llet,
sucre

- PREHISTÒRIA
- SEGLE II aC
- SEGLE I aC
- SEGLE I
- SEGLE II
- SEGLE III
- SEGLE IV
- SEGLE V
- EDAT ANTIGA
- SEGLE VI
- SEGLE VII
- SEGLE VIII
- SEGLE IX
- SEGLE X
- SEGLE XI
- SEGLE XII
- SEGLE XIII
- SEGLE XIV
- SEGLE XV
- EDAT MITJANA
- SEGLE XVI
- SEGLE XVII
- SEGLE XVIII
- EDAT MODERNA
- SEGLE XIX
- SEGLE XX
- EDAT CONTEMPORÀNIA

EDAT ANTIGA




EDAT MITJANA



EDAT MODERNA



EDAT CONTEMPORÀNIA



2. Escriu el nom dels aliments de cada quadre sota el nom de l'edat corresponent:





llegums, sopes,
llet, formatge,
carn de porc

pa, sopes,
llegums, sal,
carn de porc

carn de porc,
carn de
pollastre, pa,
sopes i, de tant
en tant, ous i
peix

farinetes, puré,
sèmola, marisc,
peix, llegums,
formatge, fruita
seca

- PREHISTÒRIA
- SEGLE II aC
- SEGLE I aC
- SEGLE I
- SEGLE II
- SEGLE III
- SEGLE IV
- SEGLE V
- EDAT ANTIGA
- SEGLE VI
- SEGLE VII
- SEGLE VIII
- SEGLE IX
- SEGLE X
- SEGLE XI
- SEGLE XII
- SEGLE XIII
- SEGLE XIV
- SEGLE XV
- EDAT MITJANA
- SEGLE XVI
- SEGLE XVII
- SEGLE XVIII
- EDAT MODERNA
- SEGLE XIX
- SEGLE XX
- EDAT CONTEMPORÀNIA

	EDAT ANTIGA
	<hr/> <hr/> <hr/> <hr/> <hr/> <hr/>
	<hr/> <hr/> <hr/> <hr/> <hr/> <hr/>
	<hr/> <hr/> <hr/> <hr/> <hr/> <hr/>
	<hr/> <hr/> <hr/> <hr/> <hr/> <hr/>



3. Observa aquests dibuixos sobre l'edat antiga:



PREHISTÒRIA

romans rics

romans pobres



SEGLE II aC

SEGLE I aC

SEGLE I

SEGLE II

SEGLE III

▪ Compara els dos dibuixos i completa el quadre:

	romans rics	romans pobres
posició corporal		
mobiliari		
aliments		
guarniments personals		

SEGLE IV

SEGLE V

EDAT ANTIGA

SEGLE VI


SEGLE VII

SEGLE VIII



4. Observa aquests dibuixos sobre l'edat mitjana i completa el text amb les paraules següents:

melons – terres – sèquies – guaret – blat – mongetes – enciams



- Al nord d'Europa s'aplicava una tècnica agrícola anomenada guaret. El _____ consistia a deixar de sembrar durant un cert temps una part de les _____ perquè reposessin i es fessin més fèrtils.
- El _____, la vinya i l'olivera eren conreus característics de la zona mediterrània.
- Els àrabs van introduir moltes innovacions en l'agricultura, com ara sínies per a extreure l'aigua del pous o _____ per a canalitzar-la.
- Els àrabs van desenvolupar els cultius d'horta, com els _____, les _____ i els _____.

SEGLE IX

SEGLE X

SEGLE XI

SEGLE XII

SEGLE XIII

SEGLE XIV

SEGLE XV

EDAT MITJANA

SEGLE XVI

SEGLE XVII

SEGLE XVIII

EDAT MODERNA

SEGLE XIX

SEGLE XX

EDAT CONTEMPORÀNIA

5. Fixa't bé en aquest dibuix que representa el menjador d'un monestir a l'edat mitjana:



▪ **Contesta:**

- Quin tipus de llibre creus que llegeix el monjo de la trona?

- un llibre religiós una revista de cor
 un llibre d'aventures un llibre de poesia

- Qui creus que era el monjo que hi ha al cap de taula?

- el monjo cuiner l'abat, o superior del monestir
 un monjo visitant el monjo més jove

- Mentre menjaven, els monjos:

- xerraven pels descosits escoltaven en silenci

6. Completa el text amb les paraules adequades:

blat – blat de moro – olivera – tomàquets – patates – raïm
 mongetes – cacau – melons – tabac – enciam – taronges

- A l'edat moderna, els europeus van descobrir Amèrica i van establir noves rutes comercials. Des d'aquests territoris van importar a Europa productes nous, com ara _____, _____, _____, _____ i _____.

7. Encercla quatre elements incorrectes d'aquest dibuix relatiu a un banquet reial de l'edat moderna:



PREHISTÒRIA

SEGLE II aC

SEGLE I aC

SEGLE I

SEGLE II

SEGLE III

SEGLE IV

SEGLE V

EDAT ANTIGA

SEGLE VI

SEGLE VII

SEGLE VIII

SEGLE IX

SEGLE X

SEGLE XI

SEGLE XII

SEGLE XIII

SEGLE XIV

SEGLE XV

EDAT MITJANA

SEGLE XVI

SEGLE XVII

SEGLE XVIII

EDAT MODERNA

SEGLE XIX


SEGLE XX

EDAT CONTEMPORÀNIA


8. Llegeix la columna de la dreta i escriu cada una de les paraules en el requadre de l'edat corresponent:

	PREHISTÒRIA						PREHISTÒRIA
SEGLE II aC							SEGLE II aC
SEGLE I aC							SEGLE I aC
SEGLE I							SEGLE I
SEGLE II							SEGLE II
SEGLE III							SEGLE III
SEGLE IV							SEGLE IV
SEGLE V							SEGLE V
SEGLE VI	EDAT ANTIGA						EDAT ANTIGA
SEGLE VII							SEGLE VI
SEGLE VIII							SEGLE VII
SEGLE IX							SEGLE VIII
SEGLE X							SEGLE IX
SEGLE XI							SEGLE X
SEGLE XII							SEGLE XI
SEGLE XIII							SEGLE XII
SEGLE XIV							SEGLE XIII
SEGLE XV							SEGLE XIV
SEGLE XVI	EDAT MITJANA						SEGLE XV
SEGLE XVII							EDAT MITJANA
SEGLE XVIII							SEGLE XVI
SEGLE XIX	EDAT MODERNA						SEGLE XVII
SEGLE XX	EDAT CONTEMPORÀNIA						SEGLE XVIII
							EDAT MODERNA
							SEGLE XIX
							SEGLE XX
							EDAT CONTEMPORÀNIA


PREHISTÒRIA




SEGLE I




EDAT ANTIGA



EDAT MITJANA



EDAT MODERNA



EDAT CONTEMPORÀNIA

VOCABULARI

- patata
- vi amb mel
- sèquia
- sínia
- cacau
- refetor
- tomàquet
- triclini
- beneficència
- adobs
- guaret
- blat de moro
- mercats
- maître
- màquines sembradores
- escorxadors