

L'EVOLUCIÓ DEL TRANSPORT



1. Relaciona amb fletxes del color indicat en el codi:

vermell edat antiga

blau edat mitjana




verd edat moderna

groc edat contemporània

construccions


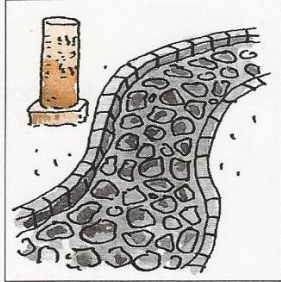

vies

vehicles terrestres





via fèrria

mules






via romana

carruatge



camí i dreceres

quadriga



camins

tren de vapor

- PREHISTÒRIA
- SEGLE II aC
- SEGLE I aC
- SEGLE I
- SEGLE II
- SEGLE III
- SEGLE IV
- SEGLE V
- EDAT ANTIGA
- SEGLE VI
- SEGLE VII
- SEGLE VIII
- SEGLE IX
- SEGLE X
- SEGLE XI
- SEGLE XII
- SEGLE XIII
- SEGLE XIV
- SEGLE XV
- EDAT MITJANA
- SEGLE XVI
- SEGLE XVII
- SEGLE XVIII
- EDAT MODERNA
- SEGLE XIX
- SEGLE XX
- EDAT CONTEMPORÀNIA

2. Relaciona amb fletxes del color indicat en el codi:

vermell edat antiga

blau edat mitjana


verd edat moderna

groc edat contemporània


construccions

tècniques de desplaçament marítim


vehICLES marítims




Veles: força del vent i força humana.




galera




Màquina de vapor i força del vapor.




lleny




Rems i força humana.



caravel·la



Veles i força del vent. Brúixola i astrolabi.




vaixell de vapor

- PREHISTÒRIA
- SEGLE II aC
- SEGLE I aC
- SEGLE I
- SEGLE II
- SEGLE III
- SEGLE IV
- SEGLE V
- EDAT ANTIGA**
- SEGLE VI
- SEGLE VII
- SEGLE VIII
- SEGLE IX
- SEGLE X
- SEGLE XI
- SEGLE XII
- SEGLE XIII
- SEGLE XIV
- SEGLE XV
- EDAT MITJANA**
- SEGLE XVI
- SEGLE XVII
- SEGLE XVIII
- EDAT MODERNA**
- SEGLE XIX
- SEGLE XX
- EDAT CONTEMPORÀNIA**



PREHISTÒRIA

3. Observa aquest dibuix sobre els mitjans de transport a l'edat antiga:



SEGLE II
aC

SEGLE I
aC

SEGLE I

SEGLE II

SEGLE III

SEGLE IV

SEGLE V

EDAT ANTIGA

SEGLE VI

SEGLE VII

SEGLE VIII

SEGLE IX

SEGLE X

SEGLE XI

SEGLE XII

SEGLE XIII

SEGLE XIV

SEGLE XV

EDAT MITJANA

SEGLE XVI

SEGLE XVII

SEGLE XVIII

EDAT MODERNA

SEGLE XIX

SEGLE XX

EDAT CONTEMPORÀNIA

▪ **Marca amb una creu la resposta correcta. Pot haver-hi més d'una resposta correcta en cada cas:**

• Com es desplaçaven les persones a l'edat antiga?

a peu en carro a cavall en llitera en galera

• Quin nom tenen les carreteres construïdes pels romans a l'edat antiga?

autopistes vies drecceres camins rals

• Els mil·liars eren?

columnes de pedra situades al llarg de les vies romanes on s'indicaven les distàncies. cartells lluminosos col·locats en els marges de les vies romanes. columnes de metall que guarnien les vies romanes.

• Les lliteres acostumaven a ser portades per:

dones lliures esclaus homes lliures

• Les galeres es feien servir per a transportar:

només mercaderies mercaderies i persones només persones

• Quin nom tenen els recipients en què es transportaven el vi i l'oli?

bidons bótes ampolles àmfores

4. Selecciona les paraules que completen correctament el text:

botigues – pelegrins – barques – mercats – bisbes – mercaderies
 elefants – carros – mules – viatges – pelegrinatges

- A l'edat mitjana, després d'una època en què el comerç va disminuir força, es van començar a celebrar fires i _____ .



- Els mercaders acostumaven a servir-se d'una gran quantitat de _____ de càrrega per a transportar les _____ .



- Amb el temps, es van organitzar els _____ tirats per cavalls.



- Un dels motius que induïen les persones de l'edat mitjana a viatjar eren els _____ .



- Molts _____ es desplaçaven a peu fins a



llocs sagrats, com Roma, Jerusalem o Santiago de Compostel·la.

5. Llegeix:

Els navegants europeus de l'edat moderna van fer viatges més llargs i van descobrir nous territoris; per exemple, Amèrica.

- **Marca amb una creu les frases que poden ser una raó de que s'indica en el text del requadre:**

- Es van construir vaixells més grans i més ràpids.
- Els esclaus romans eren més forts perquè anaven més ben alimentats.
- Es van fer millores en alguns elements de les embarcacions; per exemple, el timó.
- Van millorar alguns instruments de navegació, com la brúixola o l'astrolabi, que servia per a mesurar l'altura dels astres i, per tant, permetia al navegant conèixer la latitud a què es trobava.
- Van desaparèixer totalment els pirates.



PREHISTÒRIA
SEGLE II aC
SEGLE I aC
SEGLE I
SEGLE II
SEGLE III
SEGLE IV
SEGLE V
EDAT ANTIGA
SEGLE VI
SEGLE VII
SEGLE VIII
SEGLE IX
SEGLE X
SEGLE XI
SEGLE XII
SEGLE XIII
SEGLE XIV
SEGLE XV
EDAT MITJANA
SEGLE XVI
SEGLE XVII
SEGLE XVIII
EDAT MODERNA
SEGLE XIX
SEGLE XX
EDAT CONTEMPORÀNIA



6. Llegeix:

L'aparició del ferrocarril i el vaixell de vapor va comportar...


- Marca amb una creu les frases que completen correctament el text del requadre:

- ...un augment de la quantitat de mercaderies i de persones transportades.
- ...un encariment del preu dels viatges.
- ...un augment de la velocitat de transport.
- ...una disminució de la velocitat de transport.
- ...un abaratiment del preu de les mercaderies transportades.


- 7. Observa els dibuixos i escriu, sota cada un, l'edat històrica que representa. Després, ratlla, en cada cas, els vehicles que no corresponen a l'edat històrica representada:



edat antiga



edat mitjana



edat moderna



edat contemporània

- Escriu al peu de cada dibuix els noms dels vehicles següents que hi corresponguin:

quadriga – tren de vapor – galera – llitera – caravel·la
vaixell de vapor – lleny – carruatge – carro

PREHISTÒRIA
SEGLE II aC
SEGLE I aC
SEGLE I
SEGLE II
SEGLE III
SEGLE IV
SEGLE V
EDAT ANTIGA
SEGLE VI
SEGLE VII
SEGLE VIII
SEGLE IX
SEGLE X
SEGLE XI
SEGLE XII
SEGLE XIII
SEGLE XIV
SEGLE XV
EDAT MITJANA
SEGLE XVI
SEGLE XVII
SEGLE XVIII
EDAT MODERNA
SEGLE XIX
SEGLE XX
EDAT CONTEMPORÀNIA