



Nom: ..... Data: .....




# Fem problemes

0 z1 A - 9  
FITXA 5





1) Al jardí tenim 5  i avui els pares han comprat 2 .

Quants arbres tindrem al jardí?



	<p>OPERACIÓ</p> <table border="1"><tr><td></td><td>5</td></tr><tr><td></td><td></td></tr><tr><td></td><td></td></tr><tr><td></td><td></td></tr></table>		5						
	5								

Resposta: Tindrem ..... arbres.

2) A la terrassa hi ha 4  a l'esquerra i 2  a la dreta.

Quants cactus hi ha en total?

	<p>OPERACIÓ</p> <table border="1"><tr><td></td><td></td></tr><tr><td></td><td></td></tr><tr><td></td><td></td></tr><tr><td></td><td></td></tr></table>								

Resposta: A la terrassa hi ha ..... cactus.