



Nom: Data:



Fem problemes

z1 A - 19
FITXA 3





1) A la masia he agafat 17  d'una perera molt gran. Després he donat 7  als avis.


Quantes peres em queden?

	<p>OPERACIÓ</p> <table border="1"><tr><td></td><td></td><td></td></tr><tr><td></td><td></td><td></td></tr><tr><td></td><td></td><td></td></tr><tr><td></td><td></td><td></td></tr><tr><td></td><td></td><td></td></tr></table>															

Resposta: M'he quedat peres.

2) En Lluís ha fet un forat al jardí de casa i ha trobat 2  grans i 10  petits.

Quants cucs ha trobat en Lluís?



	<p>OPERACIÓ</p> <table border="1"><tr><td></td><td></td><td></td></tr><tr><td></td><td></td><td></td></tr><tr><td></td><td></td><td></td></tr><tr><td></td><td></td><td></td></tr><tr><td></td><td></td><td></td></tr></table>															

Resposta: En Lluís ha trobat cucs.