



Nom: Data:




Fem problemes

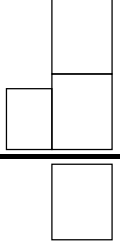
z1 A - 9
FITXA 3



- 1) A casa tinc penjades 5  dalt de l'arbre i 3  en el pessebre.

Quantes campanetes tinc en total?

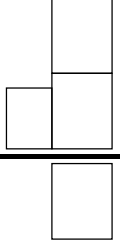


	<p>OPERACIÓ</p> 
--	--

Resposta: En total tinc campanetes.

- 2) A l'arbre de Nadal he penjat 9  . A la tarda el gat jugant ha trencat 2  .

Quantes boles queden penjades a l'arbre?

	<p>OPERACIÓ</p> 
--	---

Resposta: Queden boles penjades a l'arbre.