



Nom: Data:



fem problemes

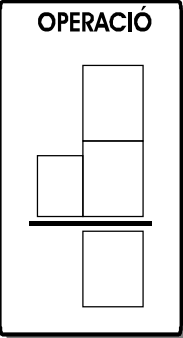
z1 A - 9
FITXA 5





1) En Joan porta 5  de llums i la Marta porta 4  de tro.

Quants coets tenim entre tots dos?



	<p>OPERACIÓ</p> 
--	------------------------------------------------------------------------------------------------------

Resposta: Entre tots dos tenim coets.

2) Avui he anat a comprar 6 . De camí cap a casa han caigut i s'han trencat 2 .

Quants ous queden sencers?

	<p>OPERACIÓ</p> 
--	-------------------------------------------------------------------------------------------------------

Resposta: Queden ous sencers.