

Nom: Data:




Fem problemes


z1 B - 19
FITXA 3





1) Entre jo i els meus amics tenim 3  de vela, 11  i 5 .

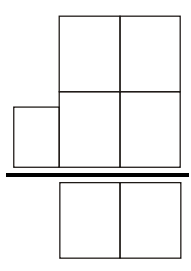
Quants camions tenim en total?



	<p>OPERACIÓ</p>
---	-----------------

Resposta: Entre tots tenim camions.

2) Dins el calaix de l'habitació, el meu germà té 7  negres, 9  blancs i 11  blanques. Quants calçotets té en total?

	<p>OPERACIÓ</p> 
--	---

Resposta: El meu germà té calçotets.