

Nom:




Data:




Fem problemes


z1 B - 9
FITXA 1



1) A la masia tenim 1  i 5  i també 3  dins la bassa.

Quants gats tenim a la masia?



	<p>OPERACIÓ</p>
---	-----------------

Resposta: A la masia tenim gats.

2) Per la festa d'aniversari tinc 4  vermells i 5  blaus.

Quants globus blaus tinc per la meua festa?

	<p>OPERACIÓ</p>
--	-----------------

Resposta: Per la festa tinc globus blaus.