

Nom: ..... Data: .....



# Fem problemes


z1 B - 9  
FITXA 3


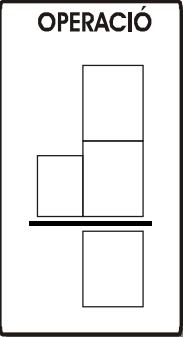


1) Dins de la motxilla de l'escola porto


5 , 3  i 2 .

Quantes coses porto per menjar?





	<p>OPERACIÓ</p> 
---	--

Resposta: Per menjar porto ..... coses.

2) A la cuina tenim 12  amb cors vermells i

la mare avui ha comprat 6  amb ratlles.

Quantes tasses tindrem amb cors vermells?

	<p>OPERACIÓ</p> 
--	---

Resposta: Tindrem ..... tasses amb cors vermells.