

Nom: Data:




Fem problemes

z1 B - 9
FITXA 4






1) En Lluís ha comprat 6  grams i 3  de carta.

Quants sobres grams ha comprat?

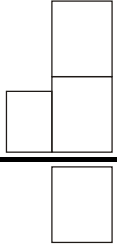


	<p>OPERACIÓ</p>
--	-----------------

Resposta: Li queden sobres.

2) L'Enric té a casa un castell amb 4  grams, 2  petits i 3 .

Quants fantasmes té l'Enric al castell?

	<p>OPERACIÓ</p> 
--	---

Resposta: L'Enric té fantasmes.