

Nom: ..... Data: .....




# Rellotges


FITXA 3

1) Relaciona cada rellotge amb la seva hora.


Les tres. •



Les sis. •



Les dues. •



Les deu. •

