





Problèmes???

0 z5 A - 99
FITXA 1



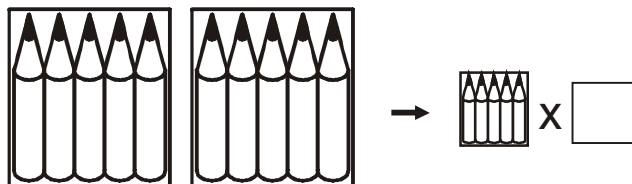
1.- Una caixa té 5 colors.
Tinc 2 caixes de colors.
Quants colors tinc em total?



Què busco?

Els que tinc.

Dibuix:



Operacions:

$$\boxed{5} \times \boxed{2} = \boxed{}$$

Resposta:

Tinc colors.

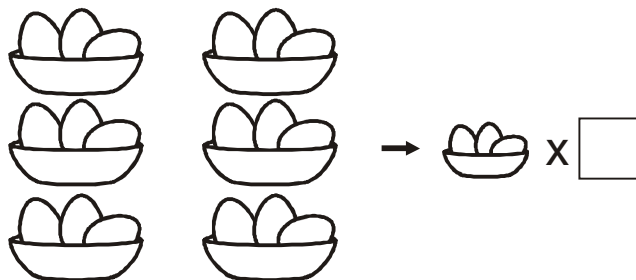


2.- Dins de cada bol hi ha 3 ous.
Quants ous tindrem en 6 bols iguals?

Què busco?

Els que hi ha en 6 bols.

Dibuix:



Operacions:

$$\boxed{3} \times \boxed{} = \boxed{}$$

Resposta:

En 6 bols hi ha ous.