




# Matemàtiques


FITXA 3



## RESTES PORTANT-NE GRÀFICAMENT

1/ Resol aquestes restes utilitzant les representacions gràfiques del costat.

$$\begin{array}{r} 63 \\ - 18 \\ \hline \end{array}$$


$$\begin{array}{r} 31 \\ - 28 \\ \hline \end{array}$$



$$\begin{array}{r} 50 \\ - 48 \\ \hline \end{array}$$

$$\begin{array}{r} 67 \\ - 17 \\ \hline \end{array}$$

$$\begin{array}{r} 30 \\ - 22 \\ \hline \end{array}$$

$$\begin{array}{r} 45 \\ - 28 \\ \hline \end{array}$$

2/ Mirant la representació gràfica escriu els números de dalt (minuend) i tot seguit resol la resta.

$$\begin{array}{r} \square \square \\ - 28 \\ \hline \end{array}$$


$$\begin{array}{r} \square \square \\ - 35 \\ \hline \end{array}$$
