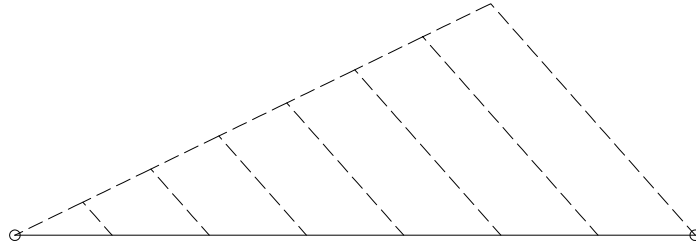
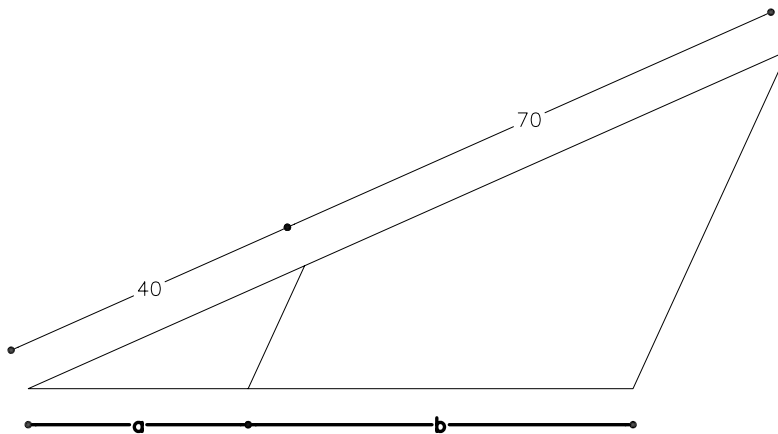


Dividiu gràficament un segment de 90 mm en 7 parts iguals.

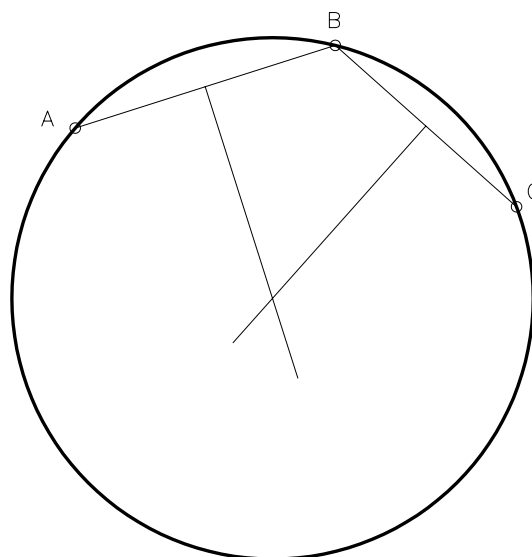
Exercicis per realitzar amb els instruments de dibuix manuals i amb DAO.



Trobeu dos segments a i b, sabent que la seva suma val 80 mm i que són proporcionals a dos segments de 4cm i 7cm respectivament.



Traceu la circumferència que passa pels punts A, B i C (el centre de la circumferència equidista d'aquests tres punts).



113_tracats_basics_ex01 Material subjecte a una llicència CC BY-NC-SA. Es pot copiar i reutilitzar sempre que es faci sense afany de lucre i reconeixent-ne l'autora Marta Juvanteny Gorgals.