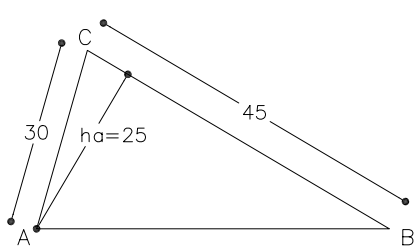
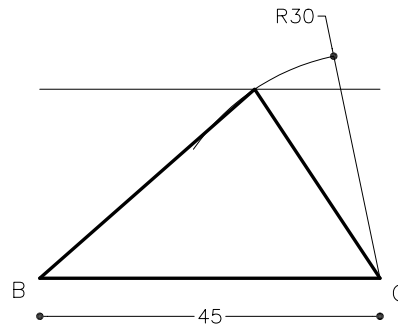


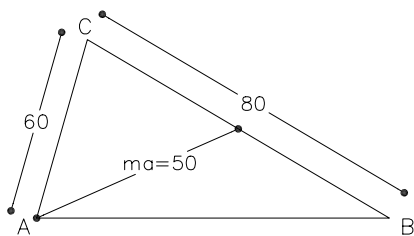
Dibuixeu un triangle coneixent-ne dos costats $a=45\text{mm}$ i $b=30\text{mm}$ i l'altura relativa a un d'ells $h_a=25\text{mm}$.



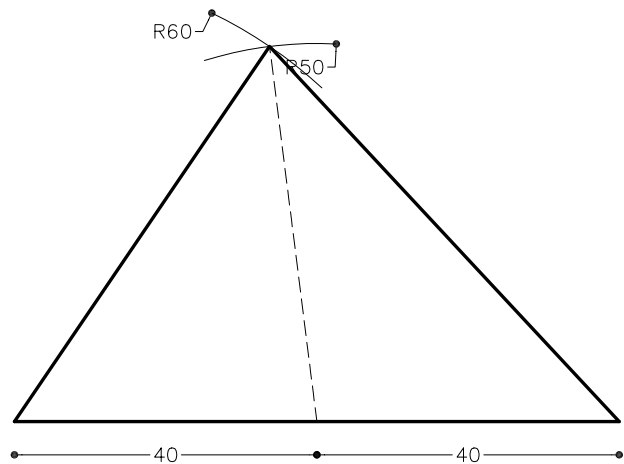
Croquis que no està dibuixat a escala



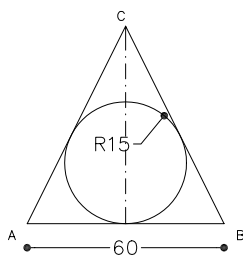
Dibuixeu un triangle coneixent-ne els costats $a=80\text{mm}$, $b=60\text{mm}$, i la mitjana d'a $m_a=50\text{mm}$.



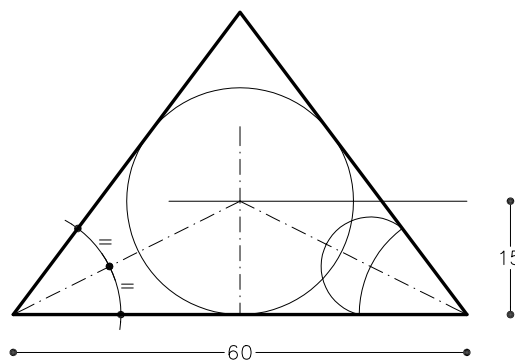
Croquis que no està dibuixat a escala



Dibuixeu un triangle isòsceles coneixent-ne el radi de la circumferència inscrita $r=15\text{mm}$ i el costat desigual de 60mm .



Croquis que no està dibuixat a escala



Material subjecte a una llicència CC BY-NC-SA. Es pot copiar i reutilitzar sempre que es faci sense afany de lucre i reconeixent-ne l'autora Marta Juvanteny Gorgals.

122_construccio_de_triangles_ex03