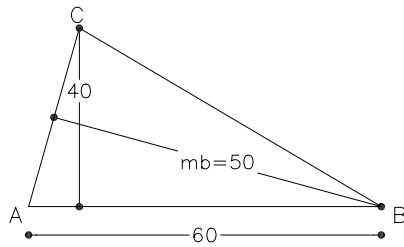
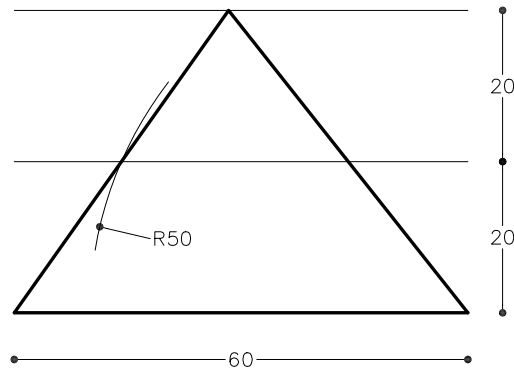


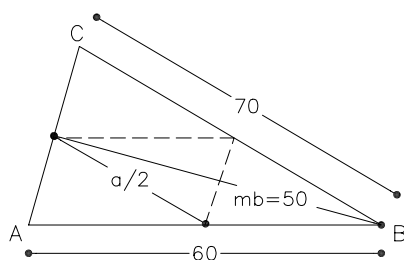
Dibuixeu un triangle coneixent-ne el costat $c=60\text{mm}$, l'altura relativa d'aquest costat $h_c=40\text{mm}$, i la mitjana de $b=50\text{mm}$.



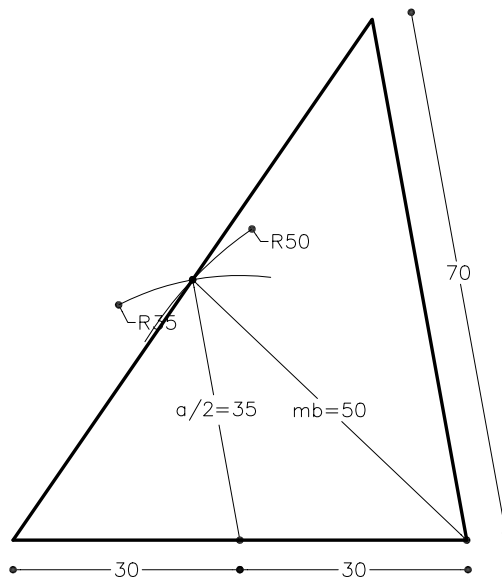
Croquis que no està dibuixat a escala



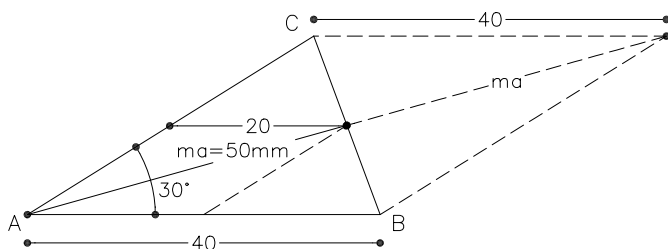
Dibuixeu un triangle coneixent-ne els costats $a=70\text{mm}$ i $c=60\text{mm}$ i la mitjana $b=50\text{mm}$.



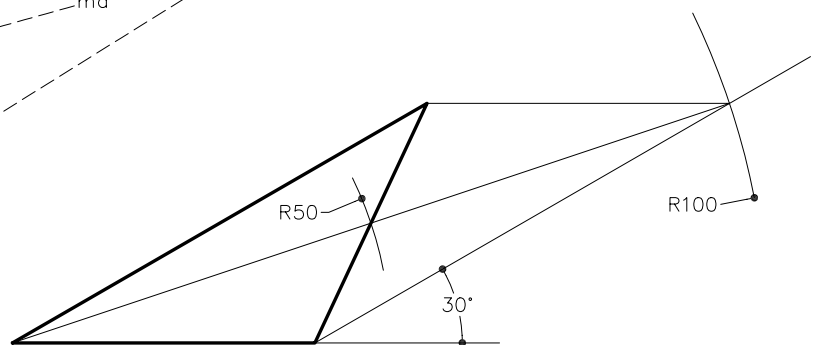
Croquis que no està dibuixat a escala



Dibuixeu un triangle coneixent-ne el costat $c=40\text{mm}$, l'angle $A=30^\circ$ i la mitjana $a=50\text{mm}$.



Croquis que no està dibuixat a escala



Material subjecte a una llicència CC BY-NC-SA. Es pot copiar i reutilitzar sempre que es faci sense afany de lucre i reconeixent-ne l'autora Marta Juvanteny Gorgals.