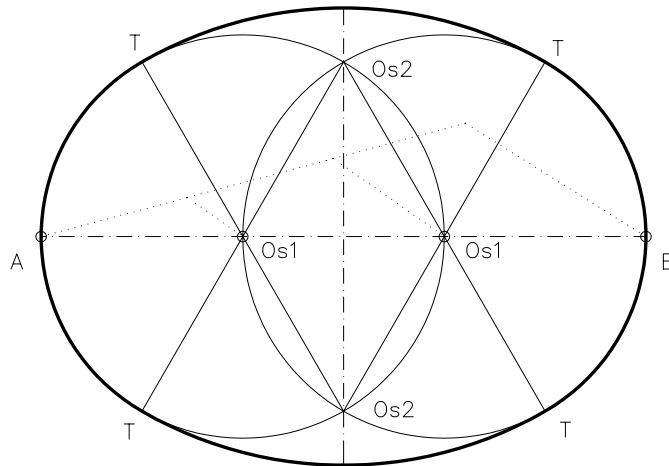
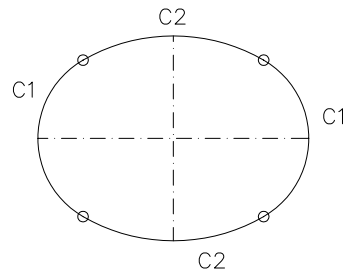
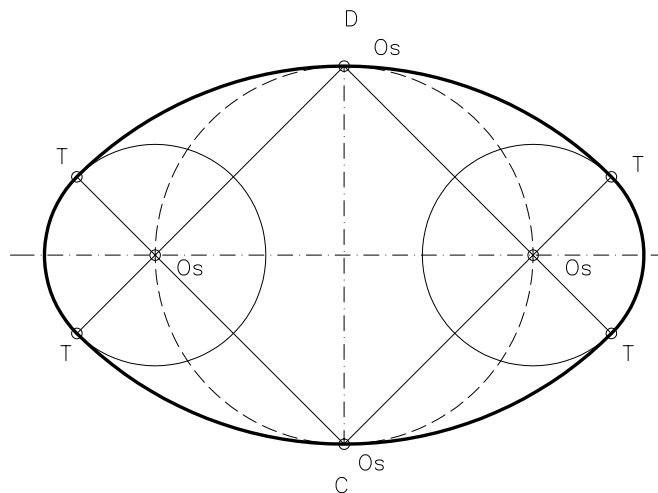


Dibuixeu un oval coneixent-ne el seu eix major AB.

Un oval és una corba plana i tancada formada per quatre arcs de circumferència iguals dos a dos i tangents entre ells. Té dos eixos de simetria perpendiculars entre ells.



Dibuixeu un oval coneixent-ne el seu eix menor CD.



Material subjecte a una llicència CC BY-NC-SA. Es pot copiar i reutilitzar sempre que es faci sense afany de lucre i reconeixent-ne l'autora Marta Juventeny Gorgals.

161_ovals_ex01