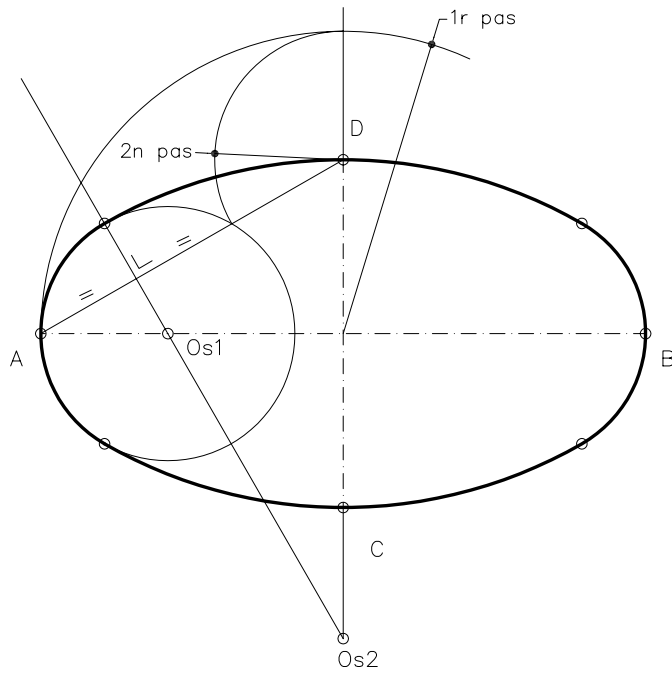
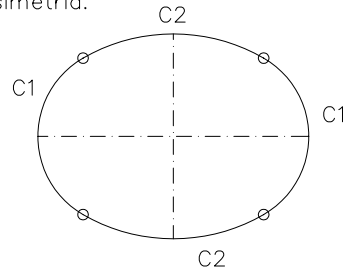
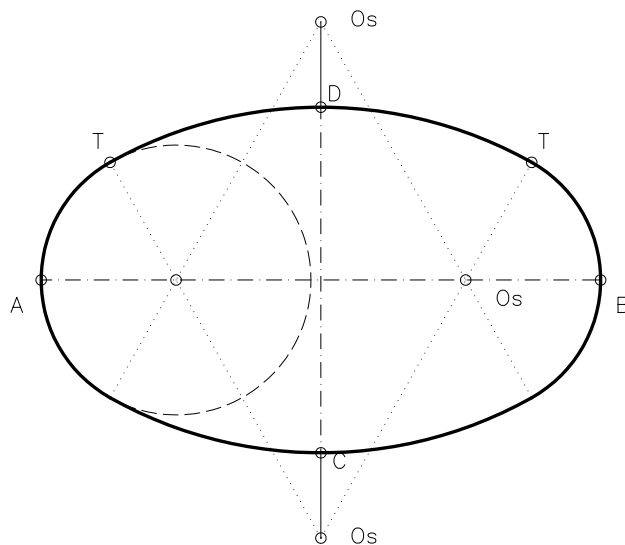


Dibuixeu un oval òptim coneixent-ne els seus eixos de simetria.

Un oval és una corba plana i tancada formada per quatre arcs de circumferència iguals dos a dos i tangents entre ells. Té dos eixos de simetria perpendiculars entre ells.



Dibuixeu un oval coneixent-ne els seus eixos, un punt de tangència i una de les circumferències de l'oval.



Material subjecte a una llicència CC BY-NC-SA. Es pot copiar i reutilitzar sempre que es faci sense afany de lucre i reconeixent-ne l'autora Marta Juvanteny Gorgals.

161_ovals_ex02