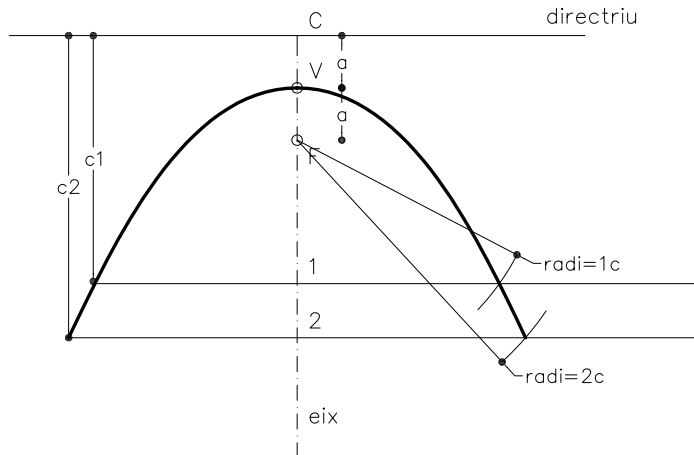
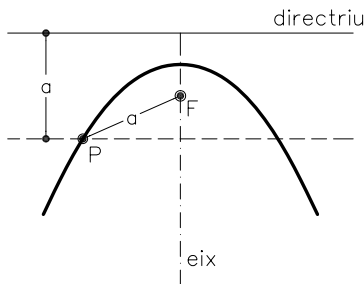
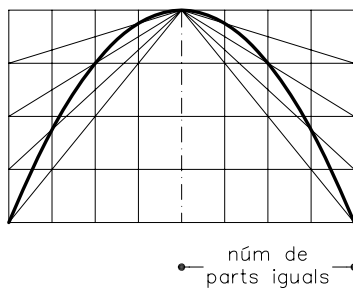


Dibuixeu la paràbola coneixent-ne la directriu i el focus.

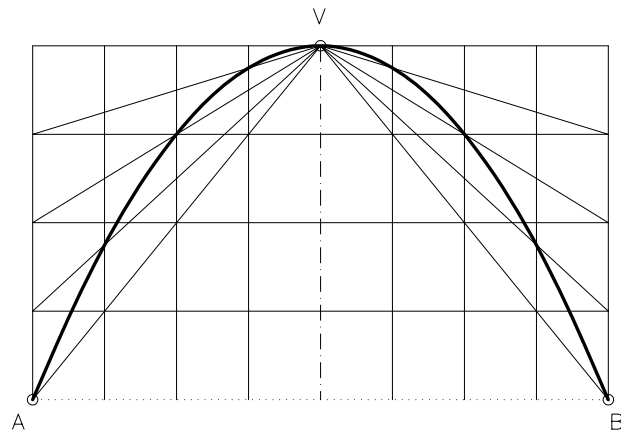


Dibuixeu la paràbola sabent que passa per dos punts A i B i té el vèrtex en V, utilitzant el mètode de la quadrícula.

mètode de la quadrícula per traçar paràboles coneixent-ne el vèrtex, l'eix i un punt de la paràbola.



núm de parts iguals



Material subjecte a una llicència CC BY-NC-SA. Es pot copiar i reutilitzar sempre que es faci sense afany de lucre i reconeixent-ne l'autora Marta Juvanteny Gorgals.

165_paraboles_ex1