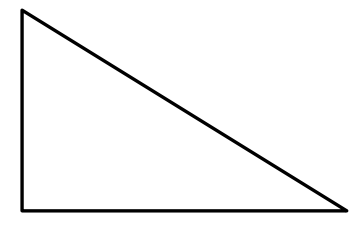
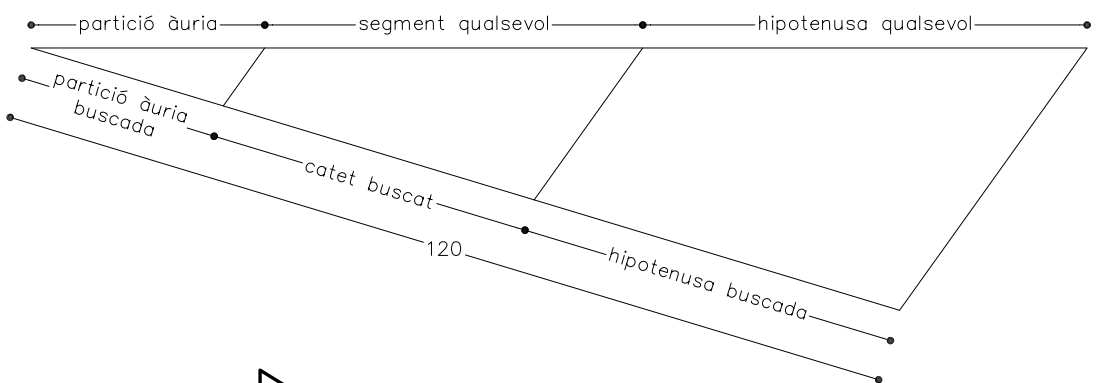
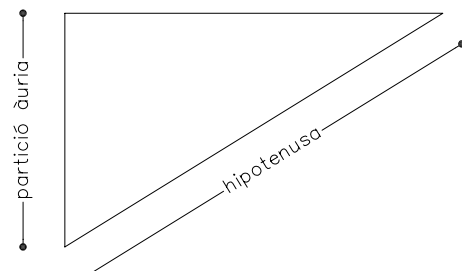
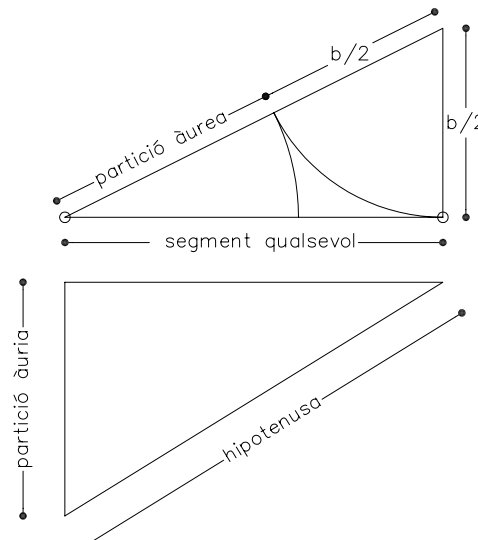


Dibuixeu un triangle rectangle sabent que els dos catets estan en proporció àuria i el perímetre és de 120mm.

La secció àuria d'un segment AB és aquella porció AC que és mitjana proporcional entre la part menor i el total AB

$\frac{AB}{AC} = \phi$ ϕ = número d'or de valor irracional 1,61803398...



Material subjecte a una llicència CC BY-NC-SA. Es pot copiar i reutilitzar sempre que es faci sense afany de lucre i reconeixent-ne l'autora Marta Juvanteny Gorgals.
 212_seccio_auria_ex02