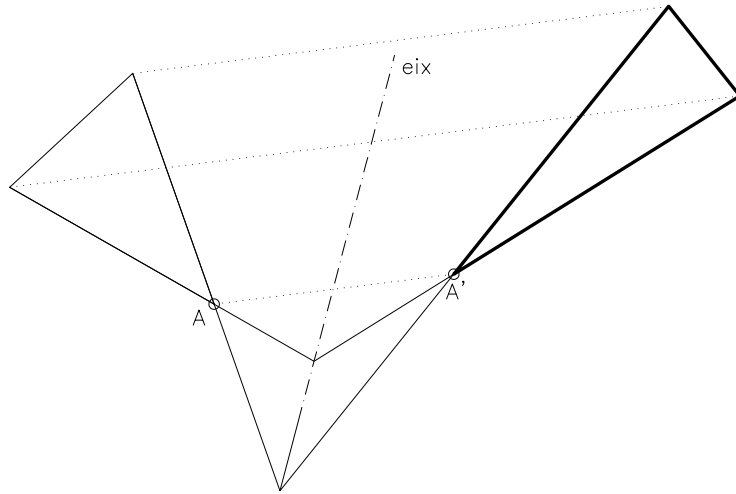
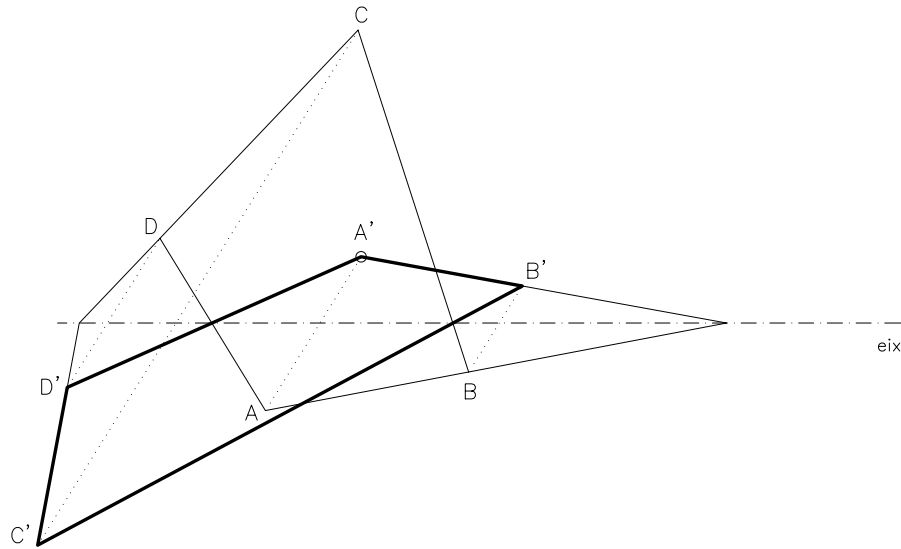


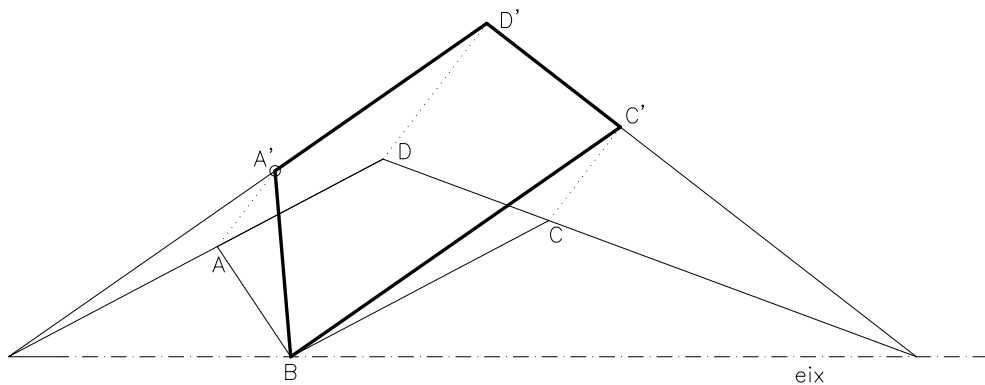
Dibuixeu el triangle afí al donat coneixent-ne l'eix d'afinitat i dos punts afins.



Dibuixeu la figura afí a la donada coneixent-ne l'eix d'afinitat i dos punts afins.



Dibuixeu la figura afí a la donada coneixent-ne l'eix d'afinitat i dos punts afins.



Material subjecte a una llicència CC by-nc-sa. Es pot copiar i reutilitzar sempre que es faci sense afany de lucre i reconeixent-ne l'autora Marta Juvanteny Gorgals.

222_ofinitat_ex01