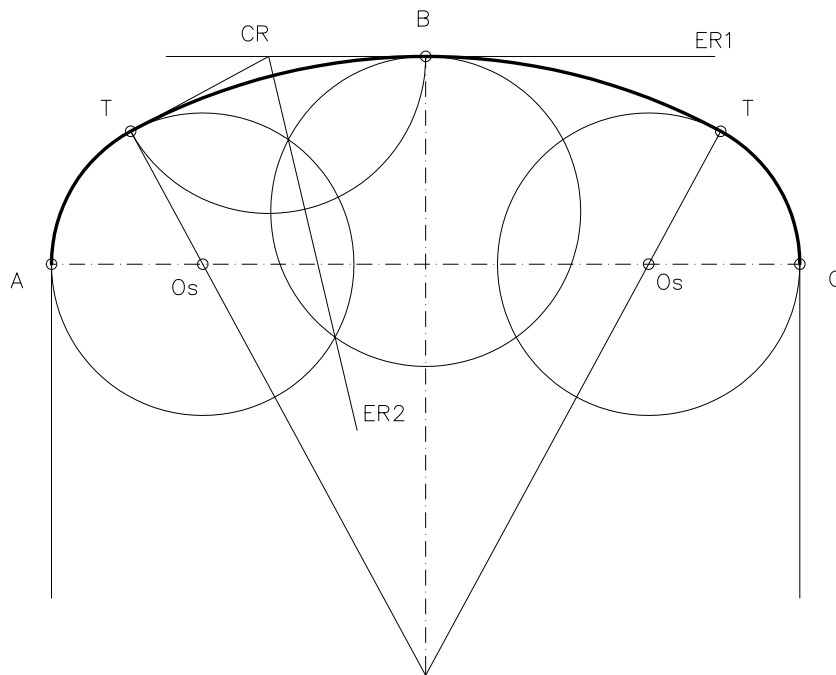
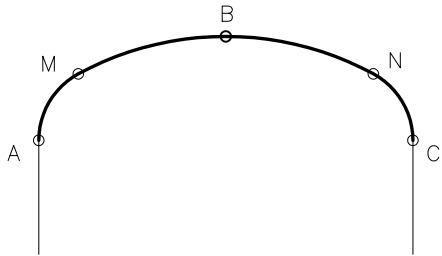
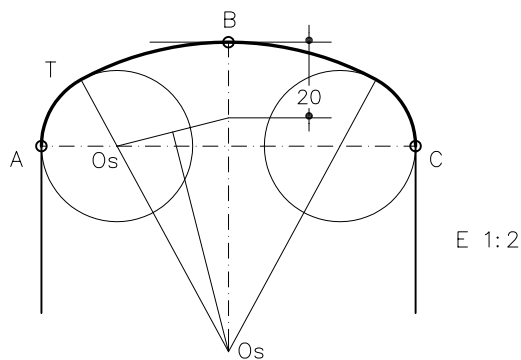


Dibuixeu un arc simètric, com el de l'esquema adjunt, que passi pels punts A, B i C, i que estigui compost per tres arcs de circumferència, AM, MN, i NC, tangents dos a dos entre si, de manera que les rectes tangents en els punts A i C siguin les verticals dibuixades. El radi dels arcs AM i NC és de 20 mm (exercici similar proposat a les PAU del curs 1997-1998).



Resolució pel mètode de les dilatacions:



Material subjecte a una llicència CC BY-NC-SA. Es pot copiar i reutilitzar sempre que es faci sense afany de lucre i reconeixent-ne l'autora Marta Juvanteny Gorgals.

233\_enllacos-ex01