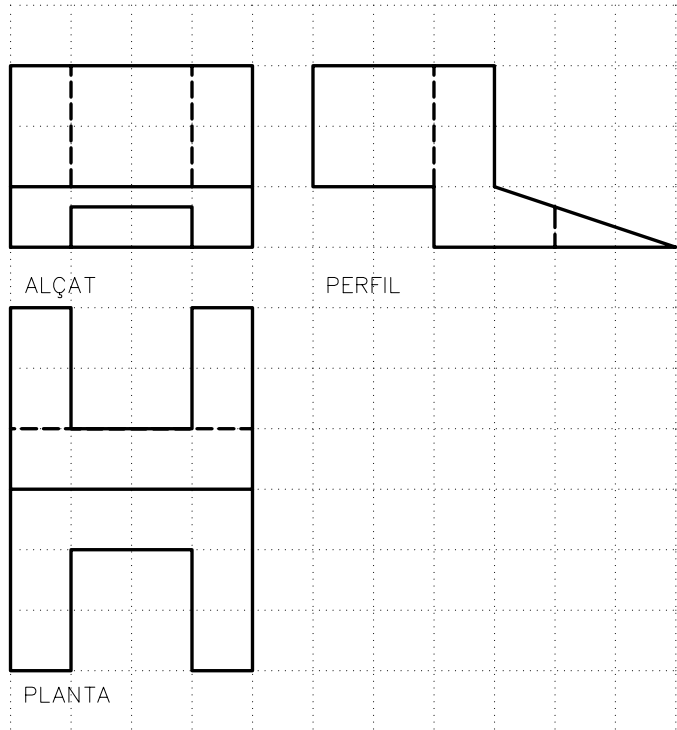
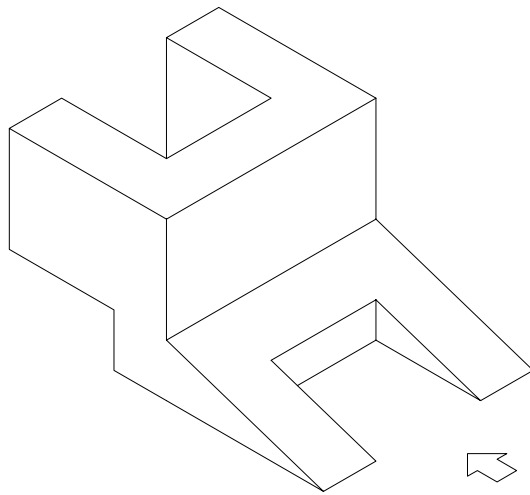
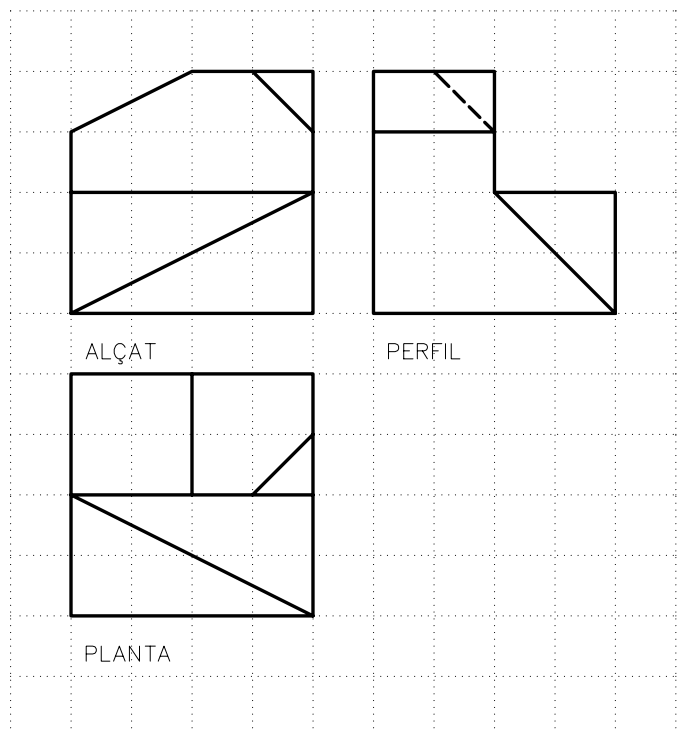
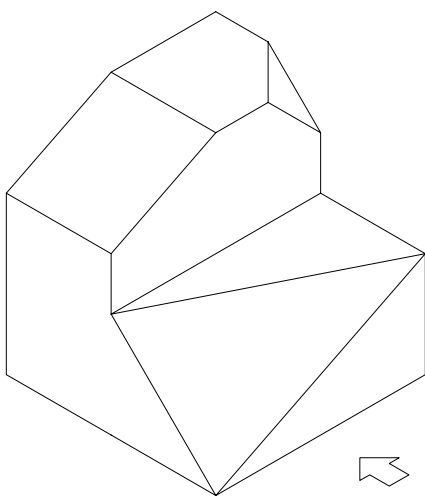


Donada la representació axonomètrica d'un cos, dibuixeu a la mateixa escala les vistes dièdriques de planta, alçat i perfil. Tingueu en compte que totes les mesures són múltiples de la unitat de la quadrícula dibuixada.



Donada la representació axonomètrica d'un cos, dibuixeu a la mateixa escala les vistes dièdriques de planta, alçat i perfil. Tingueu en compte que totes les mesures són múltiples de la unitat de la quadrícula dibuixada.



Material subjecte a una llicència CC by-nc-sa. Es pot copiar i reutilitzar sempre que es faci sense afany de lucre i reconeixent-ne l'autora Marta Juvanteny Gorgals.

311\_vistes\_dièdriques\_ex02