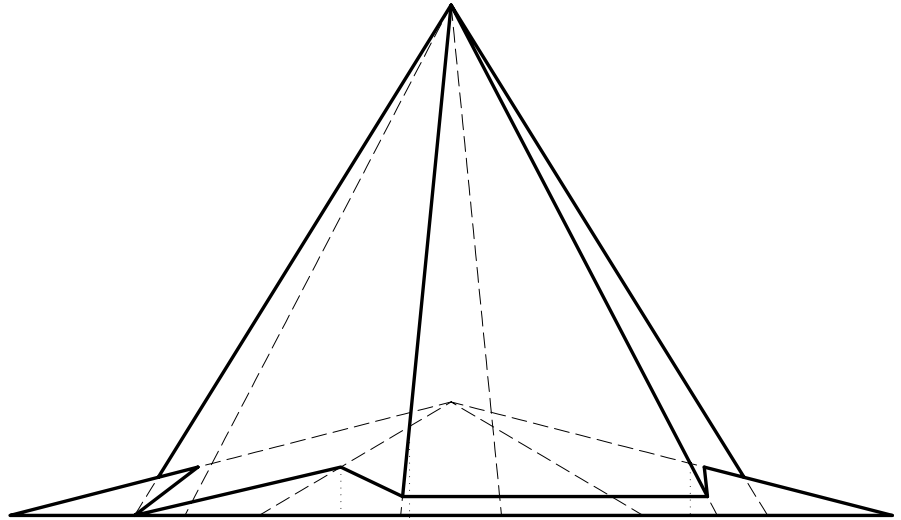
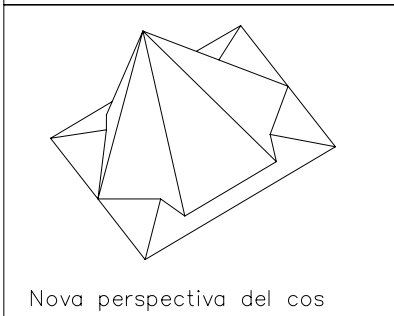
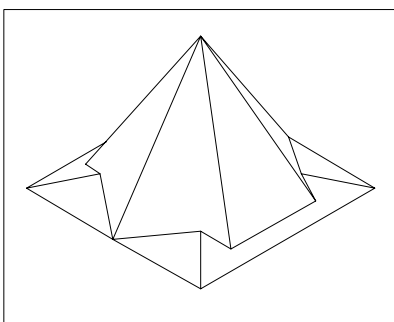
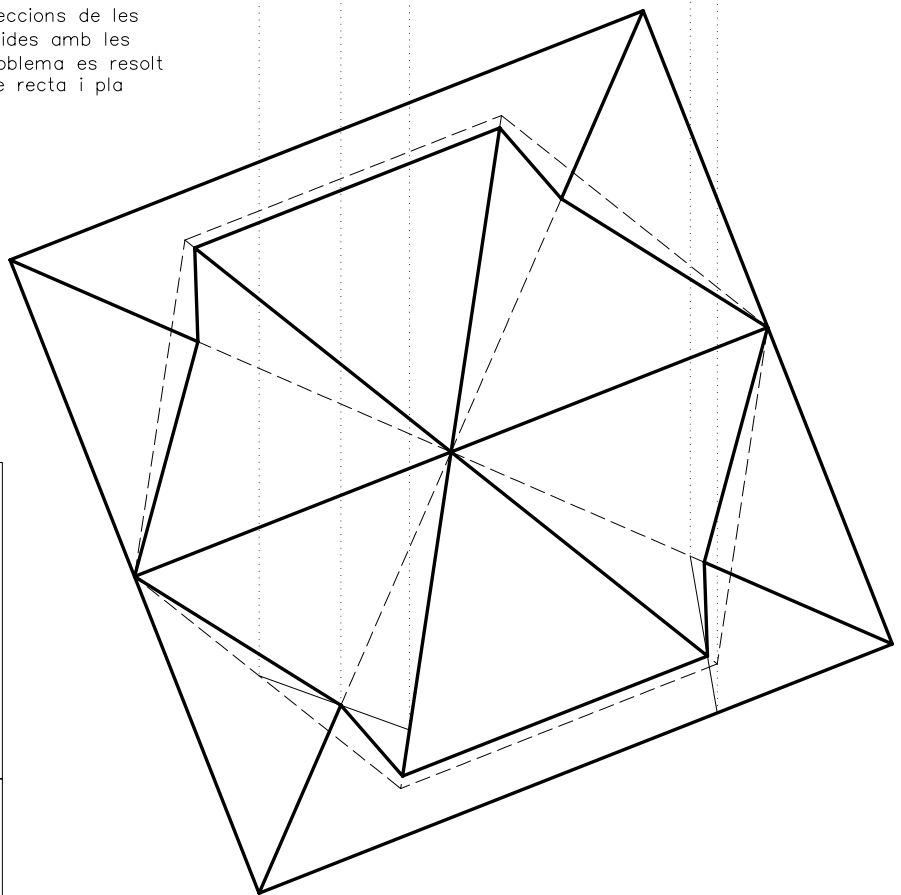


Dibuixeu les projeccions dièdriques del cos que s'obté de la intersecció de les dues piràmides, tal com mostra la perspectiva axonomètrica. Determineu les interseccions en les dues projeccions, assenyalant únicament les parts vistes. Construïu el sòlid resultant en tres dimensions amb DAO i col·loqueu una altra perspectiva volumètricament comprensible del cos, en l'espai lliure del paper a cap escala específica concretant únicament les línies vistes.



S'han de buscar les interseccions de les arestes d'una de les piràmides amb les cares de l'altra (així el problema es resol trobant la intersecció entre recta i pla successivament).



Material subjecte a una llicència CC by-nc-sa. Es pot copiar i reutilitzar sempre que es faci sense afany de lucre i reconeixent-ne l'autora Marta Juvanteny Gorgals.

491\_interseccions\_ex04