

Nom.....

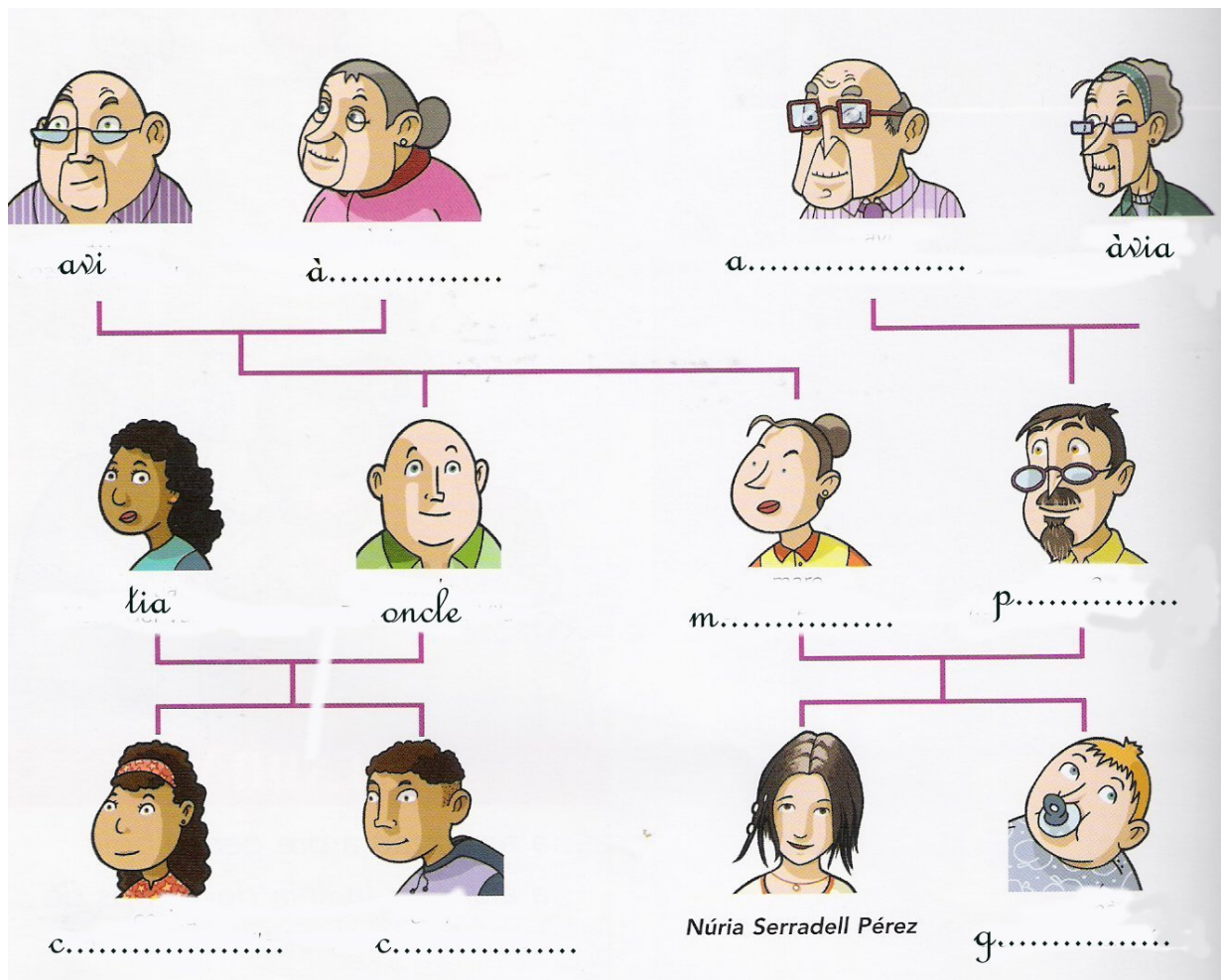
Curs 3r

Data.....

AVALUACIÓ TEMA 14

LA TEVA HISTÒRIA.



1. Aquest és l'arbre genealògic de la Núria. Escribe els nom que falten



2. Contesta les preguntes

- a) Quants germans te la Núria?
- b) Quin són els cognoms de la Núria?.....
- c) Tens cosins o cosines?..... Quants?

3. Ordena aquestes fotografies cronològicament dient quina serà la primera ,la segona i la tercera

		
.....

4. Uneix amb fletxes les mesures de temps i el seu valor

1 any	7 dies
1 setmana	365 dies
1 mes	60 minuts
1 dia	30, 31 o 28 dies
1 segle	100 anys
1 hora	24 hores

An arrow points from '1 hora' to '24 hores'.

5. Completa:

El rellotge serveix per indicar les, elsi els segons.
 Al calendari s'indica l'any i els També els dies de la, que són dilluns,, dimecres,
, divendres,i diumenge.
 El dia festiu de la nostra setmana és el