

*CONeixEMENT DEL MEDI  
NATURAL, SOCIAL I CULTURAL*

**TEMA 10 (deu)**

**EL MEDI FISIC  
I EL PAISATGE  
NATURAL**

*Nom i cognoms.....*

*3r curs*

# EL PAISATGE DE MUNTANYA I LA PLANA

Les formes de relleu són :

<p><b>LA MUNTANYA :</b> És una elevació de terreny</p>	
<p><b>LA SERRALADA:</b> Són moltes muntanyes juntes</p>	
<p><b>EL TURÓ:</b> És una muntanya petita</p>	
<p><b>La VALL:</b> És el terreny que hi ha entre muntanyes</p>	
<p><b>LA PLANA:</b> És una gran extensió de terreny sense elevacions</p>	



Assenyala amb una fletxa la definició que correspon a cada unitat de relleu.

És una elevació de terreny	<b>LA PLANA</b>
Són moltes muntanyes juntes	<b>LA MUNTANYA</b>
És una muntanya petita	<b>LA SERRALADA</b>
És el terreny que hi ha entre muntanyes	<b>EL TURÓ</b>
És una gran extensió de terreny sense elevacions	<b>LA VALL</b>



Ordena les lletres i escriu el nom de la unitat de relleu que correspon:

<b>UNMTAANY</b>	→	
<b>LLVA</b>	→	
<b>ÓRTU</b>	→	
<b>LAPAN</b>	→	
<b>RRAESDAAL</b>	→	

## PARTS D'UNA MUNTANYA



El **cim** és la part més alta de la muntanya.  
El **vessant** és el pendent de la muntanya.  
El **peu** és la part més baixa de la muntanya.



Còpia

El cim és la part més alta de la muntanya.

El vessant és el pendent de la muntanya.

El peu és la part més baixa de la muntanya.



Completa

El..... és la part més ..... de la muntanya. El ..... és el pendent de la muntanya. El ..... és la part més ..... de la muntanya.



Busca aquestes unitats de relleu :

*muntanya, serralada, vall, plana, turó*

S	F	V	N	T	U	R	Ó	I	Y	F	S	H
E	I	A	N	U	M	O	C	M	V	I	J	G
R	P	L	A	N	A	K	T	U	B	W	N	F
O	Y	L	D	T	X	Ç	R	N	K	M	K	W
L	G	N	F	Z	W	B	K	T	B	S	L	X
N	F	T	C	S	E	R	R	A	L	A	D	A
B	D	S	J	H	F	N	V	N	D	T	Y	Z
H	C	B	Z	X	L	H	F	Y	N	L	P	A
J	M	T	Y	I	S	Q	V	A	D	H	Ç	P

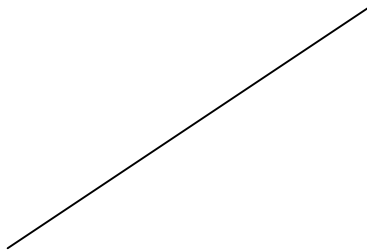


Dibuixa una muntanya i col·loca les seves parts

PEU *peu peu peu peu peu peu*

CIM *cim cim cim cim cim cim*

VESSANT *vessant vessant vessant vessant*





Busca i encercla les lletres de la paraula MUNTANYA

M m

C F C D R  
m K X n M  
l i m M d c d f

U u

U C G I N A  
Y A p b ç u U  
u o a a v b

N n

T N T M L Y n  
C n b n n u p  
A w t s b f t t

T t

R t A A O t t  
X Ç a f t p b  
r r w q r y

A a

L B l C a D L  
a R d l g A Y  
m o v A a

N n

U U F J G A  
U ç o p n N n  
E U i q u u l

Y y

Y Q Ç W S  
y s a r s f  
Y y j x z

A a

A Z Z c I J  
A v m y g x  
A b r f u a



*muntanya* *muntanya* *muntanya*  
*muntanya* *muntanya* *muntanya*



Escriu la paraula:

*muntanya*

## LA COSTA



La costa és el lloc on el mar i la terra es toquen

Hi ha dos tipus de costa:

Platja	Penya-segats
	

La costa és el lloc on el mar i la terra es toquen.

Hi ha dos tipus de costa: platja i penya-segats.

RELLEU DE COSTA



<p><b>UN CAP :</b> És un tros de terra que entra en el mar</p>	<p><b>UN GOLF:</b> És una part de mar que se endinsa en la costa</p>	<p><b>UNA BADIA:</b> És un golf petit</p>
--	--	---



Completa:

Un cap és un ..... de ..... que  
entra en el .....


Un golf és una ..... de ..... que  
s'endinsa en la .....

Una ..... és un golf .....






**UNA ILLA :**  
És un tros de terra envoltat de mar. Si és molt petita diem **illot**.




**UN ARXIPÈLAG :**  
Són moltes illes que estan juntes

Les illes Balears són les situades més a prop de Catalunya.



 Les illes Balears formen un arxipèlag



**UNA PENÍNSULA :**  
 És un tros de terra envoltada de mar per tots els costats menys per un que s'anomena **ISTME**



Completa les paraules i tornar-les a escriure

AR.....PÈLAG	
I.....A	
PE.....SULA	
IST.....	



Completa les paraules del relleu de costa a la foto





Busca aquestes unitats de relleu de la costa :

*Platja, badia, illa, península, istme, golf, cap, illot, arxipèlag*

I	F	V	N	T	M	P	H	I	Y	C	A	P
L	R	I	F	E	L	L	C	M	V	I	J	G
L	A	D	I	A	R	A	T	U	B	W	N	F
O	Y	L	D	T	X	T	R	N	K	M	K	W
T	G	N	F	Z	W	J	K	T	G	O	L	F
N	F	T	P	E	L	A	G	A	H	M	Ç	A
B	A	D	I	A	F	N	V	N	D	T	Y	Z
I	S	T	M	E	W	H	F	Y	N	L	P	A
J	M	T	Y	I	L	L	A	Q	D	H	Ç	P
V	T	X	B	P	E	N	I	N	S	U	L	A
A	R	X	I	P	E	L	A	G	N	R	T	K



Copia les paraules

*platja, badia, illa, península,*  
*platja, badia, illa, península*

.....  
*golf, cap, arxipèlag, penya-segat*  
*golf, cap, arxipèlag, penya-segat*  
 .....

## EL MAPA FÍSIC ES UN DIBUIX AMB LES FORMES DE RELLEU



Mira el mapa físic de Catalunya del llibre i situa aquestes formes de relleu


*Serralada del PIRINEU, Cap de Creus, Golf de Roses, Cap de Tortosa, Golf de Sant Jordi*



Escriu el nom del mar de les costes catalanes:

Mar Mediterrània Mar Mediterrània

# EL TEMPS METEOROLÒGIC



 Quin temps fa avui?

Avui .....

(fa sol, plou, fa vent, fa núvol....)

El **clima** és el temps que fa en un lloc.

Hi ha llocs on fa molta calor



Hi ha llocs on fa molt fred




Al meu país fa .....

fred, calor, fred, calor, fred, calor

# EL PLANETA BLAU ( blau ● )

La terra vista des de l'espai és de color blau perquè l'extensió dels mars i oceans és molt gran.

 La terra vista des de l'espai és de color blau perquè l'extensió dels mars i oceans és molt gran.



El planeta TERRA



L'oceà és molt gran

L'aigua dels mars i els oceans és salada. No es pot beure.

 L'aigua dels mars i els oceans és salada.



Aquí veus un mapa de la terra amb la distribució de oceans (mars) i continents (terres)

## Rius, fonts i llacs

El riu és un corrent d'aigua que neix a les muntanyes i va fins al mar.

El riu és un corrent d'aigua que neix a les muntanyes i va fins al mar.

Curs alt: és el primer camí del riu, quan neix a la muntanya. Porta poca aigua i és molt ràpida



Curs mitjà: és el camí del riu per la plana. Porta més aigua i va més a poc a poc.



Curs baix: és l'últim tros de camí que fa el riu abans d'arribar al mar (desembocadura)





Completa:

El camí d'un riu té 3 parts:

1) Curs .....: és el ..... camí del riu, quan neix a la .....

Porta ..... aigua i és molt .....

2) Curs .....: és el camí del riu per la ..... Porta més ..... i va més a.....

3) .Curs .....: és l'..... tros de camí que fa el riu ..... d'arribar al mar (.....)



Dibuixa un riu fent el seu camí des de que neix a la muntanya fins que desemboca al mar.



El **llac** és una acumulació d'aigua.



Un **estany** és un llac petit.



Un **embassament** és un llac artificial. Serveix per recollir l'aigua i produir electricitat.



Les **fonts** porten aigua de dins de la terra



Mira les fotos i escriu al costat de cada numero el seu nom

1.....

2.....

3.....

4.....



Busca les paraules a la sopa de lletres :

*mar, riu, oceà, llac, font, estany, embassament*

F	E	L	L	C	M	A	R	Y	D	G	B
I	A	R	A	T	P	B	I	V	Ç	X	Z
D	T	X	T	R	N	K	U	R	Q	E	T
F	Z	W	J	K	T	G	O	C	E	A	U
S	E	M	B	A	S	S	A	M	E	N	T
I	A	F	N	V	N	D	T	F	O	N	T
E	S	T	A	N	Y	S	U	J	M	S	A



L'aigua per beure es diu potable.

L' aigua per beure es diu potable

L' aigua per beure es diu potable



Busca i encercla la paraula

**riu**

Riu muntanya estany *llac riu mar* RIU TERRA  
 FONT RIU RIU OCEÀ PLANA RIU  
 mar serrallada riu llac  
 riu cim llac mar muntanya riu aigua riu

Nom:

Data:

L'AIGUA

L'aigua que bevem es diu potable

L'aigua del mar és salada.

L'aigua dels rius és dolça.

Netegem l'aigua dels rius.

Aquesta aigua surt per l'aixeta.

L'embassament té molta aigua