

***CONEIXEMENT DEL MEDI  
NATURAL, SOCIAL I CULTURAL***

**TEMA 11 (onze)**

**LES COMARQUES  
DE  
CATALUNYA**

***Nom i cognoms.....***

***4rt curs***

Aquest és el mapa de Catalunya

**N**  
**(nord)**


**O**  
**(oest)**



**E**  
**(est)**

**S**  
**(sud)**

Catalunya limita al nord amb França i Andorra. A l'est limita amb la mar Mediterrània. A l'oest limita amb Aragó. Al sud limita amb la Comunitat Valenciana.

 Catalunya limita al ..... amb .....  
i ..... A l'est limita amb la mar  
..... A l'oest limita amb .....  
Al sud limita amb la .....



Encercla les lletres de CATALUNYA

C c

C	F	C	ç	D	
R	K	X			
i	u	d	c	d	f

A a

A	C	G	I	N	A
Y	A	p	u	ç	
G	a	a	r	b	

T t

T	T	M	L	Y	C		
A	w	t	s	b	f	t	t
r	u	s	t	T	r		

A a

R	S	A	A	O	
X	ç	a	j	p	b
r	r	w	q	r	y

L l

L	B	l	C	a	D	L
L	R	d	l	g	m	
o	L	l	e			

U u

U	U	F	J	G	A	
U	ç	o	p	u	U	x
E	U	i	q	u	u	

N n

N	N	M	H	K	A	
N	n	D	s	p	v	s
T	h	n	n	m		

Y y

Y	Q	ç	W	S	
Y	a	r	s	f	
Y	y	h	j	x	z

A a

A	Z	I	J	A	
m	y	g	x	j	A
r	u	a	e	s	



Escriu el nom de Catalunya

Catalunya Catalunya Catalunya  
 Catalunya Catalunya Catalunya



Completa el mapa i els punts cardinals

**N**  
(n.....)



**O**  
(o.....)

**E**  
(e.....)

**S**  
(s.....)





Busca els punts cardinals (nord, sud, est i oest) a la sopa de lletres

A	R	S	T	V	M	K	G	H	I	J	L	P
N	O	R	D	L	P	E	D	P	H	Q	W	
A	S	D	U	O	E	S	T	N	B	F	X	
R	Ç	U	D	I	J	P	T	Y	S	U	D	R

Un MUNICIPI està format per la localitat on vius i els territoris que l'envolten.

La localitat pot ser un POBLE o una CIUTAT


El poble és petit	La ciutat és gran
	

Badalona és una ciutat.

*Badalona és una ciutat*

 *Badalona és una ciutat*

Moltes localitat properes formen un municipi. Un conjunt de municipis formen una COMARCA

	<p>Nosaltres vivim a la Comarca del <b>BARCELONÈS.</b></p> <p>Els municipis que la formen són:</p> <p><i><b>Badalona, Barcelona, Sant Adrià del Besòs, Santa Coloma de Gramenet i l'Hospitalet del Llobregat</b></i></p>
---	--

Catalunya té 41 comarques.



Busca la teva comarca (el Barcelonès) al mapa de Comarques de Catalunya i escriu el nom de les comarques que té al voltant



M....., V..... O....., V ..... O..... i

B..... Ll.....

La capital d'una comarca és la ciutat més important.  
La capital del Barcelonès és Barcelona.

- La capital del Barcelonès és Barcelona.
- Quina és la capital del Barcelonès?

.....

Nom:

Data:

LES COMARQUES DE CATALUNYA

Catalunya té 41 comarques.

40 (quaranta) 41 (quaranta-una)

Cada comarca té la seva capital.

La capital de comarca és la ciutat

més important. Hi ha l'hospital.

La capital té bones carreteres

Catalunya té 3 (tres) tipus de comarques:

**1)Comarques de muntanya:**  
Estan situades a les muntanyes



**2)Comarques d'interior:**  
Estan situades a les planes



**3)Comarques de costa**  
Estan situades a prop del mar



Quins tipus de comarques té Catalunya?

*Catalunya té tres tipus de comarques:*

1).....

2).....

3).....



Completa:

*Les comarques de la costa estan situades .....*



# LES COMARQUES DE MUNTANYA

Estan en zones amb muntanyes molt altes  
valls estretes.

A l'hivern neva i a l'estiu fa poca calor. Hi ha boscos de pi negre i avet

Els pobles són petits.

Hi ha masies aïllades.

Les carreteres són estretes amb molts revolts.



Completa

Estan en zones amb .....molt  
altes i .....estretes.

A l'hivern .....i a l'estiu fa poca calor.  
Hi ha boscos de .....negre i.....

Els pobles són.....

Hi ha .....aïllades

La gent treballa en la .....a i el  
.....

Les .....són estretes amb molts  
revolts

# LES COMARQUES DE MUNTANYA

Estan en zones amb *montanyes*



molt altes i

*valls* estretes.



A l'hivern neva



i a l'estiu fa poca calor.

Hi ha boscos de *pi negre*  
Els pobles són petits.



i *avet*



Hi ha *masies* aïllades.



Les carreteres són estretes amb molts revolts





Completa

Estan en zones amb .....molt  
altes i .....estretes.

A l'hivern .....i a l'estiu fa poca calor.

Hi ha boscos de .....negre i.....

Els pobles són.....

Hi ha .....aïllades.

La gent treballa en la .....a i el

.....

Les .....són estretes amb molts  
revolts.



Escriu el nom





Busca aquestes comarques de muntanya

*Cerdanya, Solsonès, Berguedà, Ripollès, Garrotxa*

K	L	M	T	V	V	B	Z	X	A	S	B	R	I	O	P	B
Q	C	E	R	D	A	N	Y	A	B	S	E	F	R	G	H	J
A	E	G	J	W	S	C	Ç	U	R	R	T	Y	I	K	J	K
Z	W	T	H	S	F	H	J	B	M	B	N	C	P	E	Y	L
G	A	R	R	O	T	X	A	A	S	R	T	U	O	J	G	B
C	R	Y	G	L	C	D	T	A	D	C	X	V	L	G	F	M
Ç	T	U	F	S	R	R	U	V	T	E	R	F	L	B	V	V
M	Y	I	D	O	I	K	L	B	E	R	G	U	E	D	A	F
Y	G	O	S	N	L	L	O	F	G	Y	E	L	S	N	I	D
T	J	P	A	E	P	Y	Z	W	T	Y	U	B	J	M	U	E
F	S	L	Q	S	D	S	W	R	B	J	S	F	H	T	Y	Q
D	X	K	A	I	V	M	H	E	H	H	X	D	F	G	T	R



Uneix la comarca amb la seva capital

Vall d'Aran

Pallars Jussà

Pallars Sobirà

Garrotxa

Olot

Sort

Tremp

→ Vielha

# LES COMARQUES D'INTERIOR

Estan en zones amb muntanyes baixes i planes.

A l'hivern fa fred i a l'estiu fa molta calor.

Hi ha boscos d'alzines.

Els pobles són més grans.

La gent treballa en la ramaderia, l'agricultura i la indústria.

Les carreteres són amples .



Completa

Estan en zones amb ..... baixes i planes.

A l'hivern fa ..... i a l'estiu fa .....

Hi ha boscos d'.....

Els pobles són més.....

La gent treballa en la.....,

l'..... i la.....

Les ..... són amples .

# LES COMARQUES D'INTERIOR

Estan en zones amb *muntanyes baixes*



i *planes*



A l'hivern fa fred i a l'estiu fa molta calor.

Hi ha boscos d'*alzines*



Els *pobles* són més grans



La gent treballa en la ramaderia, l'*agricultura*



i la *indústria*



Les carreteres són amples





Completa

Estan en zones amb ..... baixes i planes.

A l'hivern fa ..... i a l'estiu fa .....

Hi ha boscos d'.....



Els pobles són més.....

La gent treballa en la....., l'..... i la.....

Les ..... són amples .



Escriu el nom



Còpia

A les comarques d'interior les carreteres son amples



Busca aquestes comarques d'interior

*Noguera, Segrià, Osona, Bages, Anoia, Segarra, Urgell,  
Garrigues*

K	S	M	T	V	V	B	Z	X	A	S	B	R	I	O	P	B
Q	E	B	N	O	G	U	E	R	A	E	O	F	R	G	H	J
A	G	G	J	W	S	C	Ç	U	R	G	S	Y	I	K	J	K
Z	R	T	H	S	F	H	J	B	M	A	O	C	P	E	Y	L
G	I	R	R	O	T	X	A	A	S	R	N	U	O	J	G	B
C	A	Y	G	L	C	D	T	A	D	R	L	V	L	G	F	M
Ç	T	U	F	S	R	R	U	V	T	A	R	F	L	B	V	V
M	Y	I	D	O	I	K	L	B	A	G	E	S	E	D	A	F
Y	G	A	R	R	I	G	U	E	S	Y	E	L	S	N	I	D
T	J	P	A	N	O	I	A	W	T	Y	U	B	J	M	U	E
F	S	L	Q	S	D	S	W	R	B	J	S	F	H	T	Y	Q
D	X	K	A	I	V	M	H	E	H	H	U	R	G	E	L	L




Uneix la comarca amb la seva capital

Vallés Occidental

Vic

Vallés Oriental



Granollers

Osona

Sabadell

Conca de Barberà

Montblanc



# LES COMARQUES DE COSTA

Estan al costat del mar.

A l'hivern fa poc fred i a l'estiu fa calor.

A la primavera i la tardor plou

Hi ha boscos de pins i arbustos.

Hi ha ciutats i pobles molt grans.

Es on viuen més persones.

La gent treballa en l'agricultura, la pesca, la indústria i el turisme.

Hi ha bones carreteres, ports i aeroports.



Completa

Estan al costat del.....

A l'..... fa poc fred i a l'..... fa calor.

A la primavera i la tardor .....

Hi ha boscos de .....i.....

Hi ha .....i pobles molt.....

Es on viuen més persones

La gent treballa en l'agricultura, la

....., la indústria i el.....

Hi ha bones....., ports i

.....

# LES COMARQUES DE COSTA

Estan al costat del *mar*



A l'hivern fa poc fred i a l'estiu fa calor

A la *primavera* i la *tardor* plou



Hi ha boscos de pins i *arbustos*  
Hi ha ciutats i pobles molt grans.



Es on viuen més *persones*.

La gent treballa en l'agricultura, la *pesca*



la indústria i el *turisme*



Hi ha bones carreteres,

*ports*



i *aeroports*.





Completa

Estan al costat del.....

A l'..... fa poc fred i a l'..... fa calor.

A la primavera i la tardor .....

Hi ha boscos de .....i.....

Hi ha .....i pobles molt.....

Es on viuen més persones

La gent treballa en l'agricultura, la  
....., la indústria i el.....

Hi ha bones....., ports i

.....



Escriu el nom





Busca aquestes comarques de costa

*Selva, Maresme, Tarragonès, Garraf, Barcelonès, Gironès*

G	I	R	O	N	E	S	Z	X	A	S	B	R	I	O	P	B
A	E	B	N	L	G	I	E	K	A	E	O	F	R	G	H	A
R	G	G	J	W	S	C	T	U	R	P	S	Y	I	K	J	R
R	R	T	H	S	F	H	A	B	M	F	O	C	S	E	Y	C
A	F	R	R	O	N	X	R	A	S	R	N	U	E	J	G	E
F	A	Y	G	L	C	D	R	A	D	D	L	V	L	G	F	L
Ç	T	U	F	S	R	R	A	V	T	A	R	F	V	B	V	O
M	A	R	E	S	M	E	G	J	O	G	P	S	A	D	A	N
Y	G	Z	X	O	I	G	O	E	S	E	L	V	A	A	I	E
T	J	P	A	N	O	I	N	W	T	Y	U	B	J	M	U	S
F	S	L	Q	S	D	S	E	R	B	J	S	F	H	T	Y	Q
D	X	K	A	I	V	M	S	E	H	H	U	R	B	V	Y	L



Uneix la comarca amb la seva capital

Maresme	Sant Feliu de Llobregat
Tarragonès	Figueres
Alt Empordà	Tortosa
Baix Ebre	Tarragona
Baix Llobregat	Mataró

*(Note: An arrow points from Tarragonès to Tarragona)*

Aquí tens un mapa de les comarques de Catalunya



Pinta de color verd ● les comarques de muntanya,  
de color groc ● les comarques d'interior i de color blau ●  
les comarques de la costa



Busca en el mapa les següents comarques i escriu el numero  
en el seu lloc corresponen

- 1.Barcelonés
- 2.Vall d'Aran
- 3.Cerdanya
4. Segrià
5. Montsià
6. Baix Empordà
7. Garrotxa
- 8.Osona
9. Alta Ribagorça
10. Bages