

1. a) Demostreu la identitat $\tan(3x) = \frac{3 \tan x - \tan^3 x}{1 - 3 \tan^2 x}$.

b) Resoleu l'equació $\tan(3x) + \tan^3 x = 0$.

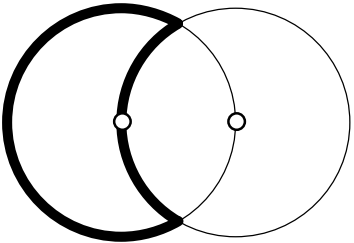
a) Utilitzarem les fórmules de la tangent d'una suma i de la tangent de l'angle doble.

$$\begin{aligned} \tan(3x) &= \tan(2x + x) = \frac{\tan(2x) + \tan x}{1 - \tan(2x) \cdot \tan x} = \frac{\frac{2 \tan x}{1 - \tan^2 x} + \tan x}{1 - \frac{2 \tan x}{1 - \tan^2 x} \cdot \tan x} = \\ &= \frac{\frac{2 \tan x + \tan x - \tan^3 x}{1 - \tan^2 x}}{\frac{1 - \tan^2 x - 2 \tan^2 x}{1 - \tan^2 x}} = \frac{3 \tan x - \tan^3 x}{1 - 3 \tan^2 x} \end{aligned}$$

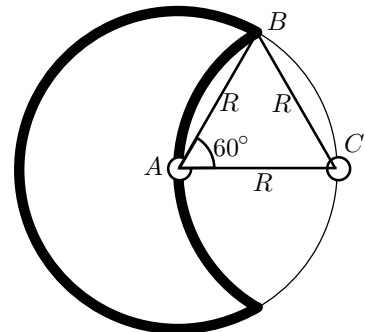
b) Si apliquem la identitat de l'apartat primer resulta

$$\begin{aligned} \tan(3x) + \tan^3 x = 0 &\iff \frac{3 \tan x - \tan^3 x}{1 - 3 \tan^2 x} + \tan^3 x = 0 \iff \\ &\iff 3 \tan x - \tan^3 x + \tan^3 x - 3 \tan^5 x = 0 \iff \tan^5 x - \tan x = 0 \iff \\ &\iff \tan x \cdot (\tan^4 x - 1) = 0 \iff \begin{cases} \tan x = 0 \\ \circ \\ \tan x = 1 \\ \circ \\ \tan x = -1. \end{cases} \iff \begin{array}{l} x = n \cdot \pi \\ \circ \\ x = \frac{\pi}{4} + n \cdot \frac{\pi}{2} \end{array} \end{aligned}$$

2. Les dues circumferències de la figura adjunta tenen els radis iguals a R . El centre de cadascuna d'elles es troba sobre el perímetre de l'altra. Calculeu l'àrea de la "lluna" remarcada.



$$\begin{aligned} \text{Àrea(Lluna)} &= \text{Àrea(Cercle)} - 2 \cdot \text{Àrea(Sector } ABC) - \\ &\quad - 2 \cdot \text{Àrea(Segment circular } AB) = \\ &= \text{Àrea(Cercle)} - 4 \cdot \text{Àrea(Sector } ABC) + \\ &\quad + 2 \cdot \text{Àrea(Triangle } ABC) = \\ &= \pi R^2 - 4 \frac{\pi}{6} R^2 + 2 \cdot \frac{1}{2} R^2 \frac{\sqrt{3}}{2} = \\ &= \frac{\pi}{3} R^2 + \frac{\sqrt{3}}{2} R^2 = \left(\frac{\pi}{3} + \frac{\sqrt{3}}{2} \right) R^2. \end{aligned}$$



3. Considereu els punts $A(-1, 0)$, $B(5, 0)$ i $C(4, 7)$. Trobeu

- Un vector perpendicular a \overline{AC} que tingui mòdul igual a 2.
- L'equació general de la mitjana del triangle $\triangle ABC$ que passa pel vèrtex B .
- L'equació, el centre i el radi de la circumferència que passa pels punts A , B i C .

a) $\overline{AC} = (4 - (-1), 7 - 0) = (5, 7) \implies$ vector perpendicular a $\overline{AC} = (-7, 5)$. Llavors, si trobem un vector unitari en aquesta direcció i el multipliquem per 2 obtindrem el vector demanat de mòdul 2:

$$2 \cdot \text{Vector unitari} = 2 \cdot \left(\frac{-7}{\sqrt{(-7)^2 + 5^2}}, \frac{5}{\sqrt{(-7)^2 + 5^2}} \right) = \boxed{\left(\frac{-14}{\sqrt{74}}, \frac{10}{\sqrt{74}} \right)}.$$

L'altra solució possible s'obté a partir de $(7, -5)$ i és $\boxed{\left(\frac{14}{\sqrt{74}}, \frac{-10}{\sqrt{74}} \right)}$.

b) Es demana la recta que passa pel punt B i el punt mitjà M del segment AC . Llavors,

$$M = \left(\frac{4 - 1}{2}, \frac{7 + 0}{2} \right) = \left(\frac{3}{2}, \frac{7}{2} \right). \text{ Vector director } \overline{MB} = \left(5 - \frac{3}{2}, 0 - \frac{7}{2} \right) = \left(\frac{7}{2}, -\frac{7}{2} \right).$$

Si multipliquem \overline{MB} per $\frac{2}{7}$ obtenim el vector director $(1, -1)$ i l'equació de la mitjana és

$$\frac{x - 5}{1} = \frac{y}{-1} \iff \boxed{x + y - 5 = 0}.$$

c) Imposarem que les coordenades dels punts A , B i C satisfaguin l'equació

$$x^2 + y^2 + mx + ny + p = 0.$$

En resulta el sistema
$$\begin{cases} 1 - m + p = 0 \\ 25 + 5m + p = 0 \\ 65 + 4m + 7n + p = 0. \end{cases}$$

Si restem la primera equació de la segona obtenim

$$6m + 24 = 0 \implies m = -4 \implies p = -4 - 1 = -5 \implies n = \frac{-65 - 4 \cdot (-4) - (-5)}{7} = -\frac{44}{7}.$$

Per tant, l'equació de la circumferència és:

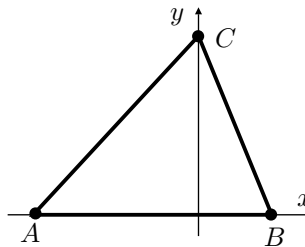
$$\boxed{x^2 + y^2 - 4x - \frac{44}{7}y - 5 = 0 \quad \text{o també} \quad 7x^2 + 7y^2 - 28x - 44y - 35 = 0}.$$

El centre és: $\left(-\frac{-4}{2}, -\frac{-44/7}{2} \right) = \boxed{\left(2, \frac{22}{7} \right)}$.

El radi és: $\sqrt{a^2 + b^2 - p} = \sqrt{2^2 + \frac{22^2}{7^2} + 5} = \sqrt{9 + \frac{484}{49}} = \frac{\sqrt{925}}{7} = \boxed{\frac{5\sqrt{37}}{7}}$.

4. Considereu un triangle qualsevol i una referència ortonormal tal que els vèrtexs A , B i C del triangle tenen les coordenades següents:

$$A(a, 0), B(b, 0) \text{ i } C(0, c).$$



- a) Trobeu les equacions de les seves altures.
- b) Demostreu analíticament que aquestes altures tenen un punt en comú.

a) $\overrightarrow{BC} = (-b, c) \implies$ Un vector perpendicular a \overrightarrow{BC} és (c, b) .

Per tant, l'altura pel punt A té l'equació:

$$\boxed{\frac{x - a}{c} = \frac{y - 0}{b} \quad \text{o també} \quad y = \frac{b}{c}(x - a)}.$$

$\overrightarrow{AC} = (-a, c) \implies$ Un vector perpendicular a \overrightarrow{AC} és (c, a) .

Per tant, l'altura pel punt B té l'equació:

$$\boxed{\frac{x - b}{c} = \frac{y - 0}{a} \quad \text{o també} \quad y = \frac{a}{c}(x - b)}.$$

$\overrightarrow{AB} = (b - a, 0) \implies$ Un vector perpendicular a \overrightarrow{AB} és $(0, 1)$.

Per tant, l'altura pel punt A té l'equació:

$$\boxed{\frac{x - 0}{0} = \frac{y - c}{1} \quad \text{o també} \quad x = 0}.$$

$$\text{b) } x = 0 \implies \begin{cases} y = \frac{b}{c}(0 - a) \\ y = \frac{a}{c}(0 - b) \end{cases} \implies y = -\frac{ab}{c}.$$

Per tant, les tres altures tenen un punt en comú i aquest és $\boxed{\left(0, -\frac{ab}{c}\right)}$.