

Heu d'intentar resoldre els cinc exercicis primers i triar-ne un entre els dos últims.

1. Simplifiqueu i racionalitzeu quan calgui, de manera que en els resultats no apareguin decimals ni exponents negatius ni fraccionaris:

$$\text{a)} \frac{\sqrt[3]{a} \sqrt{\sqrt{b}} \sqrt[4]{a}}{\sqrt[6]{b^3}} \quad \text{b)} \frac{\sqrt{5 + \sqrt{5}}}{\sqrt{5 - \sqrt{5}}}.$$

$$\text{a)} \frac{\sqrt[3]{a} \sqrt{\sqrt{b}} \sqrt[4]{a}}{\sqrt[6]{b^3}} = a^{\frac{1}{3} + \frac{1}{4}} \cdot b^{\frac{1}{12} - \frac{3}{6}} = a^{\frac{4+3}{12}} \cdot b^{\frac{1-6}{12}} = \frac{a^{\frac{7}{12}}}{b^{\frac{5}{12}}} = \frac{\sqrt[12]{a^7 b^7}}{\sqrt[12]{b^5 b^7}} = \boxed{\frac{\sqrt[12]{a^7 b^7}}{b}}.$$

$$\begin{aligned} \text{b)} \frac{\sqrt{5 + \sqrt{5}}}{\sqrt{5 - \sqrt{5}}} &= \frac{(\sqrt{5 + \sqrt{5}})^2}{(\sqrt{5 - \sqrt{5}})(\sqrt{5 + \sqrt{5}})} = \frac{5 + \sqrt{5}}{\sqrt{25 - 5}} = \frac{5 + \sqrt{5}}{\sqrt{20}} = \frac{5 + \sqrt{5}}{2\sqrt{5}} = \frac{5 + \sqrt{5}}{2\sqrt{5}} \cdot \frac{\sqrt{5}}{\sqrt{5}} \\ &= \frac{5(\sqrt{5} + 1)}{2 \cdot 5} = \boxed{\frac{\sqrt{5} + 1}{2}}. \end{aligned}$$

2. Resoleu l'equació: $\frac{10}{x^2 - 1} - \frac{5}{x^4 - 1} = 3$.

$$\frac{10}{x^2 - 1} - \frac{5}{x^4 - 1} = 3 \xrightarrow{(*)} 10(x^2 + 1) - 5 = 3(x^4 - 1) \Rightarrow 3x^4 - 10x^2 - 8 = 0$$

$$\Rightarrow x^2 = \frac{5 \pm \sqrt{25 + 24}}{3} = \frac{5 \pm 7}{3} = \begin{matrix} \nearrow 4 \\ \searrow -\frac{2}{3} \end{matrix} \Rightarrow \boxed{x = \pm\sqrt{4} = \pm 2}.$$

(*) Tenim en compte que $x^4 - 1 = (x^2 - 1)(x^2 + 1)$.

3. Sigui el polinomi $p(x) = x^5 - 3x^3 - 4x$. Trobeu els valors de la x tals que $p(x) \geq 0$, amb l'ajut dels gràfics de rectes i/o paràboles.

Primerament, cercarem la seva descomposició factorial. En ser x factor comú, obtenim una primera descomposició:

$$p(x) = x^5 - 3x^3 - 4x = x(x^4 - 3x^2 - 4).$$

Ara, només cal trobar les arrels del segon factor. Aquestes s'obtenen de:

$$\begin{aligned} x^4 - 3x^2 - 4 = 0 &\Rightarrow x^2 = \frac{3 \pm \sqrt{9 + 16}}{2} = \frac{3 \pm 5}{2} = \begin{matrix} \nearrow 4 \\ \searrow -1 \end{matrix} \\ &\Rightarrow x^4 - 3x^2 - 4 = (x^2 - 4)(x^2 + 1) = (x + 2)(x - 2)(x^2 + 1) \end{aligned}$$

Per tant, la descomposició definitiva és,

$$p(x) = x(x - 2)(x + 2)(x^2 + 1).$$

Ara, només cal representar l'esquema gràfic dels factors i estudiar-ne els signes.

Gràfic dels factors				
Signe dels factors	- · - · - · +	+ · - · - · +	+ · + · - · +	+ · + · + · +
Signe de $p(x)$	\ominus	\oplus	\ominus	\oplus
Ordre dels factors	$(x+2)x(x-2)(x^2+1)$			

Per tant, $p(x) \geq 0 \iff x \in [-2, 0] \cup [2, +\infty)$

4. Trobeu el coeficient numèric del terme de grau 28 del desenvolupament del binomi

$$\left(\frac{2}{x^2} - x^2\right)^{20}.$$

Anomenem T_k el terme que ocupa el lloc k . Llavors,

$$T_k = \binom{20}{k-1} \left(\frac{2}{x^2}\right)^{21-k} (-x^2)^{k-1} = \binom{20}{k-1} 2^{21-k} (-1)^{k-1} x^{2k-2-42+2k}$$

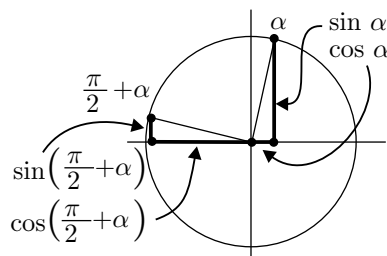
Si imposem que el grau sigui igual a 28, obtenim

$$2k - 2 - 42 + 2k = 28 \iff 4k = 72 \iff k = 18.$$

Per tant,

$$\text{Coeficient de } T_{18} = \binom{20}{17} 2^3 (-1)^{17} = \frac{20 \cdot 19 \cdot 18}{3 \cdot 2} \cdot 8 \cdot (-1) = \boxed{-9120}.$$

5. Considereu $0 < \alpha < \frac{\pi}{2}$ tal que $\cos \alpha = \frac{1}{5}$. Trobeu sense calculadora el valor exacte de $\tan\left(\frac{\pi}{2} + \alpha\right)$, amb l'ajut de la circumferència trigonomètrica.



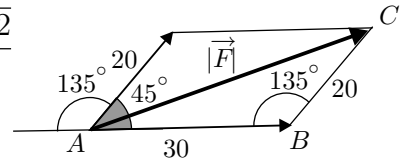
A partir de la figura adjunta obtenim

$$\begin{aligned} \tan\left(\frac{\pi}{2} + \alpha\right) &= \frac{\sin\left(\frac{\pi}{2} + \alpha\right)}{\cos\left(\frac{\pi}{2} + \alpha\right)} = \frac{\cos \alpha}{-\sin \alpha} = -\frac{1}{\tan \alpha} = -\frac{1}{\frac{1}{\sqrt{\frac{1}{\cos^2 \alpha} - 1}}} \\ &= -\frac{1}{\frac{1}{\sqrt{\frac{1}{(1/5)^2} - 1}}} = -\frac{1}{\frac{1}{\sqrt{25 - 1}}} = -\frac{1}{\frac{1}{\sqrt{24}}} = -\frac{1}{2\sqrt{6}} = \boxed{-\frac{\sqrt{6}}{12}}. \end{aligned}$$

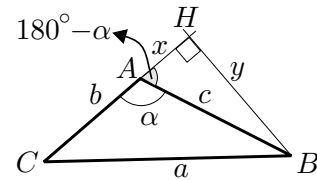
6. Dues forces de 20 N i 30 N s'apliquen sobre un mateix punt i formen un angle de 45° .
- Trobeu la intensitat de la força resultant.
 - Demostreu el teorema utilitzat.

a) Apliquem el teorema del cosinus al triangle $\triangle ABC$ de la figura

$$\begin{aligned}
 |\vec{F}| &= \sqrt{20^2 + 30^2 - 2 \cdot 20 \cdot 30 \cdot \cos 135^\circ} = \sqrt{1300 + 1200 \cdot \frac{\sqrt{2}}{2}} \\
 &= \sqrt{1300 + 600\sqrt{2}} = \boxed{10\sqrt{13 + 6\sqrt{2}} \text{ N} \approx 46.35 \text{ N}}.
 \end{aligned}$$



b) Suposem que el triangle ABC té un angle $\alpha = \widehat{BAC}$ obtús. En traçar l'altura des de B , obtenim des dels triangles rectangles ABH i CBH ,



$$c^2 = x^2 + y^2, \quad a^2 = (b + x)^2 + y^2, \quad \cos(180^\circ - \alpha) = \frac{x}{c}.$$

llavors,

$$a^2 = b^2 + 2bx + x^2 + y^2 = b^2 + 2bx + c^2 = b^2 + c^2 + 2bc \cos(180^\circ - \alpha) = b^2 + c^2 - 2bc \cos \alpha.$$

7. Resoleu les qüestions següents:

a) Demostreu que

$$\sin(3x) = 3 \sin x \cos^2 x - \sin^3 x.$$

Indicació: Pot ser útil escriure $\sin(3x) = \sin(2x + x)$.

b) Trobeu els valors de x , —en graus, minuts i segons—, tals que

$$\sin(3x) - \sin x = 0.$$

Indicació: Podeu utilitzar l'apartat anterior.

a) Utilitzem les fórmules del sinus de la suma i del sinus i cosinus de l'angle doble.

$$\begin{aligned}
 \sin(3x) &= \sin(2x + x) = \sin(2x) \cos x + \cos(2x) \sin x \\
 &= 2 \sin x \cos x \cos x + (\cos^2 x - \sin^2 x) \sin x = 2 \sin x \cos^2 x + \cos^2 x \sin x - \sin^3 x \\
 &= 3 \sin x \cos^2 x - \sin^3 x.
 \end{aligned}$$

b) Una possible resolució passa per utilitzar la identitat de l'apartat anterior.

$$\begin{aligned}
 \sin(3x) - \sin x = 0 &\iff 3 \sin x \cos^2 x - \sin^3 x - \sin x = 0 \iff \sin x(3 \cos^2 x \sin^2 x - 1) = 0 \\
 &\iff \sin x(3 - 3 \sin^2 x - \sin^2 x - 1) = 0 \iff \sin x(-4 \sin^2 x + 2) = 0 \\
 &\iff \begin{cases} \sin x = 0 \\ \sin x = \frac{\pm\sqrt{2}}{2} \end{cases} \iff \boxed{\begin{matrix} x = n \cdot 180^\circ \\ x = 45^\circ + n \cdot 90^\circ. \end{matrix}}
 \end{aligned}$$