

NOM:

Enunciat 1. Opereu, simplifiqueu i racionalitzeu quan calgui. En els resultats no han d'aparèixer ni exponents fraccionaris o negatius, ni nombres decimals.

$$a) \frac{\sqrt{x^2} \sqrt[3]{x^5}}{\sqrt[4]{x^5}} = x^{\frac{2}{2} + \frac{5}{6} - \frac{5}{4}} = x^{\frac{12+10-15}{12}} = x^{\frac{7}{12}} = \sqrt[12]{x^7}$$

$$b) \frac{2}{\sqrt{3+\sqrt{5}}} = \frac{2}{\sqrt{3+\sqrt{5}}} \cdot \frac{\sqrt{3-\sqrt{5}}}{\sqrt{3-\sqrt{5}}} = \frac{2\sqrt{3-\sqrt{5}}}{\sqrt{9-5}} = \frac{2\sqrt{3-\sqrt{5}}}{2} = \sqrt{3-\sqrt{5}}$$

Enunciat 2. Donat el polinomi $p(x) = 2x^4 - 7x^3 - 7x^2 + 30x$, trobeu les seves arrels, la seva descomposició en factors primers i estudeu el seu signe amb l'ajut de gràfics de rectes i/o paràboles.

Arrels (utilitzeu la regla de Ruffini)

$$\begin{array}{r|rrrrr} 3 & 2 & -7 & -7 & +30 & 0 \\ & & 6 & -3 & -30 & 0 \\ \hline & 2 & -1 & -10 & 0 & 0 \end{array} \rightarrow x=3$$

$$p(x) = x(2x^3 - 7x^2 - 7x + 30) = x(x-3)(2x^2 - x - 10) = 0$$

Per fer la resta d'arrels restant l'equació $2x^2 - x - 10 = 0$ o també $x=0$

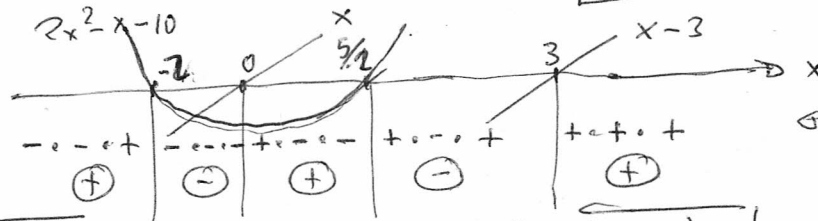
$$x = \frac{1 \pm \sqrt{1+80}}{4} = \frac{1 \pm 9}{4} = \begin{matrix} \rightarrow 5/2 \\ \rightarrow -2 \end{matrix}$$

Finalment, $p(x)=0 \Rightarrow$ les arrels són

$$\left\{ -2, 0, \frac{5}{2}, 3 \right\}$$

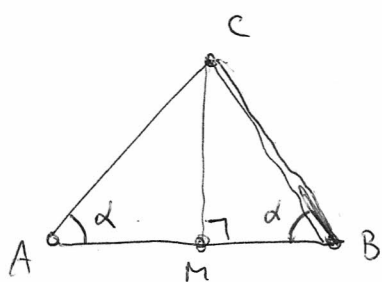
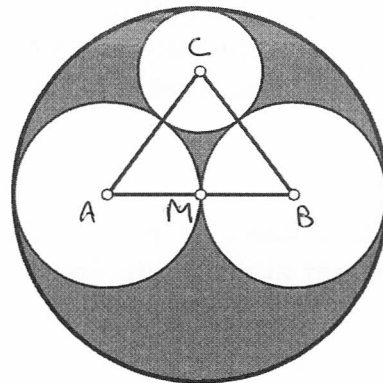
Descomposició: $p(x) = 2x(x-3)(x+2)\left(x-\frac{5}{2}\right) = x(x-3)(x+2)(2x-5)$

Signe:



$$\left\{ \begin{array}{l} p(x) > 0 \Leftrightarrow x \in (-\infty, -2) \cup (0, \frac{5}{2}) \cup (3, +\infty) \\ p(x) < 0 \Leftrightarrow x \in (-2, 0) \cup (\frac{5}{2}, 3) \\ p(x) = 0 \Leftrightarrow x \in \{-2, 0, \frac{5}{2}, 3\} \end{array} \right.$$

Enunciat 3. En la figura adjunta observem quatre cercles tangents dos a dos, junt amb els seus centres. Considereu el radi de la circumferència més gran com a unitat de mesura. Observeu el triangle de la figura i calculeu els seus angles i la seva àrea.



$x =$ radi de la circumferència petita

$$\text{d' llavors, } \begin{cases} BC = \frac{1}{2} + x \\ MC = 1 - x \\ MB = \frac{1}{2} \end{cases}$$

Per tant, si utilitzem el teorema de Pitàgores

$$\left(\frac{1}{2} + x\right)^2 = (1 - x)^2 + \left(\frac{1}{2}\right)^2 \Leftrightarrow \frac{1}{4} + x + x^2 = 1 - 2x + x^2 + \frac{1}{4} \Leftrightarrow x = 1 - 2x$$

$$\Leftrightarrow 3x = 1 \Leftrightarrow x = \frac{1}{3} \Rightarrow MC = 1 - \frac{1}{3} = \frac{2}{3}$$

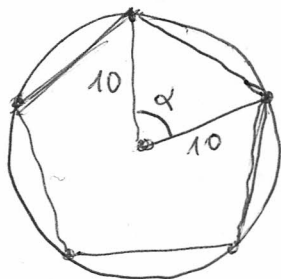
d' llavors, si anomenem $\alpha = \widehat{MAC}$, $\tan \alpha = \frac{MC}{MA} = \frac{2/3}{1/2} = \frac{4}{3}$

$$\Rightarrow \alpha = \tan^{-1}\left(\frac{4}{3}\right) = 53^{\circ} 7' 48.37''$$

$$\widehat{ACB} = 180^{\circ} - 2 \cdot \alpha = 73^{\circ} 44' 23.26''$$

$$\text{Àrea} = \frac{1}{2} AB \cdot MC = \frac{1}{2} \cdot 1 \cdot \frac{2}{3} = \boxed{\frac{1}{3} \text{ u}^2}$$

Enunciat 4. Trobeu l'àrea d'un pentàgon regular inscrit en un cercle de radi $r = 10$.



$$\alpha = \frac{360^{\circ}}{5} = 72^{\circ}$$

$$\text{Àrea} = 5 \cdot \frac{1}{2} \cdot 10 \cdot 10 \cdot \sin \alpha = 250 \cdot \sin 72^{\circ} \approx 237,76 \text{ u}^2$$

Enunciat 5. Calculeu $\sum_{k=0}^{25} (-1)^k \binom{25}{k} \cdot 2^k = \binom{25}{0} - \binom{25}{1} \cdot 2 + \binom{25}{2} \cdot 2^2 - \binom{25}{3} \cdot 2^3 + \dots - \binom{25}{25} \cdot 2^{25}$

Identifiquem amb el desenvolupament de $(a-b)^n$ en pè

$n=25, a=1, b=-2$

llavors, el resultat és $(1-2)^{25} = (-1)^{25} = \boxed{-1}$

Enunciat 6. Resoleu: $\frac{x+2}{x^3-1} - \frac{1}{x-1} = 0$

$$\begin{array}{c|cccc} 1 & 1 & 0 & 0 & -1 \\ & & 1 & 1 & 1 \\ \hline & 1 & 1 & 1 & 0 \end{array} \rightarrow \text{descomposició factorial } \left\{ \begin{array}{l} x^3-1 = (x-1)(x^2+x+1) \end{array} \right.$$

$$\Leftrightarrow \frac{(x+2) - (x^2+x+1)}{(x-1)(x^2+x+1)} = 0$$

$$\downarrow$$

$$-x^2+1=0$$

$$\downarrow$$

$$\begin{array}{l} x^2=1 \\ \downarrow \\ x=1 \\ \downarrow \\ x=-1 \end{array} \rightarrow \text{No és bona perquè anul·la el denominador}$$

Enunciat 7. Trobeu el valor màxim del polinomi $p(x) = 27x - x^3$ per als valors $x \in [0, \sqrt{27}]$.

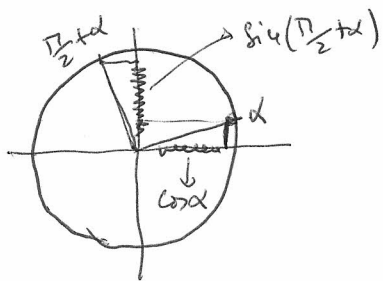
Importem que el valor x_0 ~~després~~ que $p(x_0)$ màxim és anel doble de $p(x) - k = 0$ en pè k és $p(x_0)$.

$$\begin{array}{c|cccc} x_0 & -1 & 0 & 27 & 0 \\ & & -x_0 & -x_0^2 & p(x_0) \\ \hline x_0 & -1 & -x_0 & 27-x_0^2 & p(x_0)=0 \\ & & -x_0 & -2x_0^2 & \\ \hline & -1 & -2x_0 & 27-3x_0^2=0 & \end{array} \Rightarrow x_0^2 = \frac{27}{3} = 9 \Rightarrow x_0 = 3 \Rightarrow p(3) = 81 - 27 = \boxed{54}$$

El valor màxim de $p(x)$ en $[0, \sqrt{27}]$ és 54 i s'assoleix en $x=3$

$$\sin \alpha = 1/7$$

Enunciat 8. Considereu l'angle α tal que $0 < \alpha < \frac{\pi}{2}$. Trobeu, sense calculadora i amb l'ajut de la circumferència trigonomètrica $\sin\left(\frac{\pi}{2} + \alpha\right)$. Trobeu aquest valor, directament des de l'enunciat, amb calculadora.



En el gràfic observem que

$$\sin\left(\frac{\pi}{2} + \alpha\right) = \cos \alpha$$

Alavors en ser $\cos \alpha = \sqrt{1 - \sin^2 \alpha}$, s'obté

$$\sin\left(\frac{\pi}{2} + \alpha\right) = \sqrt{1 - \frac{1}{49}} = \sqrt{\frac{48}{49}} = \frac{4\sqrt{3}}{7}$$

iguals!

Calculadora

$$\left. \begin{array}{l} \sin \alpha = \frac{1}{7} \\ 0 < \alpha < \frac{\pi}{2} \end{array} \right\} \Rightarrow \alpha = 8^\circ 12' 47.56'' \Rightarrow \frac{\pi}{2} + \alpha = 98^\circ 12' 47.56'' \approx 0.9897433186$$